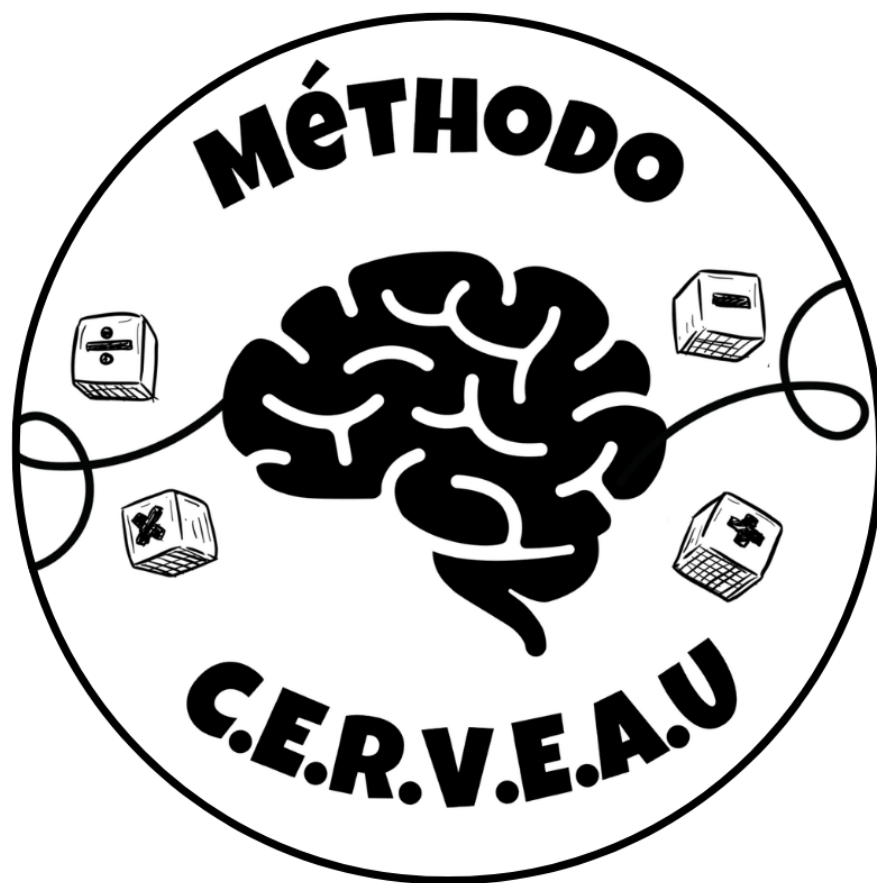


# EN ROUTE VERS LA 6ème



## CM2

**BOUCHER CHLOÉ**  
**DANS MON BERTEL**

## Table des matières

<b>Fiche de suivi – En route vers la 6ème</b> .....	3
Je cherche le tout .....	4
Je cherche une partie .....	30
Proportionnalité .....	44
Numération.....	96
Dénombrement.....	108
Comparaison.....	120
Nombre de parts .....	146
Périmètre .....	156
Valeur d'une part.....	166
L'aire.....	182
Je cherche une heure d'arrivée .....	186

# Fiche de suivi – En route vers la 6ème

## Je cherche le tout

P1*	P2	P3	P4	P5	P6	P7*
P8	P9	P10	P11	P12	P13	

## Je cherche une partie

P1*	P2	P3	P4	P5	P6	P7
-----	----	----	----	----	----	----

## Proportionnalité

P1*	P2	P3	P4	P5	P6*	P7	P8
P9	P10	P11	P12*	P13	P14	P15	P16
P17*	P18	P19	P20	P21	P22*	P23	P24
P25	P26						

## Numération

P27*	P28	P29	P30	P31	P32
------	-----	-----	-----	-----	-----

## Dénombrement

P33*	P34	P35	P36	P37	P38
------	-----	-----	-----	-----	-----

## Comparaison

P39*	P40	P41	P42	P43	P44*	P45
P46	P47*	P48	P49	P50	P51	

## Nombre de parts

P52*	P53	P54	P55	P56
------	-----	-----	-----	-----

## Périmètre

P57*	P58	P59	P60	P61
------	-----	-----	-----	-----

## Valeur d'une part

P62*	P63	P64	P65	P66*	P67	P68	P69
------	-----	-----	-----	------	-----	-----	-----

## L'aire

P70*	P71	P72	P73
------	-----	-----	-----

## Je cherche une heure d'arrivée

P74*	P75	P76	P77	P78
------	-----	-----	-----	-----

<b>Résolution de problèmes</b>	<b>Problème n°1</b>
--------------------------------	---------------------

Lors de son anniversaire, Robin achète 15 bouteilles de jus de fruits de 0,33 L chacune.  
Une bouteille coute 0,76 €. Combien de litres de jus de fruits achète-t-il ?

Comprendre	Entourer	Réfléchir	Vérifier	Ecrire	Attention à l'unité

<b>Résolution de problèmes</b>	<b>Problème n°1</b>
--------------------------------	---------------------

Lors de son anniversaire, Robin achète 15 bouteilles de jus de fruits de 0,33 L chacune.  
Une bouteille coute 0,76 €. Combien de litres de jus de fruits achète-t-il ?

Comprendre	Entourer	Réfléchir	Vérifier	Ecrire	Attention à l'unité

<b>Résolution de problèmes</b>	<b>Problème n°1</b>
--------------------------------	---------------------

Lors de son anniversaire, Robin achète 15 bouteilles de jus de fruits de 0,33 L chacune.  
Une bouteille coute 0,76 €. Combien de litres de jus de fruits achète-t-il ?

Comprendre	Entourer	Réfléchir	Vérifier	Ecrire	Attention à l'unité

<b>Résolution de problèmes</b>	<b>Problème n°1</b>
--------------------------------	---------------------

Lors de son anniversaire, Robin achète 15 bouteilles de jus de fruits de 0,33 L chacune.  
Une bouteille coute 0,76 €. Combien de litres de jus de fruits achète-t-il ?

Comprendre	Entourer	Réfléchir	Vérifier	Ecrire	Attention à l'unité

<b>Résolution de problèmes</b>	<b>Problème n°1</b>
--------------------------------	---------------------

Lors de son anniversaire, Robin achète 15 bouteilles de jus de fruits de 0,33 L chacune.  
Une bouteille coute 0,76 €. Combien de litres de jus de fruits achète-t-il ?

Comprendre	Entourer	Réfléchir	Vérifier	Ecrire	Attention à l'unité

<b>Résolution de problèmes</b>	<b>Problème n°1</b>
--------------------------------	---------------------

Lors de son anniversaire, Robin achète 15 bouteilles de jus de fruits de 0,33 L chacune.  
Une bouteille coute 0,76 €. Combien de litres de jus de fruits achète-t-il ?

Comprendre	Entourer	Réfléchir	Vérifier	Ecrire	Attention à l'unité

**Résolution de problèmes****Problème n°1**

Lors de son anniversaire, Robin achète 15 bouteilles de jus de fruits de 0,33 L chacune. Une bouteille coute 0,76 €. Un de ces calculs ci-dessous permet de trouver le nombre total de litres de jus de fruits. Lequel ?

$15 + 0,33 + 0,76$

$15 \times 0,33$

$15 \times 0,33 \times 0,76$

$15 \times 0,76$

**Résolution de problèmes****Problème n°1**

Lors de son anniversaire, Robin achète 15 bouteilles de jus de fruits de 0,33 L chacune. Une bouteille coute 0,76 €. Un de ces calculs ci-dessous permet de trouver le nombre total de litres de jus de fruits. Lequel ?

$15 + 0,33 + 0,76$

$15 \times 0,33$

$15 \times 0,33 \times 0,76$

$15 \times 0,76$

**Résolution de problèmes****Problème n°1**

Lors de son anniversaire, Robin achète 15 bouteilles de jus de fruits de 0,33 L chacune. Une bouteille coute 0,76 €. Un de ces calculs ci-dessous permet de trouver le nombre total de litres de jus de fruits. Lequel ?

$15 + 0,33 + 0,76$

$15 \times 0,33$

$15 \times 0,33 \times 0,76$

$15 \times 0,76$

**Résolution de problèmes****Problème n°1**

Lors de son anniversaire, Robin achète 15 bouteilles de jus de fruits de 0,33 L chacune. Une bouteille coute 0,76 €. Un de ces calculs ci-dessous permet de trouver le nombre total de litres de jus de fruits. Lequel ?

$15 + 0,33 + 0,76$

$15 \times 0,33$

$15 \times 0,33 \times 0,76$

$15 \times 0,76$

**Résolution de problèmes****Problème n°1**

Lors de son anniversaire, Robin achète 15 bouteilles de jus de fruits de 0,33 L chacune. Une bouteille coute 0,76 €. Un de ces calculs ci-dessous permet de trouver le nombre total de litres de jus de fruits. Lequel ?

$15 + 0,33 + 0,76$

$15 \times 0,33$

$15 \times 0,33 \times 0,76$

$15 \times 0,76$

**Résolution de problèmes****Problème n°1**

Lors de son anniversaire, Robin achète 15 bouteilles de jus de fruits de 0,33 L chacune. Une bouteille coute 0,76 €. Un de ces calculs ci-dessous permet de trouver le nombre total de litres de jus de fruits. Lequel ?

$15 + 0,33 + 0,76$

$15 \times 0,33$

$15 \times 0,33 \times 0,76$

$15 \times 0,76$

**Résolution de problèmes****Problème n°2**

Pour une fête, Léa achète 12 paquets de bonbons de 250 g chacun. Chaque paquet coûte 1,80 €. Combien de grammes de bonbons a-t-elle achetés ?

Comprendre	Entourer	Réfléchir	Vérifier	Ecrire	Attention à l'unité

**Résolution de problèmes****Problème n°2**

Pour une fête, Léa achète 12 paquets de bonbons de 250 g chacun. Chaque paquet coûte 1,80 €. Combien de grammes de bonbons a-t-elle achetés ?

Comprendre	Entourer	Réfléchir	Vérifier	Ecrire	Attention à l'unité

**Résolution de problèmes****Problème n°2**

Pour une fête, Léa achète 12 paquets de bonbons de 250 g chacun. Chaque paquet coûte 1,80 €. Combien de grammes de bonbons a-t-elle achetés ?

Comprendre	Entourer	Réfléchir	Vérifier	Ecrire	Attention à l'unité

**Résolution de problèmes****Problème n°2**

Pour une fête, Léa achète 12 paquets de bonbons de 250 g chacun. Chaque paquet coûte 1,80 €. Combien de grammes de bonbons a-t-elle achetés ?

Comprendre	Entourer	Réfléchir	Vérifier	Ecrire	Attention à l'unité

**Résolution de problèmes****Problème n°2**

Pour une fête, Léa achète 12 paquets de bonbons de 250 g chacun. Chaque paquet coûte 1,80 €. Combien de grammes de bonbons a-t-elle achetés ?

Comprendre	Entourer	Réfléchir	Vérifier	Ecrire	Attention à l'unité

**Résolution de problèmes****Problème n°2**

Pour une fête, Léa achète 12 paquets de bonbons de 250 g chacun. Chaque paquet coûte 1,80 €. Combien de grammes de bonbons a-t-elle achetés ?

Comprendre	Entourer	Réfléchir	Vérifier	Ecrire	Attention à l'unité

**Résolution de problèmes****Problème n°2**

Pour une fête, Léa achète 12 paquets de bonbons de 250 g chacun. Chaque paquet coûte 1,80 €. Combien de grammes de bonbons a-t-elle achetés ?

 3 000 g 262 g 442 g 2 500 g**Résolution de problèmes****Problème n°2**

Pour une fête, Léa achète 12 paquets de bonbons de 250 g chacun. Chaque paquet coûte 1,80 €. Combien de grammes de bonbons a-t-elle achetés ?

 3 000 g 262 g 442 g 2 500 g**Résolution de problèmes****Problème n°2**

Pour une fête, Léa achète 12 paquets de bonbons de 250 g chacun. Chaque paquet coûte 1,80 €. Combien de grammes de bonbons a-t-elle achetés ?

 3 000 g 262 g 442 g 2 500 g**Résolution de problèmes****Problème n°2**

Pour une fête, Léa achète 12 paquets de bonbons de 250 g chacun. Chaque paquet coûte 1,80 €. Combien de grammes de bonbons a-t-elle achetés ?

 3 000 g 262 g 442 g 2 500 g**Résolution de problèmes****Problème n°2**

Pour une fête, Léa achète 12 paquets de bonbons de 250 g chacun. Chaque paquet coûte 1,80 €. Combien de grammes de bonbons a-t-elle achetés ?

 3 000 g 262 g 442 g 2 500 g**Résolution de problèmes****Problème n°2**

Pour une fête, Léa achète 12 paquets de bonbons de 250 g chacun. Chaque paquet coûte 1,80 €. Combien de grammes de bonbons a-t-elle achetés ?

 3 000 g 262 g 442 g 2 500 g**Résolution de problèmes****Problème n°2**

Pour une fête, Léa achète 12 paquets de bonbons de 250 g chacun. Chaque paquet coûte 1,80 €. Combien de grammes de bonbons a-t-elle achetés ?

 3 000 g 262 g 442 g 2 500 g

**Résolution de problèmes****Problème n°3**

Tom prépare un pique-nique et prend 8 bouteilles d'eau de 1,5 L chacune. Chaque bouteille coûte 1,35 euros. Combien de litres d'eau a-t-il pris ?

Comprendre	Entourer	Réfléchir	Vérifier	Ecrire	Attention à l'unité

**Résolution de problèmes****Problème n°3**

Tom prépare un pique-nique et prend 8 bouteilles d'eau de 1,5 L chacune. Chaque bouteille coûte 1,35 euros. Combien de litres d'eau a-t-il pris ?

Comprendre	Entourer	Réfléchir	Vérifier	Ecrire	Attention à l'unité

**Résolution de problèmes****Problème n°3**

Tom prépare un pique-nique et prend 8 bouteilles d'eau de 1,5 L chacune. Chaque bouteille coûte 1,35 euros. Combien de litres d'eau a-t-il pris ?

Comprendre	Entourer	Réfléchir	Vérifier	Ecrire	Attention à l'unité

**Résolution de problèmes****Problème n°3**

Tom prépare un pique-nique et prend 8 bouteilles d'eau de 1,5 L chacune. Chaque bouteille coûte 1,35 euros. Combien de litres d'eau a-t-il pris ?

Comprendre	Entourer	Réfléchir	Vérifier	Ecrire	Attention à l'unité

**Résolution de problèmes****Problème n°3**

Tom prépare un pique-nique et prend 8 bouteilles d'eau de 1,5 L chacune. Chaque bouteille coûte 1,35 euros. Combien de litres d'eau a-t-il pris ?

Comprendre	Entourer	Réfléchir	Vérifier	Ecrire	Attention à l'unité

**Résolution de problèmes****Problème n°3**

Tom prépare un pique-nique et prend 8 bouteilles d'eau de 1,5 L chacune. Chaque bouteille coûte 1,35 euros. Combien de litres d'eau a-t-il pris ?

Comprendre	Entourer	Réfléchir	Vérifier	Ecrire	Attention à l'unité

**Résolution de problèmes****Problème n°3**

Tom prépare un pique-nique et prend 8 bouteilles d'eau de 1,5 L chacune. Chaque bouteille coûte 1,35 euros. Combien de litres d'eau a-t-il pris ?

 120 L 12 L 10,85 L 2,25 L**Résolution de problèmes****Problème n°3**

Tom prépare un pique-nique et prend 8 bouteilles d'eau de 1,5 L chacune. Chaque bouteille coûte 1,35 euros. Combien de litres d'eau a-t-il pris ?

 120 L 12 L 10,85 L 2,25 L**Résolution de problèmes****Problème n°3**

Tom prépare un pique-nique et prend 8 bouteilles d'eau de 1,5 L chacune. Chaque bouteille coûte 1,35 euros. Combien de litres d'eau a-t-il pris ?

 120 L 12 L 10,85 L 2,25 L**Résolution de problèmes****Problème n°3**

Tom prépare un pique-nique et prend 8 bouteilles d'eau de 1,5 L chacune. Chaque bouteille coûte 1,35 euros. Combien de litres d'eau a-t-il pris ?

 120 L 12 L 10,85 L 2,25 L**Résolution de problèmes****Problème n°3**

Tom prépare un pique-nique et prend 8 bouteilles d'eau de 1,5 L chacune. Chaque bouteille coûte 1,35 euros. Combien de litres d'eau a-t-il pris ?

 120 L 12 L 10,85 L 2,25 L**Résolution de problèmes****Problème n°3**

Tom prépare un pique-nique et prend 8 bouteilles d'eau de 1,5 L chacune. Chaque bouteille coûte 1,35 euros. Combien de litres d'eau a-t-il pris ?

 120 L 12 L 10,85 L 2,25 L**Résolution de problèmes****Problème n°3**

Tom prépare un pique-nique et prend 8 bouteilles d'eau de 1,5 L chacune. Chaque bouteille coûte 1,35 euros. Combien de litres d'eau a-t-il pris ?

 120 L 12 L 10,85 L 2,25 L

**Résolution de problèmes****Problème n°4**

Chloé achète 11 bouteilles de soda de 1,25 L chacune. Chaque bouteille coûte 2,05 euros. Combien de litres de soda a-t-elle achetés ?

Comprendre	Entourer	Réfléchir	Vérifier	Ecrire	Attention à l'unité

**Résolution de problèmes****Problème n°4**

Chloé achète 11 bouteilles de soda de 1,25 L chacune. Chaque bouteille coûte 2,05 euros. Combien de litres de soda a-t-elle achetés ?

Comprendre	Entourer	Réfléchir	Vérifier	Ecrire	Attention à l'unité

**Résolution de problèmes****Problème n°4**

Chloé achète 11 bouteilles de soda de 1,25 L chacune. Chaque bouteille coûte 2,05 euros. Combien de litres de soda a-t-elle achetés ?

Comprendre	Entourer	Réfléchir	Vérifier	Ecrire	Attention à l'unité

**Résolution de problèmes****Problème n°4**

Chloé achète 11 bouteilles de soda de 1,25 L chacune. Chaque bouteille coûte 2,05 euros. Combien de litres de soda a-t-elle achetés ?

Comprendre	Entourer	Réfléchir	Vérifier	Ecrire	Attention à l'unité

**Résolution de problèmes****Problème n°4**

Chloé achète 11 bouteilles de soda de 1,25 L chacune. Chaque bouteille coûte 2,05 euros. Combien de litres de soda a-t-elle achetés ?

Comprendre	Entourer	Réfléchir	Vérifier	Ecrire	Attention à l'unité

**Résolution de problèmes****Problème n°4**

Chloé achète 11 bouteilles de soda de 1,25 L chacune. Chaque bouteille coûte 2,05 euros. Combien de litres de soda a-t-elle achetés ?

Comprendre	Entourer	Réfléchir	Vérifier	Ecrire	Attention à l'unité

**Résolution de problèmes****Problème n°4**

Chloé achète 11 bouteilles de soda de 1,25 L chacune. Chaque bouteille coûte 2,05 euros. Combien de litres de soda a-t-elle achetés ?

 1375 L 14,3 L 13,75 L 2,56 L

**Résolution de problèmes****Problème n°4**

Chloé achète 11 bouteilles de soda de 1,25 L chacune. Chaque bouteille coûte 2,05 euros. Combien de litres de soda a-t-elle achetés ?

 1375 L 14,3 L 13,75 L 2,56 L**Résolution de problèmes****Problème n°4**

Chloé achète 11 bouteilles de soda de 1,25 L chacune. Chaque bouteille coûte 2,05 euros. Combien de litres de soda a-t-elle achetés ?

 1375 L 14,3 L 13,75 L 2,56 L**Résolution de problèmes****Problème n°4**

Chloé achète 11 bouteilles de soda de 1,25 L chacune. Chaque bouteille coûte 2,05 euros. Combien de litres de soda a-t-elle achetés ?

 1375 L 14,3 L 13,75 L 2,56 L**Résolution de problèmes****Problème n°4**

Chloé achète 11 bouteilles de soda de 1,25 L chacune. Chaque bouteille coûte 2,05 euros. Combien de litres de soda a-t-elle achetés ?

 1375 L 14,3 L 13,75 L 2,56 L**Résolution de problèmes****Problème n°4**

Chloé achète 11 bouteilles de soda de 1,25 L chacune. Chaque bouteille coûte 2,05 euros. Combien de litres de soda a-t-elle achetés ?

 1375 L 14,3 L 13,75 L 2,56 L**Résolution de problèmes****Problème n°4**

Chloé achète 11 bouteilles de soda de 1,25 L chacune. Chaque bouteille coûte 2,05 euros. Combien de litres de soda a-t-elle achetés ?

 1375 L 14,3 L 13,75 L 2,56 L**Résolution de problèmes****Problème n°5**

Lucas prend 7 paquets de riz de 0,75 kg chacun. Un paquet coûte 4,56 euros. Combien de kilogrammes de riz a-t-il achetés ?

Comprendre	Entourer	Réfléchir	Vérifier	Ecrire	Attention à l'unité

**Résolution de problèmes**
**Problème n°5**

Lucas prend 7 paquets de riz de 0,75 kg chacun. Un paquet coûte 4,56 euros.  
Combien de kilogrammes de riz a-t-il achetés ?

Comprendre	Entourer	Réfléchir	Vérifier	Ecrire	Attention à l'unité

**Résolution de problèmes**
**Problème n°5**

Lucas prend 7 paquets de riz de 0,75 kg chacun. Un paquet coûte 4,56 euros.  
Combien de kilogrammes de riz a-t-il achetés ?

Comprendre	Entourer	Réfléchir	Vérifier	Ecrire	Attention à l'unité

**Résolution de problèmes**
**Problème n°5**

Lucas prend 7 paquets de riz de 0,75 kg chacun. Un paquet coûte 4,56 euros.  
Combien de kilogrammes de riz a-t-il achetés ?

Comprendre	Entourer	Réfléchir	Vérifier	Ecrire	Attention à l'unité

**Résolution de problèmes**
**Problème n°5**

Lucas prend 7 paquets de riz de 0,75 kg chacun. Un paquet coûte 4,56 euros.  
Combien de kilogrammes de riz a-t-il achetés ?

Comprendre	Entourer	Réfléchir	Vérifier	Ecrire	Attention à l'unité

**Résolution de problèmes**
**Problème n°5**

Lucas prend 7 paquets de riz de 0,75 kg chacun. Un paquet coûte 4,56 euros.  
Combien de kilogrammes de riz a-t-il achetés ?

Comprendre	Entourer	Réfléchir	Vérifier	Ecrire	Attention à l'unité

**Résolution de problèmes**
**Problème n°5**

Lucas prend 7 paquets de riz de 0,75 kg chacun. Un paquet coûte 4,56 euros.  
Combien de kilogrammes de riz a-t-il achetés ?

5,31 kg     34,2 kg     52,5 kg     5,25 kg

Résolution de problèmes

Problème n°5

Lucas prend 7 paquets de riz de 0,75 kg chacun. Un paquet coûte 4,56 euros.  
Combien de kilogrammes de riz a-t-il achetés ?

5,31 kg     34,2 kg     52,5 kg     5,25 kg

Résolution de problèmes

Problème n°5

Lucas prend 7 paquets de riz de 0,75 kg chacun. Un paquet coûte 4,56 euros.  
Combien de kilogrammes de riz a-t-il achetés ?

5,31 kg     34,2 kg     52,5 kg     5,25 kg

Résolution de problèmes

Problème n°5

Lucas prend 7 paquets de riz de 0,75 kg chacun. Un paquet coûte 4,56 euros.  
Combien de kilogrammes de riz a-t-il achetés ?

5,31 kg     34,2 kg     52,5 kg     5,25 kg

Résolution de problèmes

Problème n°5

Lucas prend 7 paquets de riz de 0,75 kg chacun. Un paquet coûte 4,56 euros.  
Combien de kilogrammes de riz a-t-il achetés ?

5,31 kg     34,2 kg     52,5 kg     5,25 kg

Résolution de problèmes

Problème n°5

Lucas prend 7 paquets de riz de 0,75 kg chacun. Un paquet coûte 4,56 euros.  
Combien de kilogrammes de riz a-t-il achetés ?

5,31 kg     34,2 kg     52,5 kg     5,25 kg

Résolution de problèmes

Problème n°5

Lucas prend 7 paquets de riz de 0,75 kg chacun. Un paquet coûte 4,56 euros.  
Combien de kilogrammes de riz a-t-il achetés ?

5,31 kg     34,2 kg     52,5 kg     5,25 kg

Résolution de problèmes

Problème n°6

Hugo achète 8 pots de yaourt de 0,125 kg chacun. Les 8 pots coûtent 3,20 euros.  
Combien de kilogrammes de yaourt a-t-il achetés ?

Comprendre	Entourer	Réfléchir	Vérifier	Ecrire	Attention à l'unité

**Résolution de problèmes**

**Problème n°6**

Hugo achète 8 pots de yaourt de 0,125 kg chacun. Les 8 pots coûtent 3,20 euros.  
Combien de kilogrammes de yaourt a-t-il achetés ?

Comprendre	Entourer	Réfléchir	Vérifier	Ecrire	Attention à l'unité

**Résolution de problèmes**

**Problème n°6**

Hugo achète 8 pots de yaourt de 0,125 kg chacun. Les 8 pots coûtent 3,20 euros.  
Combien de kilogrammes de yaourt a-t-il achetés ?

Comprendre	Entourer	Réfléchir	Vérifier	Ecrire	Attention à l'unité

**Résolution de problèmes**

**Problème n°6**

Hugo achète 8 pots de yaourt de 0,125 kg chacun. Les 8 pots coûtent 3,20 euros.  
Combien de kilogrammes de yaourt a-t-il achetés ?

Comprendre	Entourer	Réfléchir	Vérifier	Ecrire	Attention à l'unité

**Résolution de problèmes**

**Problème n°6**

Hugo achète 8 pots de yaourt de 0,125 kg chacun. Les 8 pots coûtent 3,20 euros.  
Combien de kilogrammes de yaourt a-t-il achetés ?

Comprendre	Entourer	Réfléchir	Vérifier	Ecrire	Attention à l'unité

**Résolution de problèmes**

**Problème n°6**

Hugo achète 8 pots de yaourt de 0,125 kg chacun. Les 8 pots coûtent 3,20 euros.  
Combien de kilogrammes de yaourt a-t-il achetés ?

Comprendre	Entourer	Réfléchir	Vérifier	Ecrire	Attention à l'unité

**Résolution de problèmes****Problème n°6**

Hugo achète 8 pots de yaourt de 0,125 kg chacun. Les 8 pots coûtent 3,20 euros.  
Combien de kilogrammes de yaourt a-t-il achetés ?

3,325 kg    1 kg    10 kg    2,56 kg

**Résolution de problèmes****Problème n°6**

Hugo achète 8 pots de yaourt de 0,125 kg chacun. Les 8 pots coûtent 3,20 euros.  
Combien de kilogrammes de yaourt a-t-il achetés ?

3,325 kg    1 kg    10 kg    2,56 kg

**Résolution de problèmes****Problème n°6**

Hugo achète 8 pots de yaourt de 0,125 kg chacun. Les 8 pots coûtent 3,20 euros.  
Combien de kilogrammes de yaourt a-t-il achetés ?

3,325 kg    1 kg    10 kg    2,56 kg

**Résolution de problèmes****Problème n°6**

Hugo achète 8 pots de yaourt de 0,125 kg chacun. Les 8 pots coûtent 3,20 euros.  
Combien de kilogrammes de yaourt a-t-il achetés ?

3,325 kg    1 kg    10 kg    2,56 kg

**Résolution de problèmes****Problème n°6**

Hugo achète 8 pots de yaourt de 0,125 kg chacun. Les 8 pots coûtent 3,20 euros.  
Combien de kilogrammes de yaourt a-t-il achetés ?

3,325 kg    1 kg    10 kg    2,56 kg

**Résolution de problèmes****Problème n°6**

Hugo achète 8 pots de yaourt de 0,125 kg chacun. Les 8 pots coûtent 3,20 euros.  
Combien de kilogrammes de yaourt a-t-il achetés ?

3,325 kg    1 kg    10 kg    2,56 kg

**Résolution de problèmes****Problème n°6**

Hugo achète 8 pots de yaourt de 0,125 kg chacun. Les 8 pots coûtent 3,20 euros.  
Combien de kilogrammes de yaourt a-t-il achetés ?

3,325 kg    1 kg    10 kg    2,56 kg

**Résolution de problèmes****Problème n°7**

Un centre de vacances propose des séjours à 50 euros par personne et par jour. Une famille de trois personnes y passe sept jours. Combien lui coutera ce séjour ?

Comprendre	Entourer	Réfléchir	Vérifier	Ecrire	Attention à l'unité

**Résolution de problèmes****Problème n°7**

Un centre de vacances propose des séjours à 50 euros par personne et par jour. Une famille de trois personnes y passe sept jours. Combien lui coutera ce séjour ?

Comprendre	Entourer	Réfléchir	Vérifier	Ecrire	Attention à l'unité

**Résolution de problèmes****Problème n°7**

Un centre de vacances propose des séjours à 50 euros par personne et par jour. Une famille de trois personnes y passe sept jours. Combien lui coutera ce séjour ?

Comprendre	Entourer	Réfléchir	Vérifier	Ecrire	Attention à l'unité

**Résolution de problèmes****Problème n°7**

Un centre de vacances propose des séjours à 50 euros par personne et par jour. Une famille de trois personnes y passe sept jours. Combien lui coutera ce séjour ?

Comprendre	Entourer	Réfléchir	Vérifier	Ecrire	Attention à l'unité

**Résolution de problèmes****Problème n°7**

Un centre de vacances propose des séjours à 50 euros par personne et par jour. Une famille de trois personnes y passe sept jours. Combien lui coutera ce séjour ?

Comprendre	Entourer	Réfléchir	Vérifier	Ecrire	Attention à l'unité

**Résolution de problèmes****Problème n°7**

Un centre de vacances propose des séjours à 50 euros par personne et par jour. Une famille de trois personnes y passe sept jours. Combien lui coutera ce séjour ?

Comprendre	Entourer	Réfléchir	Vérifier	Ecrire	Attention à l'unité

**Résolution de problèmes****Problème n°7**

Un centre de vacances propose des séjours à 50 euros par personne et par jour. Une famille de trois personnes y passe sept jours. Combien lui coutera ce séjour ?

 150 euros 1 050 euros 350 euros 500 euros**Résolution de problèmes****Problème n°7**

Un centre de vacances propose des séjours à 50 euros par personne et par jour. Une famille de trois personnes y passe sept jours. Combien lui coutera ce séjour ?

 150 euros 1 050 euros 350 euros 500 euros**Résolution de problèmes****Problème n°7**

Un centre de vacances propose des séjours à 50 euros par personne et par jour. Une famille de trois personnes y passe sept jours. Combien lui coutera ce séjour ?

 150 euros 1 050 euros 350 euros 500 euros**Résolution de problèmes****Problème n°7**

Un centre de vacances propose des séjours à 50 euros par personne et par jour. Une famille de trois personnes y passe sept jours. Combien lui coutera ce séjour ?

 150 euros 1 050 euros 350 euros 500 euros**Résolution de problèmes****Problème n°7**

Un centre de vacances propose des séjours à 50 euros par personne et par jour. Une famille de trois personnes y passe sept jours. Combien lui coutera ce séjour ?

 150 euros 1 050 euros 350 euros 500 euros**Résolution de problèmes****Problème n°7**

Un centre de vacances propose des séjours à 50 euros par personne et par jour. Une famille de trois personnes y passe sept jours. Combien lui coutera ce séjour ?

 150 euros 1 050 euros 350 euros 500 euros**Résolution de problèmes****Problème n°7**

Un centre de vacances propose des séjours à 50 euros par personne et par jour. Une famille de trois personnes y passe sept jours. Combien lui coutera ce séjour ?

 150 euros 1 050 euros 350 euros 500 euros

**Résolution de problèmes****Problème n°8**

Un cinéma propose un abonnement à 12 € par personne et par mois. Une famille de 4 personnes s'abonne pendant 6 mois. Combien cela leur coûte-t-il ?

Comprendre	Entourer	Réfléchir	Vérifier	Ecrire	Attention à l'unité

**Résolution de problèmes****Problème n°8**

Un cinéma propose un abonnement à 12 € par personne et par mois. Une famille de 4 personnes s'abonne pendant 6 mois. Combien cela leur coûte-t-il ?

Comprendre	Entourer	Réfléchir	Vérifier	Ecrire	Attention à l'unité

**Résolution de problèmes****Problème n°8**

Un cinéma propose un abonnement à 12 € par personne et par mois. Une famille de 4 personnes s'abonne pendant 6 mois. Combien cela leur coûte-t-il ?

Comprendre	Entourer	Réfléchir	Vérifier	Ecrire	Attention à l'unité

**Résolution de problèmes****Problème n°8**

Un cinéma propose un abonnement à 12 € par personne et par mois. Une famille de 4 personnes s'abonne pendant 6 mois. Combien cela leur coûte-t-il ?

Comprendre	Entourer	Réfléchir	Vérifier	Ecrire	Attention à l'unité

**Résolution de problèmes****Problème n°8**

Un cinéma propose un abonnement à 12 € par personne et par mois. Une famille de 4 personnes s'abonne pendant 6 mois. Combien cela leur coûte-t-il ?

Comprendre	Entourer	Réfléchir	Vérifier	Ecrire	Attention à l'unité

**Résolution de problèmes****Problème n°8**

Un cinéma propose un abonnement à 12 € par personne et par mois. Une famille de 4 personnes s'abonne pendant 6 mois. Combien cela leur coûte-t-il ?

Comprendre	Entourer	Réfléchir	Vérifier	Ecrire	Attention à l'unité

**Résolution de problèmes****Problème n°8**

Un cinéma propose un abonnement à 12 € par personne et par mois. Une famille de 4 personnes s'abonne pendant 6 mois. Combien cela leur coûte-t-il ?

 288 € 56 € 24 € 72 €**Résolution de problèmes****Problème n°8**

Un cinéma propose un abonnement à 12 € par personne et par mois. Une famille de 4 personnes s'abonne pendant 6 mois. Combien cela leur coûte-t-il ?

 288 € 56 € 24 € 72 €**Résolution de problèmes****Problème n°8**

Un cinéma propose un abonnement à 12 € par personne et par mois. Une famille de 4 personnes s'abonne pendant 6 mois. Combien cela leur coûte-t-il ?

 288 € 56 € 24 € 72 €**Résolution de problèmes****Problème n°8**

Un cinéma propose un abonnement à 12 € par personne et par mois. Une famille de 4 personnes s'abonne pendant 6 mois. Combien cela leur coûte-t-il ?

 288 € 56 € 24 € 72 €**Résolution de problèmes****Problème n°8**

Un cinéma propose un abonnement à 12 € par personne et par mois. Une famille de 4 personnes s'abonne pendant 6 mois. Combien cela leur coûte-t-il ?

 288 € 56 € 24 € 72 €**Résolution de problèmes****Problème n°8**

Un cinéma propose un abonnement à 12 € par personne et par mois. Une famille de 4 personnes s'abonne pendant 6 mois. Combien cela leur coûte-t-il ?

 288 € 56 € 24 € 72 €**Résolution de problèmes****Problème n°8**

Un cinéma propose un abonnement à 12 € par personne et par mois. Une famille de 4 personnes s'abonne pendant 6 mois. Combien cela leur coûte-t-il ?

 288 € 56 € 24 € 72 €

**Résolution de problèmes****Problème n°9**

Un parking coûte 2 € par heure. Une voiture y reste garée pendant 26 heures.  
Combien le stationnement coûte-t-il ?

Comprendre	Entourer	Réfléchir	Vérifier	Ecrire	Attention à l'unité

**Résolution de problèmes****Problème n°9**

Un parking coûte 2 € par heure. Une voiture y reste garée pendant 26 heures.  
Combien le stationnement coûte-t-il ?

Comprendre	Entourer	Réfléchir	Vérifier	Ecrire	Attention à l'unité

**Résolution de problèmes****Problème n°9**

Un parking coûte 2 € par heure. Une voiture y reste garée pendant 26 heures.  
Combien le stationnement coûte-t-il ?

Comprendre	Entourer	Réfléchir	Vérifier	Ecrire	Attention à l'unité

**Résolution de problèmes****Problème n°9**

Un parking coûte 2 € par heure. Une voiture y reste garée pendant 26 heures.  
Combien le stationnement coûte-t-il ?

Comprendre	Entourer	Réfléchir	Vérifier	Ecrire	Attention à l'unité

**Résolution de problèmes****Problème n°9**

Un parking coûte 2 € par heure. Une voiture y reste garée pendant 26 heures.  
Combien le stationnement coûte-t-il ?

Comprendre	Entourer	Réfléchir	Vérifier	Ecrire	Attention à l'unité

**Résolution de problèmes****Problème n°9**

Un parking coûte 2 € par heure. Une voiture y reste garée pendant 26 heures.  
Combien le stationnement coûte-t-il ?

Comprendre	Entourer	Réfléchir	Vérifier	Ecrire	Attention à l'unité

**Résolution de problèmes****Problème n°9**

Un parking coûte 2 € par heure. Une voiture y reste garée pendant 26 heures.  
Combien le stationnement coûte-t-il ?

 58 € 52 € 28 € 24 €**Résolution de problèmes****Problème n°9**

Un parking coûte 2 € par heure. Une voiture y reste garée pendant 26 heures.  
Combien le stationnement coûte-t-il ?

 58 € 52 € 28 € 24 €**Résolution de problèmes****Problème n°9**

Un parking coûte 2 € par heure. Une voiture y reste garée pendant 26 heures.  
Combien le stationnement coûte-t-il ?

 58 € 52 € 28 € 24 €**Résolution de problèmes****Problème n°9**

Un parking coûte 2 € par heure. Une voiture y reste garée pendant 26 heures.  
Combien le stationnement coûte-t-il ?

 58 € 52 € 28 € 24 €**Résolution de problèmes****Problème n°9**

Un parking coûte 2 € par heure. Une voiture y reste garée pendant 26 heures.  
Combien le stationnement coûte-t-il ?

 58 € 52 € 28 € 24 €**Résolution de problèmes****Problème n°9**

Un parking coûte 2 € par heure. Une voiture y reste garée pendant 26 heures.  
Combien le stationnement coûte-t-il ?

 58 € 52 € 28 € 24 €**Résolution de problèmes****Problème n°9**

Un parking coûte 2 € par heure. Une voiture y reste garée pendant 26 heures.  
Combien le stationnement coûte-t-il ?

 58 € 52 € 28 € 24 €

**Résolution de problèmes****Problème n°10**

Une colonie de vacances facture 35 € par enfant et par jour. Un groupe de 8 enfants reste 5 jours. Combien cela coûte-t-il ?

Comprendre	Entourer	Réfléchir	Vérifier	Ecrire	Attention à l'unité

**Résolution de problèmes****Problème n°10**

Une colonie de vacances facture 35 € par enfant et par jour. Un groupe de 8 enfants reste 5 jours. Combien cela coûte-t-il ?

Comprendre	Entourer	Réfléchir	Vérifier	Ecrire	Attention à l'unité

**Résolution de problèmes****Problème n°10**

Une colonie de vacances facture 35 € par enfant et par jour. Un groupe de 8 enfants reste 5 jours. Combien cela coûte-t-il ?

Comprendre	Entourer	Réfléchir	Vérifier	Ecrire	Attention à l'unité

**Résolution de problèmes****Problème n°10**

Une colonie de vacances facture 35 € par enfant et par jour. Un groupe de 8 enfants reste 5 jours. Combien cela coûte-t-il ?

Comprendre	Entourer	Réfléchir	Vérifier	Ecrire	Attention à l'unité

**Résolution de problèmes****Problème n°10**

Une colonie de vacances facture 35 € par enfant et par jour. Un groupe de 8 enfants reste 5 jours. Combien cela coûte-t-il ?

Comprendre	Entourer	Réfléchir	Vérifier	Ecrire	Attention à l'unité

**Résolution de problèmes****Problème n°10**

Une colonie de vacances facture 35 € par enfant et par jour. Un groupe de 8 enfants reste 5 jours. Combien cela coûte-t-il ?

Comprendre	Entourer	Réfléchir	Vérifier	Ecrire	Attention à l'unité

**Résolution de problèmes****Problème n°10**

Une colonie de vacances facture 35 € par enfant et par jour. Un groupe de 8 enfants reste 5 jours. Combien cela coûte-t-il ?

 215 € 175 € 280 € 1 400€**Résolution de problèmes****Problème n°10**

Une colonie de vacances facture 35 € par enfant et par jour. Un groupe de 8 enfants reste 5 jours. Combien cela coûte-t-il ?

 215 € 175 € 280 € 1 400€**Résolution de problèmes****Problème n°10**

Une colonie de vacances facture 35 € par enfant et par jour. Un groupe de 8 enfants reste 5 jours. Combien cela coûte-t-il ?

 215 € 175 € 280 € 1 400€**Résolution de problèmes****Problème n°10**

Une colonie de vacances facture 35 € par enfant et par jour. Un groupe de 8 enfants reste 5 jours. Combien cela coûte-t-il ?

 215 € 175 € 280 € 1 400€**Résolution de problèmes****Problème n°10**

Une colonie de vacances facture 35 € par enfant et par jour. Un groupe de 8 enfants reste 5 jours. Combien cela coûte-t-il ?

 215 € 175 € 280 € 1 400€**Résolution de problèmes****Problème n°10**

Une colonie de vacances facture 35 € par enfant et par jour. Un groupe de 8 enfants reste 5 jours. Combien cela coûte-t-il ?

 215 € 175 € 280 € 1 400€**Résolution de problèmes****Problème n°10**

Une colonie de vacances facture 35 € par enfant et par jour. Un groupe de 8 enfants reste 5 jours. Combien cela coûte-t-il ?

 215 € 175 € 280 € 1 400€

**Résolution de problèmes****Problème n°11**

Un club de sport demande 18 € par personne et par séance. 5 amis participent à 4 séances. Combien vont-ils payer ?

Comprendre	Entourer	Réfléchir	Vérifier	Ecrire	Attention à l'unité

**Résolution de problèmes****Problème n°11**

Un club de sport demande 18 € par personne et par séance. 5 amis participent à 4 séances. Combien vont-ils payer ?

Comprendre	Entourer	Réfléchir	Vérifier	Ecrire	Attention à l'unité

**Résolution de problèmes****Problème n°11**

Un club de sport demande 18 € par personne et par séance. 5 amis participent à 4 séances. Combien vont-ils payer ?

Comprendre	Entourer	Réfléchir	Vérifier	Ecrire	Attention à l'unité

**Résolution de problèmes****Problème n°11**

Un club de sport demande 18 € par personne et par séance. 5 amis participent à 4 séances. Combien vont-ils payer ?

Comprendre	Entourer	Réfléchir	Vérifier	Ecrire	Attention à l'unité

**Résolution de problèmes****Problème n°11**

Un club de sport demande 18 € par personne et par séance. 5 amis participent à 4 séances. Combien vont-ils payer ?

Comprendre	Entourer	Réfléchir	Vérifier	Ecrire	Attention à l'unité

**Résolution de problèmes****Problème n°11**

Un club de sport demande 18 € par personne et par séance. 5 amis participent à 4 séances. Combien vont-ils payer ?

Comprendre	Entourer	Réfléchir	Vérifier	Ecrire	Attention à l'unité

**Résolution de problèmes****Problème n°11**

Un club de sport demande 18 € par personne et par séance. 5 amis participent à 4 séances. Combien vont-ils payer ?

 360 € 94 € 38 € 270 €**Résolution de problèmes****Problème n°11**

Un club de sport demande 18 € par personne et par séance. 5 amis participent à 4 séances. Combien vont-ils payer ?

 360 € 94 € 38 € 270 €**Résolution de problèmes****Problème n°11**

Un club de sport demande 18 € par personne et par séance. 5 amis participent à 4 séances. Combien vont-ils payer ?

 360 € 94 € 38 € 270 €**Résolution de problèmes****Problème n°11**

Un club de sport demande 18 € par personne et par séance. 5 amis participent à 4 séances. Combien vont-ils payer ?

 360 € 94 € 38 € 270 €**Résolution de problèmes****Problème n°11**

Un club de sport demande 18 € par personne et par séance. 5 amis participent à 4 séances. Combien vont-ils payer ?

 360 € 94 € 38 € 270 €**Résolution de problèmes****Problème n°11**

Un club de sport demande 18 € par personne et par séance. 5 amis participent à 4 séances. Combien vont-ils payer ?

 360 € 94 € 38 € 270 €**Résolution de problèmes****Problème n°11**

Un club de sport demande 18 € par personne et par séance. 5 amis participent à 4 séances. Combien vont-ils payer ?

 360 € 94 € 38 € 270 €

**Résolution de problèmes****Problème n°12**

Une cantine scolaire facture 4 € par repas. Un élève y mange 5 jours par semaine pendant 3 semaines. Combien la famille va-t-elle payer ?

Comprendre	Entourer	Réfléchir	Vérifier	Ecrire	Attention à l'unité

**Résolution de problèmes****Problème n°12**

Une cantine scolaire facture 4 € par repas. Un élève y mange 5 jours par semaine pendant 3 semaines. Combien la famille va-t-elle payer ?

Comprendre	Entourer	Réfléchir	Vérifier	Ecrire	Attention à l'unité

**Résolution de problèmes****Problème n°12**

Une cantine scolaire facture 4 € par repas. Un élève y mange 5 jours par semaine pendant 3 semaines. Combien la famille va-t-elle payer ?

Comprendre	Entourer	Réfléchir	Vérifier	Ecrire	Attention à l'unité

**Résolution de problèmes****Problème n°12**

Une cantine scolaire facture 4 € par repas. Un élève y mange 5 jours par semaine pendant 3 semaines. Combien la famille va-t-elle payer ?

Comprendre	Entourer	Réfléchir	Vérifier	Ecrire	Attention à l'unité

**Résolution de problèmes****Problème n°12**

Une cantine scolaire facture 4 € par repas. Un élève y mange 5 jours par semaine pendant 3 semaines. Combien la famille va-t-elle payer ?

Comprendre	Entourer	Réfléchir	Vérifier	Ecrire	Attention à l'unité

**Résolution de problèmes****Problème n°12**

Une cantine scolaire facture 4 € par repas. Un élève y mange 5 jours par semaine pendant 3 semaines. Combien la famille va-t-elle payer ?

Comprendre	Entourer	Réfléchir	Vérifier	Ecrire	Attention à l'unité

**Résolution de problèmes****Problème n°12**

Une cantine scolaire facture 4 € par repas. Un élève y mange 5 jours par semaine pendant 3 semaines. Combien la famille va-t-elle payer ?

 60 € 84 € 12 € 55 €**Résolution de problèmes****Problème n°12**

Une cantine scolaire facture 4 € par repas. Un élève y mange 5 jours par semaine pendant 3 semaines. Combien la famille va-t-elle payer ?

 60 € 84 € 12 € 55 €**Résolution de problèmes****Problème n°12**

Une cantine scolaire facture 4 € par repas. Un élève y mange 5 jours par semaine pendant 3 semaines. Combien la famille va-t-elle payer ?

 60 € 84 € 12 € 55 €**Résolution de problèmes****Problème n°12**

Une cantine scolaire facture 4 € par repas. Un élève y mange 5 jours par semaine pendant 3 semaines. Combien la famille va-t-elle payer ?

 60 € 84 € 12 € 55 €**Résolution de problèmes****Problème n°12**

Une cantine scolaire facture 4 € par repas. Un élève y mange 5 jours par semaine pendant 3 semaines. Combien la famille va-t-elle payer ?

 60 € 84 € 12 € 55 €**Résolution de problèmes****Problème n°12**

Une cantine scolaire facture 4 € par repas. Un élève y mange 5 jours par semaine pendant 3 semaines. Combien la famille va-t-elle payer ?

 60 € 84 € 12 € 55 €**Résolution de problèmes****Problème n°12**

Une cantine scolaire facture 4 € par repas. Un élève y mange 5 jours par semaine pendant 3 semaines. Combien la famille va-t-elle payer ?

 60 € 84 € 12 € 55 €

**Résolution de problèmes****Problème n°13**

Un parc d'attractions propose un pass à 28 € par personne et par jour. Une famille de 3 personnes y va pendant 2 jours. Combien la famille va-t-elle payer ?

Comprendre	Entourer	Réfléchir	Vérifier	Ecrire	Attention à l'unité

**Résolution de problèmes****Problème n°13**

Un parc d'attractions propose un pass à 28 € par personne et par jour. Une famille de 3 personnes y va pendant 2 jours. Combien la famille va-t-elle payer ?

Comprendre	Entourer	Réfléchir	Vérifier	Ecrire	Attention à l'unité

**Résolution de problèmes****Problème n°13**

Un parc d'attractions propose un pass à 28 € par personne et par jour. Une famille de 3 personnes y va pendant 2 jours. Combien la famille va-t-elle payer ?

Comprendre	Entourer	Réfléchir	Vérifier	Ecrire	Attention à l'unité

**Résolution de problèmes****Problème n°13**

Un parc d'attractions propose un pass à 28 € par personne et par jour. Une famille de 3 personnes y va pendant 2 jours. Combien la famille va-t-elle payer ?

Comprendre	Entourer	Réfléchir	Vérifier	Ecrire	Attention à l'unité

**Résolution de problèmes****Problème n°13**

Un parc d'attractions propose un pass à 28 € par personne et par jour. Une famille de 3 personnes y va pendant 2 jours. Combien la famille va-t-elle payer ?

Comprendre	Entourer	Réfléchir	Vérifier	Ecrire	Attention à l'unité

**Résolution de problèmes****Problème n°13**

Un parc d'attractions propose un pass à 28 € par personne et par jour. Une famille de 3 personnes y va pendant 2 jours. Combien la famille va-t-elle payer ?

Comprendre	Entourer	Réfléchir	Vérifier	Ecrire	Attention à l'unité

**Résolution de problèmes****Problème n°13**

Un parc d'attractions propose un pass à 28 € par personne et par jour. Une famille de 3 personnes y va pendant 2 jours. Combien la famille va-t-elle payer ?

 84 € 33 € 168 € 164 €**Résolution de problèmes****Problème n°13**

Un parc d'attractions propose un pass à 28 € par personne et par jour. Une famille de 3 personnes y va pendant 2 jours. Combien la famille va-t-elle payer ?

 84 € 33 € 168 € 164 €**Résolution de problèmes****Problème n°13**

Un parc d'attractions propose un pass à 28 € par personne et par jour. Une famille de 3 personnes y va pendant 2 jours. Combien la famille va-t-elle payer ?

 84 € 33 € 168 € 164 €**Résolution de problèmes****Problème n°13**

Un parc d'attractions propose un pass à 28 € par personne et par jour. Une famille de 3 personnes y va pendant 2 jours. Combien la famille va-t-elle payer ?

 84 € 33 € 168 € 164 €**Résolution de problèmes****Problème n°13**

Un parc d'attractions propose un pass à 28 € par personne et par jour. Une famille de 3 personnes y va pendant 2 jours. Combien la famille va-t-elle payer ?

 84 € 33 € 168 € 164 €**Résolution de problèmes****Problème n°13**

Un parc d'attractions propose un pass à 28 € par personne et par jour. Une famille de 3 personnes y va pendant 2 jours. Combien la famille va-t-elle payer ?

 84 € 33 € 168 € 164 €**Résolution de problèmes****Problème n°13**

Un parc d'attractions propose un pass à 28 € par personne et par jour. Une famille de 3 personnes y va pendant 2 jours. Combien la famille va-t-elle payer ?

 84 € 33 € 168 € 164 €

<b>Résolution de problèmes</b>	<b>Problème n°1</b>
--------------------------------	---------------------

À la boulangerie, Kim a acheté 3 croissants à 1,20 € l'un et un pain aux raisins à 2 €. Elle donne 10 €. Combien va-t-on lui rendre ?

Comprendre	Entourer	Réfléchir	Vérifier	Ecrire	Attention à l'unité

<b>Résolution de problèmes</b>	<b>Problème n°1</b>
--------------------------------	---------------------

À la boulangerie, Kim a acheté 3 croissants à 1,20 € l'un et un pain aux raisins à 2 €. Elle donne 10 €. Combien va-t-on lui rendre ?

Comprendre	Entourer	Réfléchir	Vérifier	Ecrire	Attention à l'unité

<b>Résolution de problèmes</b>	<b>Problème n°1</b>
--------------------------------	---------------------

À la boulangerie, Kim a acheté 3 croissants à 1,20 € l'un et un pain aux raisins à 2 €. Elle donne 10 €. Combien va-t-on lui rendre ?

Comprendre	Entourer	Réfléchir	Vérifier	Ecrire	Attention à l'unité

<b>Résolution de problèmes</b>	<b>Problème n°1</b>
--------------------------------	---------------------

À la boulangerie, Kim a acheté 3 croissants à 1,20 € l'un et un pain aux raisins à 2 €. Elle donne 10 €. Combien va-t-on lui rendre ?

Comprendre	Entourer	Réfléchir	Vérifier	Ecrire	Attention à l'unité

<b>Résolution de problèmes</b>	<b>Problème n°1</b>
--------------------------------	---------------------

À la boulangerie, Kim a acheté 3 croissants à 1,20 € l'un et un pain aux raisins à 2 €. Elle donne 10 €. Combien va-t-on lui rendre ?

Comprendre	Entourer	Réfléchir	Vérifier	Ecrire	Attention à l'unité

**Résolution de problèmes****Problème n°1**

À la boulangerie, Kim a acheté 3 croissants à 1,20 € l'un et un pain aux raisins à 2 €. Elle donne 10 €. Combien va-t-on lui rendre ?

- 5,60 €     4,40 €     3,20 €     6,80 €

**Résolution de problèmes****Problème n°1**

À la boulangerie, Kim a acheté 3 croissants à 1,20 € l'un et un pain aux raisins à 2 €. Elle donne 10 €. Combien va-t-on lui rendre ?

- 5,60 €     4,40 €     3,20 €     6,80 €

**Résolution de problèmes****Problème n°1**

À la boulangerie, Kim a acheté 3 croissants à 1,20 € l'un et un pain aux raisins à 2 €. Elle donne 10 €. Combien va-t-on lui rendre ?

- 5,60 €     4,40 €     3,20 €     6,80 €

**Résolution de problèmes****Problème n°1**

À la boulangerie, Kim a acheté 3 croissants à 1,20 € l'un et un pain aux raisins à 2 €. Elle donne 10 €. Combien va-t-on lui rendre ?

- 5,60 €     4,40 €     3,20 €     6,80 €

**Résolution de problèmes****Problème n°1**

À la boulangerie, Kim a acheté 3 croissants à 1,20 € l'un et un pain aux raisins à 2 €. Elle donne 10 €. Combien va-t-on lui rendre ?

- 5,60 €     4,40 €     3,20 €     6,80 €

**Résolution de problèmes****Problème n°1**

À la boulangerie, Kim a acheté 3 croissants à 1,20 € l'un et un pain aux raisins à 2 €. Elle donne 10 €. Combien va-t-on lui rendre ?

- 5,60 €     4,40 €     3,20 €     6,80 €

**Résolution de problèmes****Problème n°1**

À la boulangerie, Kim a acheté 3 croissants à 1,20 € l'un et un pain aux raisins à 2 €. Elle donne 10 €. Combien va-t-on lui rendre ?

- 5,60 €     4,40 €     3,20 €     6,80 €

**Résolution de problèmes****Problème n°2**

Au marché, Lucas achète 4 pommes à 0,80 € chacune et une barquette de fraises à 3,50 €. Il paie avec un billet de 10 €. Combien va-t-on lui rendre ?

Comprendre	Entourer	Réfléchir	Vérifier	Ecrire	Attention à l'unité

**Résolution de problèmes****Problème n°2**

Au marché, Lucas achète 4 pommes à 0,80 € chacune et une barquette de fraises à 3,50 €. Il paie avec un billet de 10 €. Combien va-t-on lui rendre ?

Comprendre	Entourer	Réfléchir	Vérifier	Ecrire	Attention à l'unité

**Résolution de problèmes****Problème n°2**

Au marché, Lucas achète 4 pommes à 0,80 € chacune et une barquette de fraises à 3,50 €. Il paie avec un billet de 10 €. Combien va-t-on lui rendre ?

Comprendre	Entourer	Réfléchir	Vérifier	Ecrire	Attention à l'unité

**Résolution de problèmes****Problème n°2**

Au marché, Lucas achète 4 pommes à 0,80 € chacune et une barquette de fraises à 3,50 €. Il paie avec un billet de 10 €. Combien va-t-on lui rendre ?

Comprendre	Entourer	Réfléchir	Vérifier	Ecrire	Attention à l'unité

**Résolution de problèmes****Problème n°2**

Au marché, Lucas achète 4 pommes à 0,80 € chacune et une barquette de fraises à 3,50 €. Il paie avec un billet de 10 €. Combien va-t-on lui rendre ?

Comprendre	Entourer	Réfléchir	Vérifier	Ecrire	Attention à l'unité

**Résolution de problèmes****Problème n°2**

Au marché, Lucas achète 4 pommes à 0,80 € chacune et une barquette de fraises à 3,50 €. Il paie avec un billet de 10 €. Combien va-t-on lui rendre ?

Comprendre	Entourer	Réfléchir	Vérifier	Ecrire	Attention à l'unité

**Résolution de problèmes****Problème n°2**

Au marché, Lucas achète 4 pommes à 0,80 € chacune et une barquette de fraises à 3,50 €. Il paie avec un billet de 10 €. Combien va-t-on lui rendre ?

 4,30 € 3,3 € 5,7 € 5 €**Résolution de problèmes****Problème n°2**

Au marché, Lucas achète 4 pommes à 0,80 € chacune et une barquette de fraises à 3,50 €. Il paie avec un billet de 10 €. Combien va-t-on lui rendre ?

 4,30 € 3,3 € 5,7 € 5 €**Résolution de problèmes****Problème n°2**

Au marché, Lucas achète 4 pommes à 0,80 € chacune et une barquette de fraises à 3,50 €. Il paie avec un billet de 10 €. Combien va-t-on lui rendre ?

 4,30 € 3,3 € 5,7 € 5 €**Résolution de problèmes****Problème n°2**

Au marché, Lucas achète 4 pommes à 0,80 € chacune et une barquette de fraises à 3,50 €. Il paie avec un billet de 10 €. Combien va-t-on lui rendre ?

 4,30 € 3,3 € 5,7 € 5 €**Résolution de problèmes****Problème n°2**

Au marché, Lucas achète 4 pommes à 0,80 € chacune et une barquette de fraises à 3,50 €. Il paie avec un billet de 10 €. Combien va-t-on lui rendre ?

 4,30 € 3,3 € 5,7 € 5 €**Résolution de problèmes****Problème n°2**

Au marché, Lucas achète 4 pommes à 0,80 € chacune et une barquette de fraises à 3,50 €. Il paie avec un billet de 10 €. Combien va-t-on lui rendre ?

 4,30 € 3,3 € 5,7 € 5 €**Résolution de problèmes****Problème n°2**

Au marché, Lucas achète 4 pommes à 0,80 € chacune et une barquette de fraises à 3,50 €. Il paie avec un billet de 10 €. Combien va-t-on lui rendre ?

 4,30 € 3,3 € 5,7 € 5 €

**Résolution de problèmes****Problème n°3**

À la librairie, Emma achète 2 livres à 6,50 € chacun et un magazine à 3,20 €. Elle paie avec 20 €. Combien va-t-elle récupérer avec le caissier ?

Comprendre	Entourer	Réfléchir	Vérifier	Ecrire	Attention à l'unité

**Résolution de problèmes****Problème n°3**

À la librairie, Emma achète 2 livres à 6,50 € chacun et un magazine à 3,20 €. Elle paie avec 20 €. Combien va-t-elle récupérer avec le caissier ?

Comprendre	Entourer	Réfléchir	Vérifier	Ecrire	Attention à l'unité

**Résolution de problèmes****Problème n°3**

À la librairie, Emma achète 2 livres à 6,50 € chacun et un magazine à 3,20 €. Elle paie avec 20 €. Combien va-t-elle récupérer avec le caissier ?

Comprendre	Entourer	Réfléchir	Vérifier	Ecrire	Attention à l'unité

**Résolution de problèmes****Problème n°3**

À la librairie, Emma achète 2 livres à 6,50 € chacun et un magazine à 3,20 €. Elle paie avec 20 €. Combien va-t-elle récupérer avec le caissier ?

Comprendre	Entourer	Réfléchir	Vérifier	Ecrire	Attention à l'unité

**Résolution de problèmes****Problème n°3**

À la librairie, Emma achète 2 livres à 6,50 € chacun et un magazine à 3,20 €. Elle paie avec 20 €. Combien va-t-elle récupérer avec le caissier ?

Comprendre	Entourer	Réfléchir	Vérifier	Ecrire	Attention à l'unité

**Résolution de problèmes****Problème n°3**

À la librairie, Emma achète 2 livres à 6,50 € chacun et un magazine à 3,20 €. Elle paie avec 20 €. Combien va-t-elle récupérer avec le caissier ?

Comprendre	Entourer	Réfléchir	Vérifier	Ecrire	Attention à l'unité

**Résolution de problèmes****Problème n°3**

À la librairie, Emma achète 2 livres à 6,50 € chacun et un magazine à 3,20 €. Elle paie avec 20 €. Combien va-t-elle récupérer avec le caissier ?

 3,80 € 9,7 € 4 € 11,7 €**Résolution de problèmes****Problème n°3**

À la librairie, Emma achète 2 livres à 6,50 € chacun et un magazine à 3,20 €. Elle paie avec 20 €. Combien va-t-elle récupérer avec le caissier ?

 3,80 € 9,7 € 4 € 11,7 €**Résolution de problèmes****Problème n°3**

À la librairie, Emma achète 2 livres à 6,50 € chacun et un magazine à 3,20 €. Elle paie avec 20 €. Combien va-t-elle récupérer avec le caissier ?

 3,80 € 9,7 € 4 € 11,7 €**Résolution de problèmes****Problème n°3**

À la librairie, Emma achète 2 livres à 6,50 € chacun et un magazine à 3,20 €. Elle paie avec 20 €. Combien va-t-elle récupérer avec le caissier ?

 3,80 € 9,7 € 4 € 11,7 €**Résolution de problèmes****Problème n°3**

À la librairie, Emma achète 2 livres à 6,50 € chacun et un magazine à 3,20 €. Elle paie avec 20 €. Combien va-t-elle récupérer avec le caissier ?

 3,80 € 9,7 € 4 € 11,7 €**Résolution de problèmes****Problème n°3**

À la librairie, Emma achète 2 livres à 6,50 € chacun et un magazine à 3,20 €. Elle paie avec 20 €. Combien va-t-elle récupérer avec le caissier ?

 3,80 € 9,7 € 4 € 11,7 €**Résolution de problèmes****Problème n°3**

À la librairie, Emma achète 2 livres à 6,50 € chacun et un magazine à 3,20 €. Elle paie avec 20 €. Combien va-t-elle récupérer avec le caissier ?

 3,80 € 9,7 € 4 € 11,7 €

**Résolution de problèmes****Problème n°4**

Au cinéma, Noah achète 3 places à 8,50 € chacune et un paquet de popcorn à 4 €. Il donne 30 €. Combien lui rend-on ?

Comprendre	Entourer	Réfléchir	Vérifier	Ecrire	Attention à l'unité

**Résolution de problèmes****Problème n°4**

Au cinéma, Noah achète 3 places à 8,50 € chacune et un paquet de popcorn à 4 €. Il donne 30 €. Combien lui rend-on ?

Comprendre	Entourer	Réfléchir	Vérifier	Ecrire	Attention à l'unité

**Résolution de problèmes****Problème n°4**

Au cinéma, Noah achète 3 places à 8,50 € chacune et un paquet de popcorn à 4 €. Il donne 30 €. Combien lui rend-on ?

Comprendre	Entourer	Réfléchir	Vérifier	Ecrire	Attention à l'unité

**Résolution de problèmes****Problème n°4**

Au cinéma, Noah achète 3 places à 8,50 € chacune et un paquet de popcorn à 4 €. Il donne 30 €. Combien lui rend-on ?

Comprendre	Entourer	Réfléchir	Vérifier	Ecrire	Attention à l'unité

**Résolution de problèmes****Problème n°4**

Au cinéma, Noah achète 3 places à 8,50 € chacune et un paquet de popcorn à 4 €. Il donne 30 €. Combien lui rend-on ?

Comprendre	Entourer	Réfléchir	Vérifier	Ecrire	Attention à l'unité

**Résolution de problèmes****Problème n°4**

Au cinéma, Noah achète 3 places à 8,50 € chacune et un paquet de popcorn à 4 €. Il donne 30 €. Combien lui rend-on ?

Comprendre	Entourer	Réfléchir	Vérifier	Ecrire	Attention à l'unité

**Résolution de problèmes****Problème n°4**

Au cinéma, Noah achète 3 places à 8,50 € chacune et un paquet de popcorn à 4 €. Il donne 30 €. Combien lui rend-on ?

 1,50 € 14,5 € 0,50 € 17,50 €**Résolution de problèmes****Problème n°4**

Au cinéma, Noah achète 3 places à 8,50 € chacune et un paquet de popcorn à 4 €. Il donne 30 €. Combien lui rend-on ?

 1,50 € 14,5 € 0,50 € 17,50 €**Résolution de problèmes****Problème n°4**

Au cinéma, Noah achète 3 places à 8,50 € chacune et un paquet de popcorn à 4 €. Il donne 30 €. Combien lui rend-on ?

 1,50 € 14,5 € 0,50 € 17,50 €**Résolution de problèmes****Problème n°4**

Au cinéma, Noah achète 3 places à 8,50 € chacune et un paquet de popcorn à 4 €. Il donne 30 €. Combien lui rend-on ?

 1,50 € 14,5 € 0,50 € 17,50 €**Résolution de problèmes****Problème n°4**

Au cinéma, Noah achète 3 places à 8,50 € chacune et un paquet de popcorn à 4 €. Il donne 30 €. Combien lui rend-on ?

 1,50 € 14,5 € 0,50 € 17,50 €**Résolution de problèmes****Problème n°4**

Au cinéma, Noah achète 3 places à 8,50 € chacune et un paquet de popcorn à 4 €. Il donne 30 €. Combien lui rend-on ?

 1,50 € 14,5 € 0,50 € 17,50 €**Résolution de problèmes****Problème n°4**

Au cinéma, Noah achète 3 places à 8,50 € chacune et un paquet de popcorn à 4 €. Il donne 30 €. Combien lui rend-on ?

 1,50 € 14,5 € 0,50 € 17,50 €

**Résolution de problèmes****Problème n°5**

À la papeterie, Chloé achète 5 stylos à 1,40 € chacun et un cahier à 2,80 €. Elle paie avec 15 €. Combien d'argent lui restera-t-il ?

Comprendre	Entourer	Réfléchir	Vérifier	Ecrire	Attention à l'unité

**Résolution de problèmes****Problème n°5**

À la papeterie, Chloé achète 5 stylos à 1,40 € chacun et un cahier à 2,80 €. Elle paie avec 15 €. Combien d'argent lui restera-t-il ?

Comprendre	Entourer	Réfléchir	Vérifier	Ecrire	Attention à l'unité

**Résolution de problèmes****Problème n°5**

À la papeterie, Chloé achète 5 stylos à 1,40 € chacun et un cahier à 2,80 €. Elle paie avec 15 €. Combien d'argent lui restera-t-il ?

Comprendre	Entourer	Réfléchir	Vérifier	Ecrire	Attention à l'unité

**Résolution de problèmes****Problème n°5**

À la papeterie, Chloé achète 5 stylos à 1,40 € chacun et un cahier à 2,80 €. Elle paie avec 15 €. Combien d'argent lui restera-t-il ?

Comprendre	Entourer	Réfléchir	Vérifier	Ecrire	Attention à l'unité

**Résolution de problèmes****Problème n°5**

À la papeterie, Chloé achète 5 stylos à 1,40 € chacun et un cahier à 2,80 €. Elle paie avec 15 €. Combien d'argent lui restera-t-il ?

Comprendre	Entourer	Réfléchir	Vérifier	Ecrire	Attention à l'unité

**Résolution de problèmes****Problème n°5**

À la papeterie, Chloé achète 5 stylos à 1,40 € chacun et un cahier à 2,80 €. Elle paie avec 15 €. Combien d'argent lui restera-t-il ?

Comprendre	Entourer	Réfléchir	Vérifier	Ecrire	Attention à l'unité

**Résolution de problèmes****Problème n°5**

À la papeterie, Chloé achète 5 stylos à 1,40 € chacun et un cahier à 2,80 €. Elle paie avec 15 €. Combien d'argent lui restera-t-il ?

 5,20 € 5,80 € 10,80 € 7,20 €**Résolution de problèmes****Problème n°5**

À la papeterie, Chloé achète 5 stylos à 1,40 € chacun et un cahier à 2,80 €. Elle paie avec 15 €. Combien d'argent lui restera-t-il ?

 5,20 € 5,80 € 10,80 € 7,20 €**Résolution de problèmes****Problème n°5**

À la papeterie, Chloé achète 5 stylos à 1,40 € chacun et un cahier à 2,80 €. Elle paie avec 15 €. Combien d'argent lui restera-t-il ?

 5,20 € 5,80 € 10,80 € 7,20 €**Résolution de problèmes****Problème n°5**

À la papeterie, Chloé achète 5 stylos à 1,40 € chacun et un cahier à 2,80 €. Elle paie avec 15 €. Combien d'argent lui restera-t-il ?

 5,20 € 5,80 € 10,80 € 7,20 €**Résolution de problèmes****Problème n°5**

À la papeterie, Chloé achète 5 stylos à 1,40 € chacun et un cahier à 2,80 €. Elle paie avec 15 €. Combien d'argent lui restera-t-il ?

 5,20 € 5,80 € 10,80 € 7,20 €**Résolution de problèmes****Problème n°5**

À la papeterie, Chloé achète 5 stylos à 1,40 € chacun et un cahier à 2,80 €. Elle paie avec 15 €. Combien d'argent lui restera-t-il ?

 5,20 € 5,80 € 10,80 € 7,20 €**Résolution de problèmes****Problème n°5**

À la papeterie, Chloé achète 5 stylos à 1,40 € chacun et un cahier à 2,80 €. Elle paie avec 15 €. Combien d'argent lui restera-t-il ?

 5,20 € 5,80 € 10,80 € 7,20 €

**Résolution de problèmes****Problème n°6**

À la supérette, Adam achète 2 bouteilles de jus à 2,30 € chacune et un paquet de biscuits à 1,90 €. Il paie avec 10 €. Quelle somme lui reste-t-il ?

Comprendre	Entourer	Réfléchir	Vérifier	Ecrire	Attention à l'unité

**Résolution de problèmes****Problème n°6**

À la supérette, Adam achète 2 bouteilles de jus à 2,30 € chacune et un paquet de biscuits à 1,90 €. Il paie avec 10 €. Quelle somme lui reste-t-il ?

Comprendre	Entourer	Réfléchir	Vérifier	Ecrire	Attention à l'unité

**Résolution de problèmes****Problème n°6**

À la supérette, Adam achète 2 bouteilles de jus à 2,30 € chacune et un paquet de biscuits à 1,90 €. Il paie avec 10 €. Quelle somme lui reste-t-il ?

Comprendre	Entourer	Réfléchir	Vérifier	Ecrire	Attention à l'unité

**Résolution de problèmes****Problème n°6**

À la supérette, Adam achète 2 bouteilles de jus à 2,30 € chacune et un paquet de biscuits à 1,90 €. Il paie avec 10 €. Quelle somme lui reste-t-il ?

Comprendre	Entourer	Réfléchir	Vérifier	Ecrire	Attention à l'unité

**Résolution de problèmes****Problème n°6**

À la supérette, Adam achète 2 bouteilles de jus à 2,30 € chacune et un paquet de biscuits à 1,90 €. Il paie avec 10 €. Quelle somme lui reste-t-il ?

Comprendre	Entourer	Réfléchir	Vérifier	Ecrire	Attention à l'unité

**Résolution de problèmes****Problème n°6**

À la supérette, Adam achète 2 bouteilles de jus à 2,30 € chacune et un paquet de biscuits à 1,90 €. Il paie avec 10 €. Quelle somme lui reste-t-il ?

Comprendre	Entourer	Réfléchir	Vérifier	Ecrire	Attention à l'unité

**Résolution de problèmes****Problème n°6**

À la supérette, Adam achète 2 bouteilles de jus à 2,30 € chacune et un paquet de biscuits à 1,90 €. Il paie avec 10 €. Quelle somme lui reste-t-il ?

 5,20 € 5,80 € 3,80 € 3,50 €**Résolution de problèmes****Problème n°6**

À la supérette, Adam achète 2 bouteilles de jus à 2,30 € chacune et un paquet de biscuits à 1,90 €. Il paie avec 10 €. Quelle somme lui reste-t-il ?

 5,20 € 5,80 € 3,80 € 3,50 €**Résolution de problèmes****Problème n°6**

À la supérette, Adam achète 2 bouteilles de jus à 2,30 € chacune et un paquet de biscuits à 1,90 €. Il paie avec 10 €. Quelle somme lui reste-t-il ?

 5,20 € 5,80 € 3,80 € 3,50 €**Résolution de problèmes****Problème n°6**

À la supérette, Adam achète 2 bouteilles de jus à 2,30 € chacune et un paquet de biscuits à 1,90 €. Il paie avec 10 €. Quelle somme lui reste-t-il ?

 5,20 € 5,80 € 3,80 € 3,50 €**Résolution de problèmes****Problème n°6**

À la supérette, Adam achète 2 bouteilles de jus à 2,30 € chacune et un paquet de biscuits à 1,90 €. Il paie avec 10 €. Quelle somme lui reste-t-il ?

 5,20 € 5,80 € 3,80 € 3,50 €**Résolution de problèmes****Problème n°6**

À la supérette, Adam achète 2 bouteilles de jus à 2,30 € chacune et un paquet de biscuits à 1,90 €. Il paie avec 10 €. Quelle somme lui reste-t-il ?

 5,20 € 5,80 € 3,80 € 3,50 €

**Résolution de problèmes****Problème n°7**

À la piscine, Lina paie 3 entrées à 4,50 € chacune et loue un casier à 2 €.  
Elle donne 20 €. Combien lui reste-t-il d'argent ?

Comprendre	Entourer	Réfléchir	Vérifier	Ecrire	Attention à l'unité

**Résolution de problèmes****Problème n°7**

À la piscine, Lina paie 3 entrées à 4,50 € chacune et loue un casier à 2 €.  
Elle donne 20 €. Combien lui reste-t-il d'argent ?

Comprendre	Entourer	Réfléchir	Vérifier	Ecrire	Attention à l'unité

**Résolution de problèmes****Problème n°7**

À la piscine, Lina paie 3 entrées à 4,50 € chacune et loue un casier à 2 €.  
Elle donne 20 €. Combien lui reste-t-il d'argent ?

Comprendre	Entourer	Réfléchir	Vérifier	Ecrire	Attention à l'unité

**Résolution de problèmes****Problème n°7**

À la piscine, Lina paie 3 entrées à 4,50 € chacune et loue un casier à 2 €.  
Elle donne 20 €. Combien lui reste-t-il d'argent ?

Comprendre	Entourer	Réfléchir	Vérifier	Ecrire	Attention à l'unité

**Résolution de problèmes****Problème n°7**

À la piscine, Lina paie 3 entrées à 4,50 € chacune et loue un casier à 2 €.  
Elle donne 20 €. Combien lui reste-t-il d'argent ?

Comprendre	Entourer	Réfléchir	Vérifier	Ecrire	Attention à l'unité

**Résolution de problèmes****Problème n°7**

À la piscine, Lina paie 3 entrées à 4,50 € chacune et loue un casier à 2 €.  
Elle donne 20 €. Combien lui reste-t-il d'argent ?

Comprendre	Entourer	Réfléchir	Vérifier	Ecrire	Attention à l'unité

**Résolution de problèmes****Problème n°7**

À la piscine, Lina paie 3 entrées à 4,50 € chacune et loue un casier à 2 €. Elle donne 20 €. Combien lui reste-t-il d'argent ?

 3,50 € 4,50 € 16,50 € 10,50 €**Résolution de problèmes****Problème n°7**

À la piscine, Lina paie 3 entrées à 4,50 € chacune et loue un casier à 2 €. Elle donne 20 €. Combien lui reste-t-il d'argent ?

 3,50 € 4,50 € 16,50 € 10,50 €**Résolution de problèmes****Problème n°7**

À la piscine, Lina paie 3 entrées à 4,50 € chacune et loue un casier à 2 €. Elle donne 20 €. Combien lui reste-t-il d'argent ?

 3,50 € 4,50 € 16,50 € 10,50 €**Résolution de problèmes****Problème n°7**

À la piscine, Lina paie 3 entrées à 4,50 € chacune et loue un casier à 2 €. Elle donne 20 €. Combien lui reste-t-il d'argent ?

 3,50 € 4,50 € 16,50 € 10,50 €**Résolution de problèmes****Problème n°7**

À la piscine, Lina paie 3 entrées à 4,50 € chacune et loue un casier à 2 €. Elle donne 20 €. Combien lui reste-t-il d'argent ?

 3,50 € 4,50 € 16,50 € 10,50 €**Résolution de problèmes****Problème n°7**

À la piscine, Lina paie 3 entrées à 4,50 € chacune et loue un casier à 2 €. Elle donne 20 €. Combien lui reste-t-il d'argent ?

 3,50 € 4,50 € 16,50 € 10,50 €**Résolution de problèmes****Problème n°7**

À la piscine, Lina paie 3 entrées à 4,50 € chacune et loue un casier à 2 €. Elle donne 20 €. Combien lui reste-t-il d'argent ?

 3,50 € 4,50 € 16,50 € 10,50 €

## Proportionnalité

### Résolution de problèmes

### Problème n°1

À la boulangerie, Juliette achète 9 croissants et paie 12 euros. J'achète 3 croissants.  
Combien vais-je payer ?

Comprendre	Entourer	Réfléchir	Vérifier	Ecrire	Attention à l'unité

### Résolution de problèmes

### Problème n°1

À la boulangerie, Juliette achète 9 croissants et paie 12 euros. J'achète 3 croissants.  
Combien vais-je payer ?

Comprendre	Entourer	Réfléchir	Vérifier	Ecrire	Attention à l'unité

### Résolution de problèmes

### Problème n°1

À la boulangerie, Juliette achète 9 croissants et paie 12 euros. J'achète 3 croissants.  
Combien vais-je payer ?

Comprendre	Entourer	Réfléchir	Vérifier	Ecrire	Attention à l'unité

### Résolution de problèmes

### Problème n°1

À la boulangerie, Juliette achète 9 croissants et paie 12 euros. J'achète 3 croissants.  
Combien vais-je payer ?

Comprendre	Entourer	Réfléchir	Vérifier	Ecrire	Attention à l'unité

### Résolution de problèmes

### Problème n°1

À la boulangerie, Juliette achète 9 croissants et paie 12 euros. J'achète 3 croissants.  
Combien vais-je payer ?

Comprendre	Entourer	Réfléchir	Vérifier	Ecrire	Attention à l'unité

**Résolution de problèmes****Problème n°1**

À la boulangerie, Juliette achète 9 croissants et paie 12 euros. J'achète 3 croissants.  
Combien vais-je payer ?

- 6 euros
- 4 euros

- environ 1,33 euros
- 3 euros

**Résolution de problèmes****Problème n°1**

À la boulangerie, Juliette achète 9 croissants et paie 12 euros. J'achète 3 croissants.  
Combien vais-je payer ?

- 6 euros
- 4 euros

- environ 1,33 euros
- 3 euros

**Résolution de problèmes****Problème n°1**

À la boulangerie, Juliette achète 9 croissants et paie 12 euros. J'achète 3 croissants.  
Combien vais-je payer ?

- 6 euros
- 4 euros

- environ 1,33 euros
- 3 euros

**Résolution de problèmes****Problème n°1**

À la boulangerie, Juliette achète 9 croissants et paie 12 euros. J'achète 3 croissants.  
Combien vais-je payer ?

- 6 euros
- 4 euros

- environ 1,33 euros
- 3 euros

**Résolution de problèmes****Problème n°1**

À la boulangerie, Juliette achète 9 croissants et paie 12 euros. J'achète 3 croissants.  
Combien vais-je payer ?

- 6 euros
- 4 euros

- environ 1,33 euros
- 3 euros

**Résolution de problèmes****Problème n°1**

À la boulangerie, Juliette achète 9 croissants et paie 12 euros. J'achète 3 croissants.  
Combien vais-je payer ?

- 6 euros
- 4 euros

- environ 1,33 euros
- 3 euros

**Résolution de problèmes****Problème n°2**

À la piscine, Léa paie 21 € pour 6 entrées. Je prends 2 entrées.  
Combien vais-je payer ?

Comprendre	Entourer	Réfléchir	Vérifier	Ecrire	Attention à l'unité

**Résolution de problèmes****Problème n°2**

À la piscine, Léa paie 21 € pour 6 entrées. Je prends 2 entrées.  
Combien vais-je payer ?

Comprendre	Entourer	Réfléchir	Vérifier	Ecrire	Attention à l'unité

**Résolution de problèmes****Problème n°2**

À la piscine, Léa paie 21 € pour 6 entrées. Je prends 2 entrées.  
Combien vais-je payer ?

Comprendre	Entourer	Réfléchir	Vérifier	Ecrire	Attention à l'unité

**Résolution de problèmes****Problème n°2**

À la piscine, Léa paie 21 € pour 6 entrées. Je prends 2 entrées.  
Combien vais-je payer ?

Comprendre	Entourer	Réfléchir	Vérifier	Ecrire	Attention à l'unité

**Résolution de problèmes****Problème n°2**

À la piscine, Léa paie 21 € pour 6 entrées. Je prends 2 entrées.  
Combien vais-je payer ?

Comprendre	Entourer	Réfléchir	Vérifier	Ecrire	Attention à l'unité

**Résolution de problèmes****Problème n°2**

À la piscine, Léa paie 21 € pour 6 entrées. Je prends 2 entrées.  
Combien vais-je payer ?

Comprendre	Entourer	Réfléchir	Vérifier	Ecrire	Attention à l'unité

**Résolution de problèmes****Problème n°2**

À la piscine, Léa paie 21 € pour 6 entrées. Je prends 2 entrées.  
Combien vais-je payer ?

 12 € 7 € 3,50 € 42 €**Résolution de problèmes****Problème n°2**

À la piscine, Léa paie 21 € pour 6 entrées. Je prends 2 entrées.  
Combien vais-je payer ?

 12 € 7 € 3,50 € 42 €**Résolution de problèmes****Problème n°2**

À la piscine, Léa paie 21 € pour 6 entrées. Je prends 2 entrées.  
Combien vais-je payer ?

 12 € 7 € 3,50 € 42 €**Résolution de problèmes****Problème n°2**

À la piscine, Léa paie 21 € pour 6 entrées. Je prends 2 entrées.  
Combien vais-je payer ?

 12 € 7 € 3,50 € 42 €**Résolution de problèmes****Problème n°2**

À la piscine, Léa paie 21 € pour 6 entrées. Je prends 2 entrées.  
Combien vais-je payer ?

 12 € 7 € 3,50 € 42 €**Résolution de problèmes****Problème n°2**

À la piscine, Léa paie 21 € pour 6 entrées. Je prends 2 entrées.  
Combien vais-je payer ?

 12 € 7 € 3,50 € 42 €**Résolution de problèmes****Problème n°2**

À la piscine, Léa paie 21 € pour 6 entrées. Je prends 2 entrées.  
Combien vais-je payer ?

 12 € 7 € 3,50 € 42 €

**Résolution de problèmes****Problème n°3**

À la papeterie, Inès achète 12 stylos pour 15 €. J'en prends 4.  
Combien le caissier va-t-il me demander ?

Comprendre	Entourer	Réfléchir	Vérifier	Ecrire	Attention à l'unité

**Résolution de problèmes****Problème n°3**

À la papeterie, Inès achète 12 stylos pour 15 €. J'en prends 4.  
Combien le caissier va-t-il me demander ?

Comprendre	Entourer	Réfléchir	Vérifier	Ecrire	Attention à l'unité

**Résolution de problèmes****Problème n°3**

À la papeterie, Inès achète 12 stylos pour 15 €. J'en prends 4.  
Combien le caissier va-t-il me demander ?

Comprendre	Entourer	Réfléchir	Vérifier	Ecrire	Attention à l'unité

**Résolution de problèmes****Problème n°3**

À la papeterie, Inès achète 12 stylos pour 15 €. J'en prends 4.  
Combien le caissier va-t-il me demander ?

Comprendre	Entourer	Réfléchir	Vérifier	Ecrire	Attention à l'unité

**Résolution de problèmes****Problème n°3**

À la papeterie, Inès achète 12 stylos pour 15 €. J'en prends 4.  
Combien le caissier va-t-il me demander ?

Comprendre	Entourer	Réfléchir	Vérifier	Ecrire	Attention à l'unité

**Résolution de problèmes****Problème n°3**

À la papeterie, Inès achète 12 stylos pour 15 €. J'en prends 4.  
Combien le caissier va-t-il me demander ?

Comprendre	Entourer	Réfléchir	Vérifier	Ecrire	Attention à l'unité

**Résolution de problèmes****Problème n°3**

À la papeterie, Inès achète 12 stylos pour 15 €. J'en prends 4.  
Combien le caissier va-t-il me demander ?

 3,75 € 5 € 7,5 € 16 €**Résolution de problèmes****Problème n°3**

À la papeterie, Inès achète 12 stylos pour 15 €. J'en prends 4.  
Combien le caissier va-t-il me demander ?

 3,75 € 5 € 7,5 € 16 €**Résolution de problèmes****Problème n°3**

À la papeterie, Inès achète 12 stylos pour 15 €. J'en prends 4.  
Combien le caissier va-t-il me demander ?

 3,75 € 5 € 7,5 € 16 €**Résolution de problèmes****Problème n°3**

À la papeterie, Inès achète 12 stylos pour 15 €. J'en prends 4.  
Combien le caissier va-t-il me demander ?

 3,75 € 5 € 7,5 € 16 €**Résolution de problèmes****Problème n°3**

À la papeterie, Inès achète 12 stylos pour 15 €. J'en prends 4.  
Combien le caissier va-t-il me demander ?

 3,75 € 5 € 7,5 € 16 €**Résolution de problèmes****Problème n°3**

À la papeterie, Inès achète 12 stylos pour 15 €. J'en prends 4.  
Combien le caissier va-t-il me demander ?

 3,75 € 5 € 7,5 € 16 €

**Résolution de problèmes****Problème n°4**

Chez le fleuriste, Hugo achète 24 roses pour 21 €. Je décide de prendre 8 roses.  
Combien vais-je payer ?

Comprendre	Entourer	Réfléchir	Vérifier	Ecrire	Attention à l'unité

**Résolution de problèmes****Problème n°4**

Chez le fleuriste, Hugo achète 24 roses pour 21 €. Je décide de prendre 8 roses.  
Combien vais-je payer ?

Comprendre	Entourer	Réfléchir	Vérifier	Ecrire	Attention à l'unité

**Résolution de problèmes****Problème n°4**

Chez le fleuriste, Hugo achète 24 roses pour 21 €. Je décide de prendre 8 roses.  
Combien vais-je payer ?

Comprendre	Entourer	Réfléchir	Vérifier	Ecrire	Attention à l'unité

**Résolution de problèmes****Problème n°4**

Chez le fleuriste, Hugo achète 24 roses pour 21 €. Je décide de prendre 8 roses.  
Combien vais-je payer ?

Comprendre	Entourer	Réfléchir	Vérifier	Ecrire	Attention à l'unité

**Résolution de problèmes****Problème n°4**

Chez le fleuriste, Hugo achète 24 roses pour 21 €. Je décide de prendre 8 roses.  
Combien vais-je payer ?

Comprendre	Entourer	Réfléchir	Vérifier	Ecrire	Attention à l'unité

**Résolution de problèmes****Problème n°4**

Chez le fleuriste, Hugo achète 24 roses pour 21 €. Je décide de prendre 8 roses.  
Combien vais-je payer ?

Comprendre	Entourer	Réfléchir	Vérifier	Ecrire	Attention à l'unité

**Résolution de problèmes****Problème n°4**

Chez le fleuriste, Hugo achète 24 roses pour 21 €. Je décide de prendre 8 roses.  
Combien vais-je payer ?

 7 € 2,62 € 13 € 16 €**Résolution de problèmes****Problème n°4**

Chez le fleuriste, Hugo achète 24 roses pour 21 €. Je décide de prendre 8 roses.  
Combien vais-je payer ?

 7 € 2,62 € 13 € 16 €**Résolution de problèmes****Problème n°4**

Chez le fleuriste, Hugo achète 24 roses pour 21 €. Je décide de prendre 8 roses.  
Combien vais-je payer ?

 7 € 2,62 € 13 € 16 €**Résolution de problèmes****Problème n°4**

Chez le fleuriste, Hugo achète 24 roses pour 21 €. Je décide de prendre 8 roses.  
Combien vais-je payer ?

 7 € 2,62 € 13 € 16 €**Résolution de problèmes****Problème n°4**

Chez le fleuriste, Hugo achète 24 roses pour 21 €. Je décide de prendre 8 roses.  
Combien vais-je payer ?

 7 € 2,62 € 13 € 16 €**Résolution de problèmes****Problème n°4**

Chez le fleuriste, Hugo achète 24 roses pour 21 €. Je décide de prendre 8 roses.  
Combien vais-je payer ?

 7 € 2,62 € 13 € 16 €**Résolution de problèmes****Problème n°4**

Chez le fleuriste, Hugo achète 24 roses pour 21 €. Je décide de prendre 8 roses.  
Combien vais-je payer ?

 7 € 2,62 € 13 € 16 €

**Résolution de problèmes****Problème n°5**

À la boulangerie, Tom achète 24 gâteaux pour 36 €. J'en prends 6.  
Combien dois-je donner au caissier ?

Comprendre	Entourer	Réfléchir	Vérifier	Ecrire	Attention à l'unité

**Résolution de problèmes****Problème n°5**

À la boulangerie, Tom achète 24 gâteaux pour 36 €. J'en prends 6.  
Combien dois-je donner au caissier ?

Comprendre	Entourer	Réfléchir	Vérifier	Ecrire	Attention à l'unité

**Résolution de problèmes****Problème n°5**

À la boulangerie, Tom achète 24 gâteaux pour 36 €. J'en prends 6.  
Combien dois-je donner au caissier ?

Comprendre	Entourer	Réfléchir	Vérifier	Ecrire	Attention à l'unité

**Résolution de problèmes****Problème n°5**

À la boulangerie, Tom achète 24 gâteaux pour 36 €. J'en prends 6.  
Combien dois-je donner au caissier ?

Comprendre	Entourer	Réfléchir	Vérifier	Ecrire	Attention à l'unité

**Résolution de problèmes****Problème n°5**

À la boulangerie, Tom achète 24 gâteaux pour 36 €. J'en prends 6.  
Combien dois-je donner au caissier ?

Comprendre	Entourer	Réfléchir	Vérifier	Ecrire	Attention à l'unité

**Résolution de problèmes****Problème n°5**

À la boulangerie, Tom achète 24 gâteaux pour 36 €. J'en prends 6.  
Combien dois-je donner au caissier ?

Comprendre	Entourer	Réfléchir	Vérifier	Ecrire	Attention à l'unité

**Résolution de problèmes****Problème n°5**

À la boulangerie, Tom achète 24 gâteaux pour 36 €. J'en prends 6.  
Combien dois-je donner au caissier ?

 7 € 9 € 18 € 12 €**Résolution de problèmes****Problème n°5**

À la boulangerie, Tom achète 24 gâteaux pour 36 €. J'en prends 6.  
Combien dois-je donner au caissier ?

 7 € 9 € 18 € 12 €**Résolution de problèmes****Problème n°5**

À la boulangerie, Tom achète 24 gâteaux pour 36 €. J'en prends 6.  
Combien dois-je donner au caissier ?

 7 € 9 € 18 € 12 €**Résolution de problèmes****Problème n°5**

À la boulangerie, Tom achète 24 gâteaux pour 36 €. J'en prends 6.  
Combien dois-je donner au caissier ?

 7 € 9 € 18 € 12 €**Résolution de problèmes****Problème n°5**

À la boulangerie, Tom achète 24 gâteaux pour 36 €. J'en prends 6.  
Combien dois-je donner au caissier ?

 7 € 9 € 18 € 12 €**Résolution de problèmes****Problème n°5**

À la boulangerie, Tom achète 24 gâteaux pour 36 €. J'en prends 6.  
Combien dois-je donner au caissier ?

 7 € 9 € 18 € 12 €**Résolution de problèmes****Problème n°5**

À la boulangerie, Tom achète 24 gâteaux pour 36 €. J'en prends 6.  
Combien dois-je donner au caissier ?

 7 € 9 € 18 € 12 €

**Résolution de problèmes****Problème n°6**

Dans une recette, pour faire un gâteau au chocolat pour 8 personnes, il faut 4 œufs.  
Combien dois-je prévoir d'œufs pour 24 personnes ?

Comprendre	Entourer	Réfléchir	Vérifier	Ecrire	Attention à l'unité

**Résolution de problèmes****Problème n°6**

Dans une recette, pour faire un gâteau au chocolat pour 8 personnes, il faut 4 œufs.  
Combien dois-je prévoir d'œufs pour 24 personnes ?

Comprendre	Entourer	Réfléchir	Vérifier	Ecrire	Attention à l'unité

**Résolution de problèmes****Problème n°6**

Dans une recette, pour faire un gâteau au chocolat pour 8 personnes, il faut 4 œufs.  
Combien dois-je prévoir d'œufs pour 24 personnes ?

Comprendre	Entourer	Réfléchir	Vérifier	Ecrire	Attention à l'unité

**Résolution de problèmes****Problème n°6**

Dans une recette, pour faire un gâteau au chocolat pour 8 personnes, il faut 4 œufs.  
Combien dois-je prévoir d'œufs pour 24 personnes ?

Comprendre	Entourer	Réfléchir	Vérifier	Ecrire	Attention à l'unité

**Résolution de problèmes****Problème n°6**

Dans une recette, pour faire un gâteau au chocolat pour 8 personnes, il faut 4 œufs.  
Combien dois-je prévoir d'œufs pour 24 personnes ?

Comprendre	Entourer	Réfléchir	Vérifier	Ecrire	Attention à l'unité

**Résolution de problèmes****Problème n°6**

Dans une recette, pour faire un gâteau au chocolat pour 8 personnes, il faut 4 œufs.  
Combien dois-je prévoir d'œufs pour 24 personnes ?

Comprendre	Entourer	Réfléchir	Vérifier	Ecrire	Attention à l'unité

**Résolution de problèmes****Problème n°6**

Dans une recette, pour faire un gâteau au chocolat pour 8 personnes, il faut 4 œufs.  
Combien dois-je prévoir d'œufs pour 24 personnes ?

 12 24 28 32**Résolution de problèmes****Problème n°6**

Dans une recette, pour faire un gâteau au chocolat pour 8 personnes, il faut 4 œufs.  
Combien dois-je prévoir d'œufs pour 24 personnes ?

 12 24 28 32**Résolution de problèmes****Problème n°6**

Dans une recette, pour faire un gâteau au chocolat pour 8 personnes, il faut 4 œufs.  
Combien dois-je prévoir d'œufs pour 24 personnes ?

 12 24 28 32**Résolution de problèmes****Problème n°6**

Dans une recette, pour faire un gâteau au chocolat pour 8 personnes, il faut 4 œufs.  
Combien dois-je prévoir d'œufs pour 24 personnes ?

 12 24 28 32**Résolution de problèmes****Problème n°6**

Dans une recette, pour faire un gâteau au chocolat pour 8 personnes, il faut 4 œufs.  
Combien dois-je prévoir d'œufs pour 24 personnes ?

 12 24 28 32**Résolution de problèmes****Problème n°6**

Dans une recette, pour faire un gâteau au chocolat pour 8 personnes, il faut 4 œufs.  
Combien dois-je prévoir d'œufs pour 24 personnes ?

 12 24 28 32

**Résolution de problèmes****Problème n°7**

Pour faire des crêpes pour 6 personnes, il faut 300 g de farine.  
Combien faut-il de farine pour 18 personnes ?

Comprendre	Entourer	Réfléchir	Vérifier	Ecrire	Attention à l'unité

**Résolution de problèmes****Problème n°7**

Pour faire des crêpes pour 6 personnes, il faut 300 g de farine.  
Combien faut-il de farine pour 18 personnes ?

Comprendre	Entourer	Réfléchir	Vérifier	Ecrire	Attention à l'unité

**Résolution de problèmes****Problème n°7**

Pour faire des crêpes pour 6 personnes, il faut 300 g de farine.  
Combien faut-il de farine pour 18 personnes ?

Comprendre	Entourer	Réfléchir	Vérifier	Ecrire	Attention à l'unité

**Résolution de problèmes****Problème n°7**

Pour faire des crêpes pour 6 personnes, il faut 300 g de farine.  
Combien faut-il de farine pour 18 personnes ?

Comprendre	Entourer	Réfléchir	Vérifier	Ecrire	Attention à l'unité

**Résolution de problèmes****Problème n°7**

Pour faire des crêpes pour 6 personnes, il faut 300 g de farine.  
Combien faut-il de farine pour 18 personnes ?

Comprendre	Entourer	Réfléchir	Vérifier	Ecrire	Attention à l'unité

**Résolution de problèmes****Problème n°7**

Pour faire des crêpes pour 6 personnes, il faut 300 g de farine.  
Combien faut-il de farine pour 18 personnes ?

Comprendre	Entourer	Réfléchir	Vérifier	Ecrire	Attention à l'unité

**Résolution de problèmes****Problème n°7**

Pour faire des crêpes pour 6 personnes, il faut 300 g de farine.  
Combien faut-il de farine pour 18 personnes ?

 1800 g 900 g 600 g 1200 g**Résolution de problèmes****Problème n°7**

Pour faire des crêpes pour 6 personnes, il faut 300 g de farine.  
Combien faut-il de farine pour 18 personnes ?

 1800 g 900 g 600 g 1200 g**Résolution de problèmes****Problème n°7**

Pour faire des crêpes pour 6 personnes, il faut 300 g de farine.  
Combien faut-il de farine pour 18 personnes ?

 1800 g 900 g 600 g 1200 g**Résolution de problèmes****Problème n°7**

Pour faire des crêpes pour 6 personnes, il faut 300 g de farine.  
Combien faut-il de farine pour 18 personnes ?

 1800 g 900 g 600 g 1200 g**Résolution de problèmes****Problème n°7**

Pour faire des crêpes pour 6 personnes, il faut 300 g de farine.  
Combien faut-il de farine pour 18 personnes ?

 1800 g 900 g 600 g 1200 g**Résolution de problèmes****Problème n°7**

Pour faire des crêpes pour 6 personnes, il faut 300 g de farine.  
Combien faut-il de farine pour 18 personnes ?

 1800 g 900 g 600 g 1200 g

**Résolution de problèmes****Problème n°8**

Pour faire un gâteau pour 10 personnes, il faut 200 g de sucre.  
Combien faut-il de sucre pour 30 personnes ?

Comprendre	Entourer	Réfléchir	Vérifier	Ecrire	Attention à l'unité

**Résolution de problèmes****Problème n°8**

Pour faire un gâteau pour 10 personnes, il faut 200 g de sucre.  
Combien faut-il de sucre pour 30 personnes ?

Comprendre	Entourer	Réfléchir	Vérifier	Ecrire	Attention à l'unité

**Résolution de problèmes****Problème n°8**

Pour faire un gâteau pour 10 personnes, il faut 200 g de sucre.  
Combien faut-il de sucre pour 30 personnes ?

Comprendre	Entourer	Réfléchir	Vérifier	Ecrire	Attention à l'unité

**Résolution de problèmes****Problème n°8**

Pour faire un gâteau pour 10 personnes, il faut 200 g de sucre.  
Combien faut-il de sucre pour 30 personnes ?

Comprendre	Entourer	Réfléchir	Vérifier	Ecrire	Attention à l'unité

**Résolution de problèmes****Problème n°8**

Pour faire un gâteau pour 10 personnes, il faut 200 g de sucre.  
Combien faut-il de sucre pour 30 personnes ?

Comprendre	Entourer	Réfléchir	Vérifier	Ecrire	Attention à l'unité

**Résolution de problèmes****Problème n°8**

Pour faire un gâteau pour 10 personnes, il faut 200 g de sucre.  
Combien faut-il de sucre pour 30 personnes ?

Comprendre	Entourer	Réfléchir	Vérifier	Ecrire	Attention à l'unité

**Résolution de problèmes****Problème n°8**

Pour faire un gâteau pour 10 personnes, il faut 200 g de sucre.  
Combien faut-il de sucre pour 30 personnes ?

 900 g 2 000 g 1200 g 600 g**Résolution de problèmes****Problème n°8**

Pour faire un gâteau pour 10 personnes, il faut 200 g de sucre.  
Combien faut-il de sucre pour 30 personnes ?

 900 g 2 000 g 1200 g 600 g**Résolution de problèmes****Problème n°8**

Pour faire un gâteau pour 10 personnes, il faut 200 g de sucre.  
Combien faut-il de sucre pour 30 personnes ?

 900 g 2 000 g 1200 g 600 g**Résolution de problèmes****Problème n°8**

Pour faire un gâteau pour 10 personnes, il faut 200 g de sucre.  
Combien faut-il de sucre pour 30 personnes ?

 900 g 2 000 g 1200 g 600 g**Résolution de problèmes****Problème n°8**

Pour faire un gâteau pour 10 personnes, il faut 200 g de sucre.  
Combien faut-il de sucre pour 30 personnes ?

 900 g 2 000 g 1200 g 600 g**Résolution de problèmes****Problème n°8**

Pour faire un gâteau pour 10 personnes, il faut 200 g de sucre.  
Combien faut-il de sucre pour 30 personnes ?

 900 g 2 000 g 1200 g 600 g

**Résolution de problèmes****Problème n°9**

Pour réaliser des muffins pour 5 personnes, il faut 100 g de beurre.  
Combien faut-il de beurre pour 25 personnes ?

Comprendre	Entourer	Réfléchir	Vérifier	Ecrire	Attention à l'unité

**Résolution de problèmes****Problème n°9**

Pour réaliser des muffins pour 5 personnes, il faut 100 g de beurre.  
Combien faut-il de beurre pour 25 personnes ?

Comprendre	Entourer	Réfléchir	Vérifier	Ecrire	Attention à l'unité

**Résolution de problèmes****Problème n°9**

Pour réaliser des muffins pour 5 personnes, il faut 100 g de beurre.  
Combien faut-il de beurre pour 25 personnes ?

Comprendre	Entourer	Réfléchir	Vérifier	Ecrire	Attention à l'unité

**Résolution de problèmes****Problème n°9**

Pour réaliser des muffins pour 5 personnes, il faut 100 g de beurre.  
Combien faut-il de beurre pour 25 personnes ?

Comprendre	Entourer	Réfléchir	Vérifier	Ecrire	Attention à l'unité

**Résolution de problèmes****Problème n°9**

Pour réaliser des muffins pour 5 personnes, il faut 100 g de beurre.  
Combien faut-il de beurre pour 25 personnes ?

Comprendre	Entourer	Réfléchir	Vérifier	Ecrire	Attention à l'unité

**Résolution de problèmes****Problème n°9**

Pour réaliser des muffins pour 5 personnes, il faut 100 g de beurre.  
Combien faut-il de beurre pour 25 personnes ?

Comprendre	Entourer	Réfléchir	Vérifier	Ecrire	Attention à l'unité

**Résolution de problèmes****Problème n°9**

Pour réaliser des muffins pour 5 personnes, il faut 100 g de beurre.  
Combien faut-il de beurre pour 25 personnes ?

 400 g 500 g 250g 600 g**Résolution de problèmes****Problème n°9**

Pour réaliser des muffins pour 5 personnes, il faut 100 g de beurre.  
Combien faut-il de beurre pour 25 personnes ?

 400 g 500 g 250g 600 g**Résolution de problèmes****Problème n°9**

Pour réaliser des muffins pour 5 personnes, il faut 100 g de beurre.  
Combien faut-il de beurre pour 25 personnes ?

 400 g 500 g 250g 600 g**Résolution de problèmes****Problème n°9**

Pour réaliser des muffins pour 5 personnes, il faut 100 g de beurre.  
Combien faut-il de beurre pour 25 personnes ?

 400 g 500 g 250g 600 g**Résolution de problèmes****Problème n°9**

Pour réaliser des muffins pour 5 personnes, il faut 100 g de beurre.  
Combien faut-il de beurre pour 25 personnes ?

 400 g 500 g 250g 600 g**Résolution de problèmes****Problème n°9**

Pour réaliser des muffins pour 5 personnes, il faut 100 g de beurre.  
Combien faut-il de beurre pour 25 personnes ?

 400 g 500 g 250g 600 g

**Résolution de problèmes****Problème n°10**

Pour faire un dessert pour 7 personnes, il faut 250 ml de lait.  
Combien faut-il de lait pour 49 personnes ?

Comprendre	Entourer	Réfléchir	Vérifier	Ecrire	Attention à l'unité

**Résolution de problèmes****Problème n°10**

Pour faire un dessert pour 7 personnes, il faut 250 ml de lait.  
Combien faut-il de lait pour 49 personnes ?

Comprendre	Entourer	Réfléchir	Vérifier	Ecrire	Attention à l'unité

**Résolution de problèmes****Problème n°10**

Pour faire un dessert pour 7 personnes, il faut 250 ml de lait.  
Combien faut-il de lait pour 49 personnes ?

Comprendre	Entourer	Réfléchir	Vérifier	Ecrire	Attention à l'unité

**Résolution de problèmes****Problème n°10**

Pour faire un dessert pour 7 personnes, il faut 250 ml de lait.  
Combien faut-il de lait pour 49 personnes ?

Comprendre	Entourer	Réfléchir	Vérifier	Ecrire	Attention à l'unité

**Résolution de problèmes****Problème n°10**

Pour faire un dessert pour 7 personnes, il faut 250 ml de lait.  
Combien faut-il de lait pour 49 personnes ?

Comprendre	Entourer	Réfléchir	Vérifier	Ecrire	Attention à l'unité

**Résolution de problèmes****Problème n°10**

Pour faire un dessert pour 7 personnes, il faut 250 ml de lait.  
Combien faut-il de lait pour 49 personnes ?

Comprendre	Entourer	Réfléchir	Vérifier	Ecrire	Attention à l'unité

**Résolution de problèmes****Problème n°10**

Pour faire un dessert pour 7 personnes, il faut 250 ml de lait.  
Combien faut-il de lait pour 49 personnes ?

- 1250 ml     1500 ml     1750 ml     299 ml

**Résolution de problèmes****Problème n°10**

Pour faire un dessert pour 7 personnes, il faut 250 ml de lait.  
Combien faut-il de lait pour 49 personnes ?

- 1250 ml     1500 ml     1750 ml     299 ml

**Résolution de problèmes****Problème n°10**

Pour faire un dessert pour 7 personnes, il faut 250 ml de lait.  
Combien faut-il de lait pour 49 personnes ?

- 1250 ml     1500 ml     1750 ml     299 ml

**Résolution de problèmes****Problème n°10**

Pour faire un dessert pour 7 personnes, il faut 250 ml de lait.  
Combien faut-il de lait pour 49 personnes ?

- 1250 ml     1500 ml     1750 ml     299 ml

**Résolution de problèmes****Problème n°10**

Pour faire un dessert pour 7 personnes, il faut 250 ml de lait.  
Combien faut-il de lait pour 49 personnes ?

- 1250 ml     1500 ml     1750 ml     299 ml

**Résolution de problèmes****Problème n°10**

Pour faire un dessert pour 7 personnes, il faut 250 ml de lait.  
Combien faut-il de lait pour 49 personnes ?

- 1250 ml     1500 ml     1750 ml     299 ml

**Résolution de problèmes****Problème n°10**

Pour faire un dessert pour 7 personnes, il faut 250 ml de lait.  
Combien faut-il de lait pour 49 personnes ?

- 1250 ml     1500 ml     1750 ml     299 ml

**Résolution de problèmes****Problème n°11**

Pour préparer un gâteau pour 9 personnes, il faut 5 œufs.  
Combien faut-il d'œufs pour 63 personnes ?

Comprendre	Entourer	Réfléchir	Vérifier	Ecrire	Attention à l'unité

**Résolution de problèmes****Problème n°11**

Pour préparer un gâteau pour 9 personnes, il faut 5 œufs.  
Combien faut-il d'œufs pour 63 personnes ?

Comprendre	Entourer	Réfléchir	Vérifier	Ecrire	Attention à l'unité

**Résolution de problèmes****Problème n°11**

Pour préparer un gâteau pour 9 personnes, il faut 5 œufs.  
Combien faut-il d'œufs pour 63 personnes ?

Comprendre	Entourer	Réfléchir	Vérifier	Ecrire	Attention à l'unité

**Résolution de problèmes****Problème n°11**

Pour préparer un gâteau pour 9 personnes, il faut 5 œufs.  
Combien faut-il d'œufs pour 63 personnes ?

Comprendre	Entourer	Réfléchir	Vérifier	Ecrire	Attention à l'unité

**Résolution de problèmes****Problème n°11**

Pour préparer un gâteau pour 9 personnes, il faut 5 œufs.  
Combien faut-il d'œufs pour 63 personnes ?

Comprendre	Entourer	Réfléchir	Vérifier	Ecrire	Attention à l'unité

**Résolution de problèmes****Problème n°11**

Pour préparer un gâteau pour 9 personnes, il faut 5 œufs.  
Combien faut-il d'œufs pour 63 personnes ?

Comprendre	Entourer	Réfléchir	Vérifier	Ecrire	Attention à l'unité

**Résolution de problèmes****Problème n°11**

Pour préparer un gâteau pour 9 personnes, il faut 5 œufs.  
Combien faut-il d'œufs pour 63 personnes ?

35 oeufs    49 oeufs    40 oeufs    30 oeufs

**Résolution de problèmes****Problème n°11**

Pour préparer un gâteau pour 9 personnes, il faut 5 œufs.  
Combien faut-il d'œufs pour 63 personnes ?

35 oeufs    49 oeufs    40 oeufs    30 oeufs

**Résolution de problèmes****Problème n°11**

Pour préparer un gâteau pour 9 personnes, il faut 5 œufs.  
Combien faut-il d'œufs pour 63 personnes ?

35 oeufs    49 oeufs    40 oeufs    30 oeufs

**Résolution de problèmes****Problème n°11**

Pour préparer un gâteau pour 9 personnes, il faut 5 œufs.  
Combien faut-il d'œufs pour 63 personnes ?

35 oeufs    49 oeufs    40 oeufs    30 oeufs

**Résolution de problèmes****Problème n°11**

Pour préparer un gâteau pour 9 personnes, il faut 5 œufs.  
Combien faut-il d'œufs pour 63 personnes ?

35 oeufs    49 oeufs    40 oeufs    30 oeufs

**Résolution de problèmes****Problème n°11**

Pour préparer un gâteau pour 9 personnes, il faut 5 œufs.  
Combien faut-il d'œufs pour 63 personnes ?

35 oeufs    49 oeufs    40 oeufs    30 oeufs

**Résolution de problèmes****Problème n°11**

Pour préparer un gâteau pour 9 personnes, il faut 5 œufs.  
Combien faut-il d'œufs pour 63 personnes ?

35 oeufs    49 oeufs    40 oeufs    30 oeufs

**Résolution de problèmes****Problème n°12**

Carl et Lucie courent autour d'un stade. Ils courent à la même vitesse, mais Carl a commencé à courir avant Lucie. Quand Carl a parcouru 6 tours, Lucie a parcouru 2 tours. Combien de tours aura parcourus Carl quand Lucie en aura parcouru 4 ?

Comprendre	Entourer	Réfléchir	Vérifier	Ecrire	Attention à l'unité

**Résolution de problèmes****Problème n°12**

Carl et Lucie courent autour d'un stade. Ils courent à la même vitesse, mais Carl a commencé à courir avant Lucie. Quand Carl a parcouru 6 tours, Lucie a parcouru 2 tours. Combien de tours aura parcourus Carl quand Lucie en aura parcouru 4 ?

Comprendre	Entourer	Réfléchir	Vérifier	Ecrire	Attention à l'unité

**Résolution de problèmes****Problème n°12**

Carl et Lucie courent autour d'un stade. Ils courent à la même vitesse, mais Carl a commencé à courir avant Lucie. Quand Carl a parcouru 6 tours, Lucie a parcouru 2 tours. Combien de tours aura parcourus Carl quand Lucie en aura parcouru 4 ?

Comprendre	Entourer	Réfléchir	Vérifier	Ecrire	Attention à l'unité

**Résolution de problèmes****Problème n°12**

Carl et Lucie courent autour d'un stade. Ils courent à la même vitesse, mais Carl a commencé à courir avant Lucie. Quand Carl a parcouru 6 tours, Lucie a parcouru 2 tours. Combien de tours aura parcourus Carl quand Lucie en aura parcouru 4 ?

Comprendre	Entourer	Réfléchir	Vérifier	Ecrire	Attention à l'unité

**Résolution de problèmes****Problème n°12**

Carl et Lucie courent autour d'un stade. Ils courent à la même vitesse, mais Carl a commencé à courir avant Lucie. Quand Carl a parcouru 6 tours, Lucie a parcouru 2 tours. Combien de tours aura parcourus Carl quand Lucie en aura parcouru 4 ?

Comprendre	Entourer	Réfléchir	Vérifier	Ecrire	Attention à l'unité

**Résolution de problèmes****Problème n°12**

Carl et Lucie courent autour d'un stade. Ils courent à la même vitesse, mais Carl a commencé à courir avant Lucie. Quand Carl a parcouru 6 tours, Lucie a parcouru 2 tours. Combien de tours aura parcourus Carl quand Lucie en aura parcouru 4 ?

 10 12 8 6**Résolution de problèmes****Problème n°12**

Carl et Lucie courent autour d'un stade. Ils courent à la même vitesse, mais Carl a commencé à courir avant Lucie. Quand Carl a parcouru 6 tours, Lucie a parcouru 2 tours. Combien de tours aura parcourus Carl quand Lucie en aura parcouru 4 ?

 10 12 8 6**Résolution de problèmes****Problème n°12**

Carl et Lucie courent autour d'un stade. Ils courent à la même vitesse, mais Carl a commencé à courir avant Lucie. Quand Carl a parcouru 6 tours, Lucie a parcouru 2 tours. Combien de tours aura parcourus Carl quand Lucie en aura parcouru 4 ?

 10 12 8 6**Résolution de problèmes****Problème n°12**

Carl et Lucie courent autour d'un stade. Ils courent à la même vitesse, mais Carl a commencé à courir avant Lucie. Quand Carl a parcouru 6 tours, Lucie a parcouru 2 tours. Combien de tours aura parcourus Carl quand Lucie en aura parcouru 4 ?

 10 12 8 6**Résolution de problèmes****Problème n°12**

Carl et Lucie courent autour d'un stade. Ils courent à la même vitesse, mais Carl a commencé à courir avant Lucie. Quand Carl a parcouru 6 tours, Lucie a parcouru 2 tours. Combien de tours aura parcourus Carl quand Lucie en aura parcouru 4 ?

 10 12 8 6**Résolution de problèmes****Problème n°12**

Carl et Lucie courent autour d'un stade. Ils courent à la même vitesse, mais Carl a commencé à courir avant Lucie. Quand Carl a parcouru 6 tours, Lucie a parcouru 2 tours. Combien de tours aura parcourus Carl quand Lucie en aura parcouru 4 ?

 10 12 8 6

**Résolution de problèmes****Problème n°13**

Sur un circuit, Hugo et Lina font du vélo à la même vitesse. Hugo a commencé avant Lina. Quand Hugo a fait 15 tours, Lina en a fait 5.

Combien de tours aura parcourus Hugo quand Lina en aura fait 10 ?

Comprendre	Entourer	Réfléchir	Vérifier	Ecrire	Attention à l'unité

**Résolution de problèmes****Problème n°13**

Sur un circuit, Hugo et Lina font du vélo à la même vitesse. Hugo a commencé avant Lina. Quand Hugo a fait 15 tours, Lina en a fait 5.

Combien de tours aura parcourus Hugo quand Lina en aura fait 10 ?

Comprendre	Entourer	Réfléchir	Vérifier	Ecrire	Attention à l'unité

**Résolution de problèmes****Problème n°13**

Sur un circuit, Hugo et Lina font du vélo à la même vitesse. Hugo a commencé avant Lina. Quand Hugo a fait 15 tours, Lina en a fait 5.

Combien de tours aura parcourus Hugo quand Lina en aura fait 10 ?

Comprendre	Entourer	Réfléchir	Vérifier	Ecrire	Attention à l'unité

**Résolution de problèmes****Problème n°13**

Sur un circuit, Hugo et Lina font du vélo à la même vitesse. Hugo a commencé avant Lina. Quand Hugo a fait 15 tours, Lina en a fait 5.

Combien de tours aura parcourus Hugo quand Lina en aura fait 10 ?

Comprendre	Entourer	Réfléchir	Vérifier	Ecrire	Attention à l'unité

**Résolution de problèmes****Problème n°13**

Sur un circuit, Hugo et Lina font du vélo à la même vitesse. Hugo a commencé avant Lina. Quand Hugo a fait 15 tours, Lina en a fait 5.

Combien de tours aura parcourus Hugo quand Lina en aura fait 10 ?

Comprendre	Entourer	Réfléchir	Vérifier	Ecrire	Attention à l'unité

**Résolution de problèmes****Problème n°13**

Sur un circuit, Hugo et Lina font du vélo à la même vitesse. Hugo a commencé avant Lina. Quand Hugo a fait 15 tours, Lina en a fait 5.

Combien de tours aura parcourus Hugo quand Lina en aura fait 10 ?

 15 20 30 25**Résolution de problèmes****Problème n°13**

Sur un circuit, Hugo et Lina font du vélo à la même vitesse. Hugo a commencé avant Lina. Quand Hugo a fait 15 tours, Lina en a fait 5.

Combien de tours aura parcourus Hugo quand Lina en aura fait 10 ?

 15 20 30 25**Résolution de problèmes****Problème n°13**

Sur un circuit, Hugo et Lina font du vélo à la même vitesse. Hugo a commencé avant Lina. Quand Hugo a fait 15 tours, Lina en a fait 5.

Combien de tours aura parcourus Hugo quand Lina en aura fait 10 ?

 15 20 30 25**Résolution de problèmes****Problème n°13**

Sur un circuit, Hugo et Lina font du vélo à la même vitesse. Hugo a commencé avant Lina. Quand Hugo a fait 15 tours, Lina en a fait 5.

Combien de tours aura parcourus Hugo quand Lina en aura fait 10 ?

 15 20 30 25**Résolution de problèmes****Problème n°13**

Sur un circuit, Hugo et Lina font du vélo à la même vitesse. Hugo a commencé avant Lina. Quand Hugo a fait 15 tours, Lina en a fait 5.

Combien de tours aura parcourus Hugo quand Lina en aura fait 10 ?

 15 20 30 25**Résolution de problèmes****Problème n°13**

Sur un circuit, Hugo et Lina font du vélo à la même vitesse. Hugo a commencé avant Lina. Quand Hugo a fait 15 tours, Lina en a fait 5.

Combien de tours aura parcourus Hugo quand Lina en aura fait 10 ?

 15 20 30 25

**Résolution de problèmes****Problème n°14**

Dans une piscine, Tom et Inès nagent à la même vitesse. Tom est parti avant Inès.  
 Quand Tom a fait 36 longueurs, Inès en a fait 24.  
 Combien de longueurs aura faites Tom quand Inès en aura fait 6 ?

Comprendre	Entourer	Réfléchir	Vérifier	Ecrire	Attention à l'unité

**Résolution de problèmes****Problème n°14**

Dans une piscine, Tom et Inès nagent à la même vitesse. Tom est parti avant Inès.  
 Quand Tom a fait 36 longueurs, Inès en a fait 24.  
 Combien de longueurs aura faites Tom quand Inès en aura fait 6 ?

Comprendre	Entourer	Réfléchir	Vérifier	Ecrire	Attention à l'unité

**Résolution de problèmes****Problème n°14**

Dans une piscine, Tom et Inès nagent à la même vitesse. Tom est parti avant Inès.  
 Quand Tom a fait 36 longueurs, Inès en a fait 24.  
 Combien de longueurs aura faites Tom quand Inès en aura fait 6 ?

Comprendre	Entourer	Réfléchir	Vérifier	Ecrire	Attention à l'unité

**Résolution de problèmes****Problème n°14**

Dans une piscine, Tom et Inès nagent à la même vitesse. Tom est parti avant Inès.  
 Quand Tom a fait 36 longueurs, Inès en a fait 24.  
 Combien de longueurs aura faites Tom quand Inès en aura fait 6 ?

Comprendre	Entourer	Réfléchir	Vérifier	Ecrire	Attention à l'unité

**Résolution de problèmes****Problème n°14**

Dans une piscine, Tom et Inès nagent à la même vitesse. Tom est parti avant Inès.  
 Quand Tom a fait 36 longueurs, Inès en a fait 24.  
 Combien de longueurs aura faites Tom quand Inès en aura fait 6 ?

Comprendre	Entourer	Réfléchir	Vérifier	Ecrire	Attention à l'unité

**Résolution de problèmes****Problème n°14**

Dans une piscine, Tom et Inès nagent à la même vitesse. Tom est parti avant Inès.  
Quand Tom a fait 36 longueurs, Inès en a fait 24.  
Combien de longueurs aura faites Tom quand Inès en aura fait 6 ?

 9 10 12 18**Résolution de problèmes****Problème n°14**

Dans une piscine, Tom et Inès nagent à la même vitesse. Tom est parti avant Inès.  
Quand Tom a fait 36 longueurs, Inès en a fait 24.  
Combien de longueurs aura faites Tom quand Inès en aura fait 6 ?

 9 10 12 18**Résolution de problèmes****Problème n°14**

Dans une piscine, Tom et Inès nagent à la même vitesse. Tom est parti avant Inès.  
Quand Tom a fait 36 longueurs, Inès en a fait 24.  
Combien de longueurs aura faites Tom quand Inès en aura fait 6 ?

 9 10 12 18**Résolution de problèmes****Problème n°14**

Dans une piscine, Tom et Inès nagent à la même vitesse. Tom est parti avant Inès.  
Quand Tom a fait 36 longueurs, Inès en a fait 24.  
Combien de longueurs aura faites Tom quand Inès en aura fait 6 ?

 9 10 12 18**Résolution de problèmes****Problème n°14**

Dans une piscine, Tom et Inès nagent à la même vitesse. Tom est parti avant Inès.  
Quand Tom a fait 36 longueurs, Inès en a fait 24.  
Combien de longueurs aura faites Tom quand Inès en aura fait 6 ?

 9 10 12 18**Résolution de problèmes****Problème n°14**

Dans une piscine, Tom et Inès nagent à la même vitesse. Tom est parti avant Inès.  
Quand Tom a fait 36 longueurs, Inès en a fait 24.  
Combien de longueurs aura faites Tom quand Inès en aura fait 6 ?

 9 10 12 18

**Résolution de problèmes****Problème n°15**

Sur un circuit, Chloé et Lucas roulent à la même vitesse. Chloé est partie avant Lucas.  
 Quand Chloé a fait 20 tours, Lucas en a fait 15.  
 Combien de tours aura parcourus Chloé quand Lucas en aura fait 45 ?

Comprendre	Entourer	Réfléchir	Vérifier	Ecrire	Attention à l'unité

**Résolution de problèmes****Problème n°15**

Sur un circuit, Chloé et Lucas roulent à la même vitesse. Chloé est partie avant Lucas.  
 Quand Chloé a fait 20 tours, Lucas en a fait 15.  
 Combien de tours aura parcourus Chloé quand Lucas en aura fait 45 ?

Comprendre	Entourer	Réfléchir	Vérifier	Ecrire	Attention à l'unité

**Résolution de problèmes****Problème n°15**

Sur un circuit, Chloé et Lucas roulent à la même vitesse. Chloé est partie avant Lucas.  
 Quand Chloé a fait 20 tours, Lucas en a fait 15.  
 Combien de tours aura parcourus Chloé quand Lucas en aura fait 45 ?

Comprendre	Entourer	Réfléchir	Vérifier	Ecrire	Attention à l'unité

**Résolution de problèmes****Problème n°15**

Sur un circuit, Chloé et Lucas roulent à la même vitesse. Chloé est partie avant Lucas.  
 Quand Chloé a fait 20 tours, Lucas en a fait 15.  
 Combien de tours aura parcourus Chloé quand Lucas en aura fait 45 ?

Comprendre	Entourer	Réfléchir	Vérifier	Ecrire	Attention à l'unité

**Résolution de problèmes****Problème n°15**

Sur un circuit, Chloé et Lucas roulent à la même vitesse. Chloé est partie avant Lucas.  
 Quand Chloé a fait 20 tours, Lucas en a fait 15.  
 Combien de tours aura parcourus Chloé quand Lucas en aura fait 45 ?

Comprendre	Entourer	Réfléchir	Vérifier	Ecrire	Attention à l'unité

**Résolution de problèmes****Problème n°15**

Sur un circuit, Chloé et Lucas roulent à la même vitesse. Chloé est partie avant Lucas.  
Quand Chloé a fait 20 tours, Lucas en a fait 15.  
Combien de tours aura parcourus Chloé quand Lucas en aura fait 45 ?

 50 30 40 60**Résolution de problèmes****Problème n°15**

Sur un circuit, Chloé et Lucas roulent à la même vitesse. Chloé est partie avant Lucas.  
Quand Chloé a fait 20 tours, Lucas en a fait 15.  
Combien de tours aura parcourus Chloé quand Lucas en aura fait 45 ?

 50 30 40 60**Résolution de problèmes****Problème n°15**

Sur un circuit, Chloé et Lucas roulent à la même vitesse. Chloé est partie avant Lucas.  
Quand Chloé a fait 20 tours, Lucas en a fait 15.  
Combien de tours aura parcourus Chloé quand Lucas en aura fait 45 ?

 50 30 40 60**Résolution de problèmes****Problème n°15**

Sur un circuit, Chloé et Lucas roulent à la même vitesse. Chloé est partie avant Lucas.  
Quand Chloé a fait 20 tours, Lucas en a fait 15.  
Combien de tours aura parcourus Chloé quand Lucas en aura fait 45 ?

 50 30 40 60**Résolution de problèmes****Problème n°15**

Sur un circuit, Chloé et Lucas roulent à la même vitesse. Chloé est partie avant Lucas.  
Quand Chloé a fait 20 tours, Lucas en a fait 15.  
Combien de tours aura parcourus Chloé quand Lucas en aura fait 45 ?

 50 30 40 60**Résolution de problèmes****Problème n°15**

Sur un circuit, Chloé et Lucas roulent à la même vitesse. Chloé est partie avant Lucas.  
Quand Chloé a fait 20 tours, Lucas en a fait 15.  
Combien de tours aura parcourus Chloé quand Lucas en aura fait 45 ?

 50 30 40 60

**Résolution de problèmes****Problème n°16**

Sur une piste, Clara et Léa font du roller à la même vitesse. Clara est partie avant Léa.  
 Quand Clara a fait 42 tours, Léa en a fait 21.  
 Combien de tours aura parcourus Clara quand Léa en aura fait 56 ?

Comprendre	Entourer	Réfléchir	Vérifier	Ecrire	Attention à l'unité

**Résolution de problèmes****Problème n°16**

Sur une piste, Clara et Léa font du roller à la même vitesse. Clara est partie avant Léa.  
 Quand Clara a fait 42 tours, Léa en a fait 21.  
 Combien de tours aura parcourus Clara quand Léa en aura fait 56 ?

Comprendre	Entourer	Réfléchir	Vérifier	Ecrire	Attention à l'unité

**Résolution de problèmes****Problème n°16**

Sur une piste, Clara et Léa font du roller à la même vitesse. Clara est partie avant Léa.  
 Quand Clara a fait 42 tours, Léa en a fait 21.  
 Combien de tours aura parcourus Clara quand Léa en aura fait 56 ?

Comprendre	Entourer	Réfléchir	Vérifier	Ecrire	Attention à l'unité

**Résolution de problèmes****Problème n°16**

Sur une piste, Clara et Léa font du roller à la même vitesse. Clara est partie avant Léa.  
 Quand Clara a fait 42 tours, Léa en a fait 21.  
 Combien de tours aura parcourus Clara quand Léa en aura fait 56 ?

Comprendre	Entourer	Réfléchir	Vérifier	Ecrire	Attention à l'unité

**Résolution de problèmes****Problème n°16**

Sur une piste, Clara et Léa font du roller à la même vitesse. Clara est partie avant Léa.  
 Quand Clara a fait 42 tours, Léa en a fait 21.  
 Combien de tours aura parcourus Clara quand Léa en aura fait 56 ?

Comprendre	Entourer	Réfléchir	Vérifier	Ecrire	Attention à l'unité

**Résolution de problèmes****Problème n°16**

Sur une piste, Clara et Léa font du roller à la même vitesse. Clara est partie avant Léa.  
Quand Clara a fait 42 tours, Léa en a fait 21.  
Combien de tours aura parcourus Clara quand Léa en aura fait 56 ?

 35 28 14 30**Résolution de problèmes****Problème n°16**

Sur une piste, Clara et Léa font du roller à la même vitesse. Clara est partie avant Léa.  
Quand Clara a fait 42 tours, Léa en a fait 21.  
Combien de tours aura parcourus Clara quand Léa en aura fait 56 ?

 35 28 14 30**Résolution de problèmes****Problème n°16**

Sur une piste, Clara et Léa font du roller à la même vitesse. Clara est partie avant Léa.  
Quand Clara a fait 42 tours, Léa en a fait 21.  
Combien de tours aura parcourus Clara quand Léa en aura fait 56 ?

 35 28 14 30**Résolution de problèmes****Problème n°16**

Sur une piste, Clara et Léa font du roller à la même vitesse. Clara est partie avant Léa.  
Quand Clara a fait 42 tours, Léa en a fait 21.  
Combien de tours aura parcourus Clara quand Léa en aura fait 56 ?

 35 28 14 30**Résolution de problèmes****Problème n°16**

Sur une piste, Clara et Léa font du roller à la même vitesse. Clara est partie avant Léa.  
Quand Clara a fait 42 tours, Léa en a fait 21.  
Combien de tours aura parcourus Clara quand Léa en aura fait 56 ?

 35 28 14 30**Résolution de problèmes****Problème n°16**

Sur une piste, Clara et Léa font du roller à la même vitesse. Clara est partie avant Léa.  
Quand Clara a fait 42 tours, Léa en a fait 21.  
Combien de tours aura parcourus Clara quand Léa en aura fait 56 ?

 35 28 14 30

**Résolution de problèmes****Problème n°17**

Sur une carte, 1 cm représente 4 km dans la réalité.

Trouver la distance dans la réalité d'un segment de 10 cm sur le plan.

Comprendre	Entourer	Réfléchir	Vérifier	Ecrire	Attention à l'unité

**Résolution de problèmes****Problème n°17**

Sur une carte, 1 cm représente 4 km dans la réalité.

Trouver la distance dans la réalité d'un segment de 10 cm sur le plan.

Comprendre	Entourer	Réfléchir	Vérifier	Ecrire	Attention à l'unité

**Résolution de problèmes****Problème n°17**

Sur une carte, 1 cm représente 4 km dans la réalité.

Trouver la distance dans la réalité d'un segment de 10 cm sur le plan.

Comprendre	Entourer	Réfléchir	Vérifier	Ecrire	Attention à l'unité

**Résolution de problèmes****Problème n°17**

Sur une carte, 1 cm représente 4 km dans la réalité.

Trouver la distance dans la réalité d'un segment de 10 cm sur le plan.

Comprendre	Entourer	Réfléchir	Vérifier	Ecrire	Attention à l'unité

**Résolution de problèmes****Problème n°17**

Sur une carte, 1 cm représente 4 km dans la réalité.

Trouver la distance dans la réalité d'un segment de 10 cm sur le plan.

Comprendre	Entourer	Réfléchir	Vérifier	Ecrire	Attention à l'unité

**Résolution de problèmes****Problème n°17**

Sur une carte, 1 cm représente 4 km dans la réalité.

Trouver la distance dans la réalité d'un segment de 10 cm sur le plan.

Comprendre	Entourer	Réfléchir	Vérifier	Ecrire	Attention à l'unité

**Résolution de problèmes****Problème n°17**

Sur une carte, 1 cm représente 4 km dans la réalité.  
Trouver la distance dans la réalité d'un segment de 10 cm sur le plan.

- 0,4 km     4 km     40 km     400 km

**Résolution de problèmes****Problème n°17**

Sur une carte, 1 cm représente 4 km dans la réalité.  
Trouver la distance dans la réalité d'un segment de 10 cm sur le plan.

- 0,4 km     4 km     40 km     400 km

**Résolution de problèmes****Problème n°17**

Sur une carte, 1 cm représente 4 km dans la réalité.  
Trouver la distance dans la réalité d'un segment de 10 cm sur le plan.

- 0,4 km     4 km     40 km     400 km

**Résolution de problèmes****Problème n°17**

Sur une carte, 1 cm représente 4 km dans la réalité.  
Trouver la distance dans la réalité d'un segment de 10 cm sur le plan.

- 0,4 km     4 km     40 km     400 km

**Résolution de problèmes****Problème n°17**

Sur une carte, 1 cm représente 4 km dans la réalité.  
Trouver la distance dans la réalité d'un segment de 10 cm sur le plan.

- 0,4 km     4 km     40 km     400 km

**Résolution de problèmes****Problème n°17**

Sur une carte, 1 cm représente 4 km dans la réalité.  
Trouver la distance dans la réalité d'un segment de 10 cm sur le plan.

- 0,4 km     4 km     40 km     400 km

**Résolution de problèmes****Problème n°17**

Sur une carte, 1 cm représente 4 km dans la réalité.  
Trouver la distance dans la réalité d'un segment de 10 cm sur le plan.

- 0,4 km     4 km     40 km     400 km

**Résolution de problèmes****Problème n°18**

Sur une carte, 1 cm représente 5 km dans la réalité.

Trouver la distance réelle correspondant à un segment de 8 cm sur la carte.

Comprendre	Entourer	Réfléchir	Vérifier	Ecrire	Attention à l'unité

**Résolution de problèmes****Problème n°18**

Sur une carte, 1 cm représente 5 km dans la réalité.

Trouver la distance réelle correspondant à un segment de 8 cm sur la carte.

Comprendre	Entourer	Réfléchir	Vérifier	Ecrire	Attention à l'unité

**Résolution de problèmes****Problème n°18**

Sur une carte, 1 cm représente 5 km dans la réalité.

Trouver la distance réelle correspondant à un segment de 8 cm sur la carte.

Comprendre	Entourer	Réfléchir	Vérifier	Ecrire	Attention à l'unité

**Résolution de problèmes****Problème n°18**

Sur une carte, 1 cm représente 5 km dans la réalité.

Trouver la distance réelle correspondant à un segment de 8 cm sur la carte.

Comprendre	Entourer	Réfléchir	Vérifier	Ecrire	Attention à l'unité

**Résolution de problèmes****Problème n°18**

Sur une carte, 1 cm représente 5 km dans la réalité.

Trouver la distance réelle correspondant à un segment de 8 cm sur la carte.

Comprendre	Entourer	Réfléchir	Vérifier	Ecrire	Attention à l'unité

**Résolution de problèmes****Problème n°18**

Sur une carte, 1 cm représente 5 km dans la réalité.

Trouver la distance réelle correspondant à un segment de 8 cm sur la carte.

Comprendre	Entourer	Réfléchir	Vérifier	Ecrire	Attention à l'unité

**Résolution de problèmes****Problème n°18**

Sur une carte, 1 cm représente 5 km dans la réalité.  
Trouver la distance réelle correspondant à un segment de 8 cm sur la carte.

 35 km 40 km 45 km 25 km**Résolution de problèmes****Problème n°18**

Sur une carte, 1 cm représente 5 km dans la réalité.  
Trouver la distance réelle correspondant à un segment de 8 cm sur la carte.

 35 km 40 km 45 km 25 km**Résolution de problèmes****Problème n°18**

Sur une carte, 1 cm représente 5 km dans la réalité.  
Trouver la distance réelle correspondant à un segment de 8 cm sur la carte.

 35 km 40 km 45 km 25 km**Résolution de problèmes****Problème n°18**

Sur une carte, 1 cm représente 5 km dans la réalité.  
Trouver la distance réelle correspondant à un segment de 8 cm sur la carte.

 35 km 40 km 45 km 25 km**Résolution de problèmes****Problème n°18**

Sur une carte, 1 cm représente 5 km dans la réalité.  
Trouver la distance réelle correspondant à un segment de 8 cm sur la carte.

 35 km 40 km 45 km 25 km**Résolution de problèmes****Problème n°18**

Sur une carte, 1 cm représente 5 km dans la réalité.  
Trouver la distance réelle correspondant à un segment de 8 cm sur la carte.

 35 km 40 km 45 km 25 km**Résolution de problèmes****Problème n°18**

Sur une carte, 1 cm représente 5 km dans la réalité.  
Trouver la distance réelle correspondant à un segment de 8 cm sur la carte.

 35 km 40 km 45 km 25 km

**Résolution de problèmes****Problème n°19**

Sur un plan, 1 cm représente 3 km.

Quelle est la distance réelle pour un segment de 12 cm ?

Comprendre	Entourer	Réfléchir	Vérifier	Ecrire	Attention à l'unité

**Résolution de problèmes****Problème n°19**

Sur un plan, 1 cm représente 3 km.

Quelle est la distance réelle pour un segment de 12 cm ?

Comprendre	Entourer	Réfléchir	Vérifier	Ecrire	Attention à l'unité

**Résolution de problèmes****Problème n°19**

Sur un plan, 1 cm représente 3 km.

Quelle est la distance réelle pour un segment de 12 cm ?

Comprendre	Entourer	Réfléchir	Vérifier	Ecrire	Attention à l'unité

**Résolution de problèmes****Problème n°19**

Sur un plan, 1 cm représente 3 km.

Quelle est la distance réelle pour un segment de 12 cm ?

Comprendre	Entourer	Réfléchir	Vérifier	Ecrire	Attention à l'unité

**Résolution de problèmes****Problème n°19**

Sur un plan, 1 cm représente 3 km.

Quelle est la distance réelle pour un segment de 12 cm ?

Comprendre	Entourer	Réfléchir	Vérifier	Ecrire	Attention à l'unité

**Résolution de problèmes****Problème n°19**

Sur un plan, 1 cm représente 3 km.

Quelle est la distance réelle pour un segment de 12 cm ?

Comprendre	Entourer	Réfléchir	Vérifier	Ecrire	Attention à l'unité

**Résolution de problèmes****Problème n°19**

Sur un plan, 1 cm représente 3 km.  
Quelle est la distance réelle pour un segment de 12 cm ?

 15 km 39 km 36 km 25 km**Résolution de problèmes****Problème n°19**

Sur un plan, 1 cm représente 3 km.  
Quelle est la distance réelle pour un segment de 12 cm ?

 15 km 39 km 36 km 25 km**Résolution de problèmes****Problème n°19**

Sur un plan, 1 cm représente 3 km.  
Quelle est la distance réelle pour un segment de 12 cm ?

 15 km 39 km 36 km 25 km**Résolution de problèmes****Problème n°19**

Sur un plan, 1 cm représente 3 km.  
Quelle est la distance réelle pour un segment de 12 cm ?

 15 km 39 km 36 km 25 km**Résolution de problèmes****Problème n°19**

Sur un plan, 1 cm représente 3 km.  
Quelle est la distance réelle pour un segment de 12 cm ?

 15 km 39 km 36 km 25 km**Résolution de problèmes****Problème n°19**

Sur un plan, 1 cm représente 3 km.  
Quelle est la distance réelle pour un segment de 12 cm ?

 15 km 39 km 36 km 25 km**Résolution de problèmes****Problème n°19**

Sur un plan, 1 cm représente 3 km.  
Quelle est la distance réelle pour un segment de 12 cm ?

 15 km 39 km 36 km 25 km

**Résolution de problèmes****Problème n°20**

Sur un plan, 1 cm représente 0,5 km.  
Quelle distance réelle correspond à 20 cm sur la carte ?

Comprendre	Entourer	Réfléchir	Vérifier	Ecrire	Attention à l'unité

**Résolution de problèmes****Problème n°20**

Sur un plan, 1 cm représente 0,5 km.  
Quelle distance réelle correspond à 20 cm sur la carte ?

Comprendre	Entourer	Réfléchir	Vérifier	Ecrire	Attention à l'unité

**Résolution de problèmes****Problème n°20**

Sur un plan, 1 cm représente 0,5 km.  
Quelle distance réelle correspond à 20 cm sur la carte ?

Comprendre	Entourer	Réfléchir	Vérifier	Ecrire	Attention à l'unité

**Résolution de problèmes****Problème n°20**

Sur un plan, 1 cm représente 0,5 km.  
Quelle distance réelle correspond à 20 cm sur la carte ?

Comprendre	Entourer	Réfléchir	Vérifier	Ecrire	Attention à l'unité

**Résolution de problèmes****Problème n°20**

Sur un plan, 1 cm représente 0,5 km.  
Quelle distance réelle correspond à 20 cm sur la carte ?

Comprendre	Entourer	Réfléchir	Vérifier	Ecrire	Attention à l'unité

**Résolution de problèmes****Problème n°20**

Sur un plan, 1 cm représente 0,5 km.  
Quelle distance réelle correspond à 20 cm sur la carte ?

Comprendre	Entourer	Réfléchir	Vérifier	Ecrire	Attention à l'unité

**Résolution de problèmes****Problème n°20**

Sur un plan, 1 cm représente 0,5 km.  
Quelle distance réelle correspond à 20 cm sur la carte ?

- 1000 km    10 km    100 km    1 km

**Résolution de problèmes****Problème n°20**

Sur un plan, 1 cm représente 0,5 km.  
Quelle distance réelle correspond à 20 cm sur la carte ?

- 1000 km    10 km    100 km    1 km

**Résolution de problèmes****Problème n°20**

Sur un plan, 1 cm représente 0,5 km.  
Quelle distance réelle correspond à 20 cm sur la carte ?

- 1000 km    10 km    100 km    1 km

**Résolution de problèmes****Problème n°20**

Sur un plan, 1 cm représente 0,5 km.  
Quelle distance réelle correspond à 20 cm sur la carte ?

- 1000 km    10 km    100 km    1 km

**Résolution de problèmes****Problème n°20**

Sur un plan, 1 cm représente 0,5 km.  
Quelle distance réelle correspond à 20 cm sur la carte ?

- 1000 km    10 km    100 km    1 km

**Résolution de problèmes****Problème n°20**

Sur un plan, 1 cm représente 0,5 km.  
Quelle distance réelle correspond à 20 cm sur la carte ?

- 1000 km    10 km    100 km    1 km

**Résolution de problèmes****Problème n°20**

Sur un plan, 1 cm représente 0,5 km.  
Quelle distance réelle correspond à 20 cm sur la carte ?

- 1000 km    10 km    100 km    1 km

**Résolution de problèmes****Problème n°21**

Sur une carte, 1 cm représente 7 km.

Trouver la distance réelle correspondant à un segment de 9 cm.

Comprendre	Entourer	Réfléchir	Vérifier	Ecrire	Attention à l'unité

**Résolution de problèmes****Problème n°21**

Sur une carte, 1 cm représente 7 km.

Trouver la distance réelle correspondant à un segment de 9 cm.

Comprendre	Entourer	Réfléchir	Vérifier	Ecrire	Attention à l'unité

**Résolution de problèmes****Problème n°21**

Sur une carte, 1 cm représente 7 km.

Trouver la distance réelle correspondant à un segment de 9 cm.

Comprendre	Entourer	Réfléchir	Vérifier	Ecrire	Attention à l'unité

**Résolution de problèmes****Problème n°21**

Sur une carte, 1 cm représente 7 km.

Trouver la distance réelle correspondant à un segment de 9 cm.

Comprendre	Entourer	Réfléchir	Vérifier	Ecrire	Attention à l'unité

**Résolution de problèmes****Problème n°21**

Sur une carte, 1 cm représente 7 km.

Trouver la distance réelle correspondant à un segment de 9 cm.

Comprendre	Entourer	Réfléchir	Vérifier	Ecrire	Attention à l'unité

**Résolution de problèmes****Problème n°21**

Sur une carte, 1 cm représente 7 km.

Trouver la distance réelle correspondant à un segment de 9 cm.

Comprendre	Entourer	Réfléchir	Vérifier	Ecrire	Attention à l'unité

**Résolution de problèmes****Problème n°21**

Sur une carte, 1 cm représente 7 km.

Trouver la distance réelle correspondant à un segment de 9 cm.

 70 km 65 km 60 km 63 km**Résolution de problèmes****Problème n°21**

Sur une carte, 1 cm représente 7 km.

Trouver la distance réelle correspondant à un segment de 9 cm.

 70 km 65 km 60 km 63 km**Résolution de problèmes****Problème n°21**

Sur une carte, 1 cm représente 7 km.

Trouver la distance réelle correspondant à un segment de 9 cm.

 70 km 65 km 60 km 63 km**Résolution de problèmes****Problème n°21**

Sur une carte, 1 cm représente 7 km.

Trouver la distance réelle correspondant à un segment de 9 cm.

 70 km 65 km 60 km 63 km**Résolution de problèmes****Problème n°21**

Sur une carte, 1 cm représente 7 km.

Trouver la distance réelle correspondant à un segment de 9 cm.

 70 km 65 km 60 km 63 km**Résolution de problèmes****Problème n°21**

Sur une carte, 1 cm représente 7 km.

Trouver la distance réelle correspondant à un segment de 9 cm.

 70 km 65 km 60 km 63 km**Résolution de problèmes****Problème n°21**

Sur une carte, 1 cm représente 7 km.

Trouver la distance réelle correspondant à un segment de 9 cm.

 70 km 65 km 60 km 63 km

**Résolution de problèmes****Problème n°22**

Une voiture roule à vitesse constante. Elle parcourt 80 km en une heure.  
Quelle distance parcourt-elle en un quart d'heure ?

Comprendre	Entourer	Réfléchir	Vérifier	Ecrire	Attention à l'unité

**Résolution de problèmes****Problème n°22**

Une voiture roule à vitesse constante. Elle parcourt 80 km en une heure.  
Quelle distance parcourt-elle en un quart d'heure ?

Comprendre	Entourer	Réfléchir	Vérifier	Ecrire	Attention à l'unité

**Résolution de problèmes****Problème n°22**

Une voiture roule à vitesse constante. Elle parcourt 80 km en une heure.  
Quelle distance parcourt-elle en un quart d'heure ?

Comprendre	Entourer	Réfléchir	Vérifier	Ecrire	Attention à l'unité

**Résolution de problèmes****Problème n°22**

Une voiture roule à vitesse constante. Elle parcourt 80 km en une heure.  
Quelle distance parcourt-elle en un quart d'heure ?

Comprendre	Entourer	Réfléchir	Vérifier	Ecrire	Attention à l'unité

**Résolution de problèmes****Problème n°22**

Une voiture roule à vitesse constante. Elle parcourt 80 km en une heure.  
Quelle distance parcourt-elle en un quart d'heure ?

Comprendre	Entourer	Réfléchir	Vérifier	Ecrire	Attention à l'unité

**Résolution de problèmes****Problème n°22**

Une voiture roule à vitesse constante. Elle parcourt 80 km en une heure.  
Quelle distance parcourt-elle en un quart d'heure ?

Comprendre	Entourer	Réfléchir	Vérifier	Ecrire	Attention à l'unité

**Résolution de problèmes****Problème n°22**

Une voiture roule à vitesse constante. Elle parcourt 80 km en une heure.  
Quelle distance parcourt-elle en un quart d'heure ?

20 km     40 km     60 km     80 km

**Résolution de problèmes****Problème n°22**

Une voiture roule à vitesse constante. Elle parcourt 80 km en une heure.  
Quelle distance parcourt-elle en un quart d'heure ?

20 km     40 km     60 km     80 km

**Résolution de problèmes****Problème n°22**

Une voiture roule à vitesse constante. Elle parcourt 80 km en une heure.  
Quelle distance parcourt-elle en un quart d'heure ?

20 km     40 km     60 km     80 km

**Résolution de problèmes****Problème n°22**

Une voiture roule à vitesse constante. Elle parcourt 80 km en une heure.  
Quelle distance parcourt-elle en un quart d'heure ?

20 km     40 km     60 km     80 km

**Résolution de problèmes****Problème n°22**

Une voiture roule à vitesse constante. Elle parcourt 80 km en une heure.  
Quelle distance parcourt-elle en un quart d'heure ?

20 km     40 km     60 km     80 km

**Résolution de problèmes****Problème n°22**

Une voiture roule à vitesse constante. Elle parcourt 80 km en une heure.  
Quelle distance parcourt-elle en un quart d'heure ?

20 km     40 km     60 km     80 km

**Résolution de problèmes****Problème n°22**

Une voiture roule à vitesse constante. Elle parcourt 80 km en une heure.  
Quelle distance parcourt-elle en un quart d'heure ?

20 km     40 km     60 km     80 km

**Résolution de problèmes****Problème n°22**

Une voiture roule à vitesse constante. Elle parcourt 80 km en une heure.  
Quelle distance parcourt-elle en un quart d'heure ?

20 km     40 km     60 km     80 km

**Résolution de problèmes****Problème n°23**

Un train roule à vitesse constante. Il parcourt 120 km en 2 heures.  
Quelle distance parcourt-il en une demi-heure ?

Comprendre	Entourer	Réfléchir	Vérifier	Ecrire	Attention à l'unité

**Résolution de problèmes****Problème n°23**

Un train roule à vitesse constante. Il parcourt 120 km en 2 heures.  
Quelle distance parcourt-il en une demi-heure ?

Comprendre	Entourer	Réfléchir	Vérifier	Ecrire	Attention à l'unité

**Résolution de problèmes****Problème n°23**

Un train roule à vitesse constante. Il parcourt 120 km en 2 heures.  
Quelle distance parcourt-il en une demi-heure ?

Comprendre	Entourer	Réfléchir	Vérifier	Ecrire	Attention à l'unité

**Résolution de problèmes****Problème n°23**

Un train roule à vitesse constante. Il parcourt 120 km en 2 heures.  
Quelle distance parcourt-il en une demi-heure ?

Comprendre	Entourer	Réfléchir	Vérifier	Ecrire	Attention à l'unité

**Résolution de problèmes****Problème n°23**

Un train roule à vitesse constante. Il parcourt 120 km en 2 heures.  
Quelle distance parcourt-il en une demi-heure ?

Comprendre	Entourer	Réfléchir	Vérifier	Ecrire	Attention à l'unité

**Résolution de problèmes****Problème n°23**

Un train roule à vitesse constante. Il parcourt 120 km en 2 heures.  
Quelle distance parcourt-il en une demi-heure ?

Comprendre	Entourer	Réfléchir	Vérifier	Ecrire	Attention à l'unité

**Résolution de problèmes****Problème n°23**

Un train roule à vitesse constante. Il parcourt 120 km en 2 heures.  
Quelle distance parcourt-il en une demi-heure ?

 30 km 60 km 50 km 40 km**Résolution de problèmes****Problème n°23**

Un train roule à vitesse constante. Il parcourt 120 km en 2 heures.  
Quelle distance parcourt-il en une demi-heure ?

 30 km 60 km 50 km 40 km**Résolution de problèmes****Problème n°23**

Un train roule à vitesse constante. Il parcourt 120 km en 2 heures.  
Quelle distance parcourt-il en une demi-heure ?

 30 km 60 km 50 km 40 km**Résolution de problèmes****Problème n°23**

Un train roule à vitesse constante. Il parcourt 120 km en 2 heures.  
Quelle distance parcourt-il en une demi-heure ?

 30 km 60 km 50 km 40 km**Résolution de problèmes****Problème n°23**

Un train roule à vitesse constante. Il parcourt 120 km en 2 heures.  
Quelle distance parcourt-il en une demi-heure ?

 30 km 60 km 50 km 40 km**Résolution de problèmes****Problème n°23**

Un train roule à vitesse constante. Il parcourt 120 km en 2 heures.  
Quelle distance parcourt-il en une demi-heure ?

 30 km 60 km 50 km 40 km**Résolution de problèmes****Problème n°23**

Un train roule à vitesse constante. Il parcourt 120 km en 2 heures.  
Quelle distance parcourt-il en une demi-heure ?

 30 km 60 km 50 km 40 km

**Résolution de problèmes****Problème n°24**

Un bateau avance à vitesse constante. Il parcourt 90 km en 3 heures.  
 Quelle distance parcourt-il en 1 heure et demie ?

Comprendre	Entourer	Réfléchir	Vérifier	Ecrire	Attention à l'unité

**Résolution de problèmes****Problème n°24**

Un bateau avance à vitesse constante. Il parcourt 90 km en 3 heures.  
 Quelle distance parcourt-il en 1 heure et demie ?

Comprendre	Entourer	Réfléchir	Vérifier	Ecrire	Attention à l'unité

**Résolution de problèmes****Problème n°24**

Un bateau avance à vitesse constante. Il parcourt 90 km en 3 heures.  
 Quelle distance parcourt-il en 1 heure et demie ?

Comprendre	Entourer	Réfléchir	Vérifier	Ecrire	Attention à l'unité

**Résolution de problèmes****Problème n°24**

Un bateau avance à vitesse constante. Il parcourt 90 km en 3 heures.  
 Quelle distance parcourt-il en 1 heure et demie ?

Comprendre	Entourer	Réfléchir	Vérifier	Ecrire	Attention à l'unité

**Résolution de problèmes****Problème n°24**

Un bateau avance à vitesse constante. Il parcourt 90 km en 3 heures.  
 Quelle distance parcourt-il en 1 heure et demie ?

Comprendre	Entourer	Réfléchir	Vérifier	Ecrire	Attention à l'unité

**Résolution de problèmes****Problème n°24**

Un bateau avance à vitesse constante. Il parcourt 90 km en 3 heures.  
 Quelle distance parcourt-il en 1 heure et demie ?

Comprendre	Entourer	Réfléchir	Vérifier	Ecrire	Attention à l'unité

**Résolution de problèmes****Problème n°24**

Un bateau avance à vitesse constante. Il parcourt 90 km en 3 heures.  
Quelle distance parcourt-il en 1 heure et demie ?

 40 km 35 km 45 km 30 km**Résolution de problèmes****Problème n°24**

Un bateau avance à vitesse constante. Il parcourt 90 km en 3 heures.  
Quelle distance parcourt-il en 1 heure et demie ?

 40 km 35 km 45 km 30 km**Résolution de problèmes****Problème n°24**

Un bateau avance à vitesse constante. Il parcourt 90 km en 3 heures.  
Quelle distance parcourt-il en 1 heure et demie ?

 40 km 35 km 45 km 30 km**Résolution de problèmes****Problème n°24**

Un bateau avance à vitesse constante. Il parcourt 90 km en 3 heures.  
Quelle distance parcourt-il en 1 heure et demie ?

 40 km 35 km 45 km 30 km**Résolution de problèmes****Problème n°24**

Un bateau avance à vitesse constante. Il parcourt 90 km en 3 heures.  
Quelle distance parcourt-il en 1 heure et demie ?

 40 km 35 km 45 km 30 km**Résolution de problèmes****Problème n°24**

Un bateau avance à vitesse constante. Il parcourt 90 km en 3 heures.  
Quelle distance parcourt-il en 1 heure et demie ?

 40 km 35 km 45 km 30 km

**Résolution de problèmes****Problème n°25**

Un avion vole à vitesse constante. Il parcourt 600 km en 1 heure.  
Quelle distance parcourt-il en trois quarts d'heure ?

Comprendre	Entourer	Réfléchir	Vérifier	Ecrire	Attention à l'unité

**Résolution de problèmes****Problème n°25**

Un avion vole à vitesse constante. Il parcourt 600 km en 1 heure.  
Quelle distance parcourt-il en trois quarts d'heure ?

Comprendre	Entourer	Réfléchir	Vérifier	Ecrire	Attention à l'unité

**Résolution de problèmes****Problème n°25**

Un avion vole à vitesse constante. Il parcourt 600 km en 1 heure.  
Quelle distance parcourt-il en trois quarts d'heure ?

Comprendre	Entourer	Réfléchir	Vérifier	Ecrire	Attention à l'unité

**Résolution de problèmes****Problème n°25**

Un avion vole à vitesse constante. Il parcourt 600 km en 1 heure.  
Quelle distance parcourt-il en trois quarts d'heure ?

Comprendre	Entourer	Réfléchir	Vérifier	Ecrire	Attention à l'unité

**Résolution de problèmes****Problème n°25**

Un avion vole à vitesse constante. Il parcourt 600 km en 1 heure.  
Quelle distance parcourt-il en trois quarts d'heure ?

Comprendre	Entourer	Réfléchir	Vérifier	Ecrire	Attention à l'unité

**Résolution de problèmes****Problème n°25**

Un avion vole à vitesse constante. Il parcourt 600 km en 1 heure.  
Quelle distance parcourt-il en trois quarts d'heure ?

Comprendre	Entourer	Réfléchir	Vérifier	Ecrire	Attention à l'unité

**Résolution de problèmes****Problème n°25**

Un avion vole à vitesse constante. Il parcourt 600 km en 1 heure.  
Quelle distance parcourt-il en trois quarts d'heure ?

- 150 km     450 km     300 km     350 km

**Résolution de problèmes****Problème n°25**

Un avion vole à vitesse constante. Il parcourt 600 km en 1 heure.  
Quelle distance parcourt-il en trois quarts d'heure ?

- 150 km     450 km     300 km     350 km

**Résolution de problèmes****Problème n°25**

Un avion vole à vitesse constante. Il parcourt 600 km en 1 heure.  
Quelle distance parcourt-il en trois quarts d'heure ?

- 150 km     450 km     300 km     350 km

**Résolution de problèmes****Problème n°25**

Un avion vole à vitesse constante. Il parcourt 600 km en 1 heure.  
Quelle distance parcourt-il en trois quarts d'heure ?

- 150 km     450 km     300 km     350 km

**Résolution de problèmes****Problème n°25**

Un avion vole à vitesse constante. Il parcourt 600 km en 1 heure.  
Quelle distance parcourt-il en trois quarts d'heure ?

- 150 km     450 km     300 km     350 km

**Résolution de problèmes****Problème n°25**

Un avion vole à vitesse constante. Il parcourt 600 km en 1 heure.  
Quelle distance parcourt-il en trois quarts d'heure ?

- 150 km     450 km     300 km     350 km

**Résolution de problèmes****Problème n°25**

Un avion vole à vitesse constante. Il parcourt 600 km en 1 heure.  
Quelle distance parcourt-il en trois quarts d'heure ?

- 150 km     450 km     300 km     350 km

**Résolution de problèmes****Problème n°26**

Une trottinette électrique roule à vitesse constante. Elle parcourt 24 km en 2 heures.  
Quelle distance parcourt-elle en 30 minutes ?

Comprendre	Entourer	Réfléchir	Vérifier	Ecrire	Attention à l'unité

**Résolution de problèmes****Problème n°26**

Une trottinette électrique roule à vitesse constante. Elle parcourt 24 km en 2 heures.  
Quelle distance parcourt-elle en 30 minutes ?

Comprendre	Entourer	Réfléchir	Vérifier	Ecrire	Attention à l'unité

**Résolution de problèmes****Problème n°26**

Une trottinette électrique roule à vitesse constante. Elle parcourt 24 km en 2 heures.  
Quelle distance parcourt-elle en 30 minutes ?

Comprendre	Entourer	Réfléchir	Vérifier	Ecrire	Attention à l'unité

**Résolution de problèmes****Problème n°26**

Une trottinette électrique roule à vitesse constante. Elle parcourt 24 km en 2 heures.  
Quelle distance parcourt-elle en 30 minutes ?

Comprendre	Entourer	Réfléchir	Vérifier	Ecrire	Attention à l'unité

**Résolution de problèmes****Problème n°26**

Une trottinette électrique roule à vitesse constante. Elle parcourt 24 km en 2 heures.  
Quelle distance parcourt-elle en 30 minutes ?

Comprendre	Entourer	Réfléchir	Vérifier	Ecrire	Attention à l'unité

**Résolution de problèmes****Problème n°26**

Une trottinette électrique roule à vitesse constante. Elle parcourt 24 km en 2 heures.  
Quelle distance parcourt-elle en 30 minutes ?

Comprendre	Entourer	Réfléchir	Vérifier	Ecrire	Attention à l'unité

**Résolution de problèmes****Problème n°26**

Une trottinette électrique roule à vitesse constante. Elle parcourt 24 km en 2 heures.  
Quelle distance parcourt-elle en 30 minutes ?

 14 km 9 km 12 km 6 km**Résolution de problèmes****Problème n°26**

Une trottinette électrique roule à vitesse constante. Elle parcourt 24 km en 2 heures.  
Quelle distance parcourt-elle en 30 minutes ?

 14 km 9 km 12 km 6 km**Résolution de problèmes****Problème n°26**

Une trottinette électrique roule à vitesse constante. Elle parcourt 24 km en 2 heures.  
Quelle distance parcourt-elle en 30 minutes ?

 14 km 9 km 12 km 6 km**Résolution de problèmes****Problème n°26**

Une trottinette électrique roule à vitesse constante. Elle parcourt 24 km en 2 heures.  
Quelle distance parcourt-elle en 30 minutes ?

 14 km 9 km 12 km 6 km**Résolution de problèmes****Problème n°26**

Une trottinette électrique roule à vitesse constante. Elle parcourt 24 km en 2 heures.  
Quelle distance parcourt-elle en 30 minutes ?

 14 km 9 km 12 km 6 km**Résolution de problèmes****Problème n°26**

Une trottinette électrique roule à vitesse constante. Elle parcourt 24 km en 2 heures.  
Quelle distance parcourt-elle en 30 minutes ?

 14 km 9 km 12 km 6 km

## Numération

### Résolution de problèmes

**Problème n°27**

Je choisis un nombre. Si j'augmente ce nombre de 5, j'obtiens la moitié de 1 000.  
Quel nombre ai-je choisi au départ ?

Comprendre	Entourer	Réfléchir	Vérifier	Ecrire	Attention à l'unité

### Résolution de problèmes

**Problème n°27**

Je choisis un nombre. Si j'augmente ce nombre de 5, j'obtiens la moitié de 1 000.  
Quel nombre ai-je choisi au départ ?

Comprendre	Entourer	Réfléchir	Vérifier	Ecrire	Attention à l'unité

### Résolution de problèmes

**Problème n°27**

Je choisis un nombre. Si j'augmente ce nombre de 5, j'obtiens la moitié de 1 000.  
Quel nombre ai-je choisi au départ ?

Comprendre	Entourer	Réfléchir	Vérifier	Ecrire	Attention à l'unité

### Résolution de problèmes

**Problème n°27**

Je choisis un nombre. Si j'augmente ce nombre de 5, j'obtiens la moitié de 1 000.  
Quel nombre ai-je choisi au départ ?

Comprendre	Entourer	Réfléchir	Vérifier	Ecrire	Attention à l'unité

### Résolution de problèmes

**Problème n°27**

Je choisis un nombre. Si j'augmente ce nombre de 5, j'obtiens la moitié de 1 000.  
Quel nombre ai-je choisi au départ ?

Comprendre	Entourer	Réfléchir	Vérifier	Ecrire	Attention à l'unité

### Résolution de problèmes

**Problème n°27**

Je choisis un nombre. Si j'augmente ce nombre de 5, j'obtiens la moitié de 1 000.  
Quel nombre ai-je choisi au départ ?

Comprendre	Entourer	Réfléchir	Vérifier	Ecrire	Attention à l'unité

**Résolution de problèmes****Problème n°27**

Je choisis un nombre. Si j'augmente ce nombre de 5, j'obtiens la moitié de 1 000.  
Quel nombre ai-je choisi au départ ?

 505 495 1 005 995**Résolution de problèmes****Problème n°27**

Je choisis un nombre. Si j'augmente ce nombre de 5, j'obtiens la moitié de 1 000.  
Quel nombre ai-je choisi au départ ?

 505 495 1 005 995**Résolution de problèmes****Problème n°27**

Je choisis un nombre. Si j'augmente ce nombre de 5, j'obtiens la moitié de 1 000.  
Quel nombre ai-je choisi au départ ?

 505 495 1 005 995**Résolution de problèmes****Problème n°27**

Je choisis un nombre. Si j'augmente ce nombre de 5, j'obtiens la moitié de 1 000.  
Quel nombre ai-je choisi au départ ?

 505 495 1 005 995**Résolution de problèmes****Problème n°27**

Je choisis un nombre. Si j'augmente ce nombre de 5, j'obtiens la moitié de 1 000.  
Quel nombre ai-je choisi au départ ?

 505 495 1 005 995**Résolution de problèmes****Problème n°27**

Je choisis un nombre. Si j'augmente ce nombre de 5, j'obtiens la moitié de 1 000.  
Quel nombre ai-je choisi au départ ?

 505 495 1 005 995**Résolution de problèmes****Problème n°27**

Je choisis un nombre. Si j'augmente ce nombre de 5, j'obtiens la moitié de 1 000.  
Quel nombre ai-je choisi au départ ?

 505 495 1 005 995

**Résolution de problèmes****Problème n°28**

Je choisis un nombre. Si je lui ajoute 12, j'obtiens 100.  
Quel nombre ai-je choisi au départ ?

Comprendre	Entourer	Réfléchir	Vérifier	Ecrire	Attention à l'unité

**Résolution de problèmes****Problème n°28**

Je choisis un nombre. Si je lui ajoute 12, j'obtiens 100.  
Quel nombre ai-je choisi au départ ?

Comprendre	Entourer	Réfléchir	Vérifier	Ecrire	Attention à l'unité

**Résolution de problèmes****Problème n°28**

Je choisis un nombre. Si je lui ajoute 12, j'obtiens 100.  
Quel nombre ai-je choisi au départ ?

Comprendre	Entourer	Réfléchir	Vérifier	Ecrire	Attention à l'unité

**Résolution de problèmes****Problème n°28**

Je choisis un nombre. Si je lui ajoute 12, j'obtiens 100.  
Quel nombre ai-je choisi au départ ?

Comprendre	Entourer	Réfléchir	Vérifier	Ecrire	Attention à l'unité

**Résolution de problèmes****Problème n°28**

Je choisis un nombre. Si je lui ajoute 12, j'obtiens 100.  
Quel nombre ai-je choisi au départ ?

Comprendre	Entourer	Réfléchir	Vérifier	Ecrire	Attention à l'unité

**Résolution de problèmes****Problème n°28**

Je choisis un nombre. Si je lui ajoute 12, j'obtiens 100.  
Quel nombre ai-je choisi au départ ?

Comprendre	Entourer	Réfléchir	Vérifier	Ecrire	Attention à l'unité

**Résolution de problèmes****Problème n°28**

Je choisis un nombre. Si je lui ajoute 12, j'obtiens 100.  
Quel nombre ai-je choisi au départ ?

 88 112 72 78**Résolution de problèmes****Problème n°28**

Je choisis un nombre. Si je lui ajoute 12, j'obtiens 100.  
Quel nombre ai-je choisi au départ ?

 88 112 72 78**Résolution de problèmes****Problème n°28**

Je choisis un nombre. Si je lui ajoute 12, j'obtiens 100.  
Quel nombre ai-je choisi au départ ?

 88 112 72 78**Résolution de problèmes****Problème n°28**

Je choisis un nombre. Si je lui ajoute 12, j'obtiens 100.  
Quel nombre ai-je choisi au départ ?

 88 112 72 78**Résolution de problèmes****Problème n°28**

Je choisis un nombre. Si je lui ajoute 12, j'obtiens 100.  
Quel nombre ai-je choisi au départ ?

 88 112 72 78**Résolution de problèmes****Problème n°28**

Je choisis un nombre. Si je lui ajoute 12, j'obtiens 100.  
Quel nombre ai-je choisi au départ ?

 88 112 72 78**Résolution de problèmes****Problème n°28**

Je choisis un nombre. Si je lui ajoute 12, j'obtiens 100.  
Quel nombre ai-je choisi au départ ?

 88 112 72 78

**Résolution de problèmes****Problème n°29**

Je choisis un nombre. Si j'ajoute 25 à ce nombre, j'obtiens le double de 80.  
Quel nombre ai-je choisi au départ ?

Comprendre	Entourer	Réfléchir	Vérifier	Ecrire	Attention à l'unité

**Résolution de problèmes****Problème n°29**

Je choisis un nombre. Si j'ajoute 25 à ce nombre, j'obtiens le double de 80.  
Quel nombre ai-je choisi au départ ?

Comprendre	Entourer	Réfléchir	Vérifier	Ecrire	Attention à l'unité

**Résolution de problèmes****Problème n°29**

Je choisis un nombre. Si j'ajoute 25 à ce nombre, j'obtiens le double de 80.  
Quel nombre ai-je choisi au départ ?

Comprendre	Entourer	Réfléchir	Vérifier	Ecrire	Attention à l'unité

**Résolution de problèmes****Problème n°29**

Je choisis un nombre. Si j'ajoute 25 à ce nombre, j'obtiens le double de 80.  
Quel nombre ai-je choisi au départ ?

Comprendre	Entourer	Réfléchir	Vérifier	Ecrire	Attention à l'unité

**Résolution de problèmes****Problème n°29**

Je choisis un nombre. Si j'ajoute 25 à ce nombre, j'obtiens le double de 80.  
Quel nombre ai-je choisi au départ ?

Comprendre	Entourer	Réfléchir	Vérifier	Ecrire	Attention à l'unité

**Résolution de problèmes****Problème n°29**

Je choisis un nombre. Si j'ajoute 25 à ce nombre, j'obtiens le double de 80.  
Quel nombre ai-je choisi au départ ?

Comprendre	Entourer	Réfléchir	Vérifier	Ecrire	Attention à l'unité

**Résolution de problèmes****Problème n°29**

Je choisis un nombre. Si j'ajoute 25 à ce nombre, j'obtiens le double de 80.  
Quel nombre ai-je choisi au départ ?

 115 55 135 105**Résolution de problèmes****Problème n°29**

Je choisis un nombre. Si j'ajoute 25 à ce nombre, j'obtiens le double de 80.  
Quel nombre ai-je choisi au départ ?

 115 55 135 105**Résolution de problèmes****Problème n°29**

Je choisis un nombre. Si j'ajoute 25 à ce nombre, j'obtiens le double de 80.  
Quel nombre ai-je choisi au départ ?

 115 55 135 105**Résolution de problèmes****Problème n°29**

Je choisis un nombre. Si j'ajoute 25 à ce nombre, j'obtiens le double de 80.  
Quel nombre ai-je choisi au départ ?

 115 55 135 105**Résolution de problèmes****Problème n°29**

Je choisis un nombre. Si j'ajoute 25 à ce nombre, j'obtiens le double de 80.  
Quel nombre ai-je choisi au départ ?

 115 55 135 105**Résolution de problèmes****Problème n°29**

Je choisis un nombre. Si j'ajoute 25 à ce nombre, j'obtiens le double de 80.  
Quel nombre ai-je choisi au départ ?

 115 55 135 105**Résolution de problèmes****Problème n°29**

Je choisis un nombre. Si j'ajoute 25 à ce nombre, j'obtiens le double de 80.  
Quel nombre ai-je choisi au départ ?

 115 55 135 105

**Résolution de problèmes****Problème n°30**

Je choisis un nombre. Si je retire 15 à ce nombre, j'obtiens la moitié de 90.  
Quel nombre ai-je choisi au départ ?

Comprendre	Entourer	Réfléchir	Vérifier	Ecrire	Attention à l'unité

**Résolution de problèmes****Problème n°30**

Je choisis un nombre. Si je retire 15 à ce nombre, j'obtiens la moitié de 90.  
Quel nombre ai-je choisi au départ ?

Comprendre	Entourer	Réfléchir	Vérifier	Ecrire	Attention à l'unité

**Résolution de problèmes****Problème n°30**

Je choisis un nombre. Si je retire 15 à ce nombre, j'obtiens la moitié de 90.  
Quel nombre ai-je choisi au départ ?

Comprendre	Entourer	Réfléchir	Vérifier	Ecrire	Attention à l'unité

**Résolution de problèmes****Problème n°30**

Je choisis un nombre. Si je retire 15 à ce nombre, j'obtiens la moitié de 90.  
Quel nombre ai-je choisi au départ ?

Comprendre	Entourer	Réfléchir	Vérifier	Ecrire	Attention à l'unité

**Résolution de problèmes****Problème n°30**

Je choisis un nombre. Si je retire 15 à ce nombre, j'obtiens la moitié de 90.  
Quel nombre ai-je choisi au départ ?

Comprendre	Entourer	Réfléchir	Vérifier	Ecrire	Attention à l'unité

**Résolution de problèmes****Problème n°30**

Je choisis un nombre. Si je retire 15 à ce nombre, j'obtiens la moitié de 90.  
Quel nombre ai-je choisi au départ ?

Comprendre	Entourer	Réfléchir	Vérifier	Ecrire	Attention à l'unité

**Résolution de problèmes****Problème n°30**

Je choisis un nombre. Si je retire 15 à ce nombre, j'obtiens la moitié de 90.  
Quel nombre ai-je choisi au départ ?

 75 60 30 50**Résolution de problèmes****Problème n°30**

Je choisis un nombre. Si je retire 15 à ce nombre, j'obtiens la moitié de 90.  
Quel nombre ai-je choisi au départ ?

 75 60 30 50**Résolution de problèmes****Problème n°30**

Je choisis un nombre. Si je retire 15 à ce nombre, j'obtiens la moitié de 90.  
Quel nombre ai-je choisi au départ ?

 75 60 30 50**Résolution de problèmes****Problème n°30**

Je choisis un nombre. Si je retire 15 à ce nombre, j'obtiens la moitié de 90.  
Quel nombre ai-je choisi au départ ?

 75 60 30 50**Résolution de problèmes****Problème n°30**

Je choisis un nombre. Si je retire 15 à ce nombre, j'obtiens la moitié de 90.  
Quel nombre ai-je choisi au départ ?

 75 60 30 50**Résolution de problèmes****Problème n°30**

Je choisis un nombre. Si je retire 15 à ce nombre, j'obtiens la moitié de 90.  
Quel nombre ai-je choisi au départ ?

 75 60 30 50**Résolution de problèmes****Problème n°30**

Je choisis un nombre. Si je retire 15 à ce nombre, j'obtiens la moitié de 90.  
Quel nombre ai-je choisi au départ ?

 75 60 30 50

**Résolution de problèmes****Problème n°31**

Je choisis un nombre. Si j'augmente ce nombre de 45, j'obtiens la moitié de 900.  
Quel nombre ai-je choisi au départ ?

Comprendre	Entourer	Réfléchir	Vérifier	Ecrire	Attention à l'unité

**Résolution de problèmes****Problème n°31**

Je choisis un nombre. Si j'augmente ce nombre de 45, j'obtiens la moitié de 900.  
Quel nombre ai-je choisi au départ ?

Comprendre	Entourer	Réfléchir	Vérifier	Ecrire	Attention à l'unité

**Résolution de problèmes****Problème n°31**

Je choisis un nombre. Si j'augmente ce nombre de 45, j'obtiens la moitié de 900.  
Quel nombre ai-je choisi au départ ?

Comprendre	Entourer	Réfléchir	Vérifier	Ecrire	Attention à l'unité

**Résolution de problèmes****Problème n°31**

Je choisis un nombre. Si j'augmente ce nombre de 45, j'obtiens la moitié de 900.  
Quel nombre ai-je choisi au départ ?

Comprendre	Entourer	Réfléchir	Vérifier	Ecrire	Attention à l'unité

**Résolution de problèmes****Problème n°31**

Je choisis un nombre. Si j'augmente ce nombre de 45, j'obtiens la moitié de 900.  
Quel nombre ai-je choisi au départ ?

Comprendre	Entourer	Réfléchir	Vérifier	Ecrire	Attention à l'unité

**Résolution de problèmes****Problème n°31**

Je choisis un nombre. Si j'augmente ce nombre de 45, j'obtiens la moitié de 900.  
Quel nombre ai-je choisi au départ ?

Comprendre	Entourer	Réfléchir	Vérifier	Ecrire	Attention à l'unité

**Résolution de problèmes****Problème n°31**

Je choisis un nombre. Si j'augmente ce nombre de 45, j'obtiens la moitié de 900.  
Quel nombre ai-je choisi au départ ?

 450 945 855 405**Résolution de problèmes****Problème n°31**

Je choisis un nombre. Si j'augmente ce nombre de 45, j'obtiens la moitié de 900.  
Quel nombre ai-je choisi au départ ?

 450 945 855 405**Résolution de problèmes****Problème n°31**

Je choisis un nombre. Si j'augmente ce nombre de 45, j'obtiens la moitié de 900.  
Quel nombre ai-je choisi au départ ?

 450 945 855 405**Résolution de problèmes****Problème n°31**

Je choisis un nombre. Si j'augmente ce nombre de 45, j'obtiens la moitié de 900.  
Quel nombre ai-je choisi au départ ?

 450 945 855 405**Résolution de problèmes****Problème n°31**

Je choisis un nombre. Si j'augmente ce nombre de 45, j'obtiens la moitié de 900.  
Quel nombre ai-je choisi au départ ?

 450 945 855 405**Résolution de problèmes****Problème n°31**

Je choisis un nombre. Si j'augmente ce nombre de 45, j'obtiens la moitié de 900.  
Quel nombre ai-je choisi au départ ?

 450 945 855 405**Résolution de problèmes****Problème n°31**

Je choisis un nombre. Si j'augmente ce nombre de 45, j'obtiens la moitié de 900.  
Quel nombre ai-je choisi au départ ?

 450 945 855 405

**Résolution de problèmes****Problème n°32**

Je choisis un nombre. Si je diminue ce nombre de 10, j'obtiens le double de 420.  
Quel nombre ai-je choisi au départ ?

Comprendre	Entourer	Réfléchir	Vérifier	Ecrire	Attention à l'unité

**Résolution de problèmes****Problème n°32**

Je choisis un nombre. Si je diminue ce nombre de 10, j'obtiens le double de 420.  
Quel nombre ai-je choisi au départ ?

Comprendre	Entourer	Réfléchir	Vérifier	Ecrire	Attention à l'unité

**Résolution de problèmes****Problème n°32**

Je choisis un nombre. Si je diminue ce nombre de 10, j'obtiens le double de 420.  
Quel nombre ai-je choisi au départ ?

Comprendre	Entourer	Réfléchir	Vérifier	Ecrire	Attention à l'unité

**Résolution de problèmes****Problème n°32**

Je choisis un nombre. Si je diminue ce nombre de 10, j'obtiens le double de 420.  
Quel nombre ai-je choisi au départ ?

Comprendre	Entourer	Réfléchir	Vérifier	Ecrire	Attention à l'unité

**Résolution de problèmes****Problème n°32**

Je choisis un nombre. Si je diminue ce nombre de 10, j'obtiens le double de 420.  
Quel nombre ai-je choisi au départ ?

Comprendre	Entourer	Réfléchir	Vérifier	Ecrire	Attention à l'unité

**Résolution de problèmes****Problème n°32**

Je choisis un nombre. Si je diminue ce nombre de 10, j'obtiens le double de 420.  
Quel nombre ai-je choisi au départ ?

Comprendre	Entourer	Réfléchir	Vérifier	Ecrire	Attention à l'unité

**Résolution de problèmes****Problème n°32**

Je choisis un nombre. Si je diminue ce nombre de 10, j'obtiens le double de 420.  
Quel nombre ai-je choisi au départ ?

 840 830 850 440**Résolution de problèmes****Problème n°32**

Je choisis un nombre. Si je diminue ce nombre de 10, j'obtiens le double de 420.  
Quel nombre ai-je choisi au départ ?

 840 830 850 440**Résolution de problèmes****Problème n°32**

Je choisis un nombre. Si je diminue ce nombre de 10, j'obtiens le double de 420.  
Quel nombre ai-je choisi au départ ?

 840 830 850 440**Résolution de problèmes****Problème n°32**

Je choisis un nombre. Si je diminue ce nombre de 10, j'obtiens le double de 420.  
Quel nombre ai-je choisi au départ ?

 840 830 850 440**Résolution de problèmes****Problème n°32**

Je choisis un nombre. Si je diminue ce nombre de 10, j'obtiens le double de 420.  
Quel nombre ai-je choisi au départ ?

 840 830 850 440**Résolution de problèmes****Problème n°32**

Je choisis un nombre. Si je diminue ce nombre de 10, j'obtiens le double de 420.  
Quel nombre ai-je choisi au départ ?

 840 830 850 440**Résolution de problèmes****Problème n°32**

Je choisis un nombre. Si je diminue ce nombre de 10, j'obtiens le double de 420.  
Quel nombre ai-je choisi au départ ?

 840 830 850 440

## Dénombrement

**Résolution de problèmes****Problème n°33**

Dans sa commode, Kevin a 5 écharpes différentes et 3 paires de gants différentes.  
Combien d'assortiments différents peut-il réaliser ?

Comprendre	Entourer	Réfléchir	Vérifier	Ecrire	Attention à l'unité

**Résolution de problèmes****Problème n°33**

Dans sa commode, Kevin a 5 écharpes différentes et 3 paires de gants différentes.  
Combien d'assortiments différents peut-il réaliser ?

Comprendre	Entourer	Réfléchir	Vérifier	Ecrire	Attention à l'unité

**Résolution de problèmes****Problème n°33**

Dans sa commode, Kevin a 5 écharpes différentes et 3 paires de gants différentes.  
Combien d'assortiments différents peut-il réaliser ?

Comprendre	Entourer	Réfléchir	Vérifier	Ecrire	Attention à l'unité

**Résolution de problèmes****Problème n°33**

Dans sa commode, Kevin a 5 écharpes différentes et 3 paires de gants différentes.  
Combien d'assortiments différents peut-il réaliser ?

Comprendre	Entourer	Réfléchir	Vérifier	Ecrire	Attention à l'unité

**Résolution de problèmes****Problème n°33**

Dans sa commode, Kevin a 5 écharpes différentes et 3 paires de gants différentes.  
Combien d'assortiments différents peut-il réaliser ?

Comprendre	Entourer	Réfléchir	Vérifier	Ecrire	Attention à l'unité

**Résolution de problèmes****Problème n°33**

Dans sa commode, Kevin a 5 écharpes différentes et 3 paires de gants différentes.  
Combien d'assortiments différents peut-il réaliser ?

 15 8 2 10**Résolution de problèmes****Problème n°33**

Dans sa commode, Kevin a 5 écharpes différentes et 3 paires de gants différentes.  
Combien d'assortiments différents peut-il réaliser ?

 15 8 2 10**Résolution de problèmes****Problème n°33**

Dans sa commode, Kevin a 5 écharpes différentes et 3 paires de gants différentes.  
Combien d'assortiments différents peut-il réaliser ?

 15 8 2 10**Résolution de problèmes****Problème n°33**

Dans sa commode, Kevin a 5 écharpes différentes et 3 paires de gants différentes.  
Combien d'assortiments différents peut-il réaliser ?

 15 8 2 10**Résolution de problèmes****Problème n°33**

Dans sa commode, Kevin a 5 écharpes différentes et 3 paires de gants différentes.  
Combien d'assortiments différents peut-il réaliser ?

 15 8 2 10**Résolution de problèmes****Problème n°33**

Dans sa commode, Kevin a 5 écharpes différentes et 3 paires de gants différentes.  
Combien d'assortiments différents peut-il réaliser ?

 15 8 2 10**Résolution de problèmes****Problème n°33**

Dans sa commode, Kevin a 5 écharpes différentes et 3 paires de gants différentes.  
Combien d'assortiments différents peut-il réaliser ?

 15 8 2 10

**Résolution de problèmes****Problème n°34**

Dans son placard, Léa a 4 tee-shirts différents et 2 jupes différentes.  
Combien de tenues différentes peut-elle réaliser ?

Comprendre	Entourer	Réfléchir	Vérifier	Ecrire	Attention à l'unité

**Résolution de problèmes****Problème n°34**

Dans son placard, Léa a 4 tee-shirts différents et 2 jupes différentes.  
Combien de tenues différentes peut-elle réaliser ?

Comprendre	Entourer	Réfléchir	Vérifier	Ecrire	Attention à l'unité

**Résolution de problèmes****Problème n°34**

Dans son placard, Léa a 4 tee-shirts différents et 2 jupes différentes.  
Combien de tenues différentes peut-elle réaliser ?

Comprendre	Entourer	Réfléchir	Vérifier	Ecrire	Attention à l'unité

**Résolution de problèmes****Problème n°34**

Dans son placard, Léa a 4 tee-shirts différents et 2 jupes différentes.  
Combien de tenues différentes peut-elle réaliser ?

Comprendre	Entourer	Réfléchir	Vérifier	Ecrire	Attention à l'unité

**Résolution de problèmes****Problème n°34**

Dans son placard, Léa a 4 tee-shirts différents et 2 jupes différentes.  
Combien de tenues différentes peut-elle réaliser ?

Comprendre	Entourer	Réfléchir	Vérifier	Ecrire	Attention à l'unité

**Résolution de problèmes****Problème n°34**

Dans son placard, Léa a 4 tee-shirts différents et 2 jupes différentes.  
Combien de tenues différentes peut-elle réaliser ?

Comprendre	Entourer	Réfléchir	Vérifier	Ecrire	Attention à l'unité

**Résolution de problèmes****Problème n°34**

Dans son placard, Léa a 4 tee-shirts différents et 2 jupes différentes.  
Combien de tenues différentes peut-elle réaliser ?

 8 6 2 10**Résolution de problèmes****Problème n°34**

Dans son placard, Léa a 4 tee-shirts différents et 2 jupes différentes.  
Combien de tenues différentes peut-elle réaliser ?

 8 6 2 10**Résolution de problèmes****Problème n°34**

Dans son placard, Léa a 4 tee-shirts différents et 2 jupes différentes.  
Combien de tenues différentes peut-elle réaliser ?

 8 6 2 10**Résolution de problèmes****Problème n°34**

Dans son placard, Léa a 4 tee-shirts différents et 2 jupes différentes.  
Combien de tenues différentes peut-elle réaliser ?

 8 6 2 10**Résolution de problèmes****Problème n°34**

Dans son placard, Léa a 4 tee-shirts différents et 2 jupes différentes.  
Combien de tenues différentes peut-elle réaliser ?

 8 6 2 10**Résolution de problèmes****Problème n°34**

Dans son placard, Léa a 4 tee-shirts différents et 2 jupes différentes.  
Combien de tenues différentes peut-elle réaliser ?

 8 6 2 10**Résolution de problèmes****Problème n°34**

Dans son placard, Léa a 4 tee-shirts différents et 2 jupes différentes.  
Combien de tenues différentes peut-elle réaliser ?

 8 6 2 10

**Résolution de problèmes****Problème n°35**

À la boulangerie, on peut choisir 3 sortes de pains et 5 sortes de confitures.  
Combien de petits-déjeuners différents peut-on composer ?

Comprendre	Entourer	Réfléchir	Vérifier	Ecrire	Attention à l'unité

**Résolution de problèmes****Problème n°35**

À la boulangerie, on peut choisir 3 sortes de pains et 5 sortes de confitures.  
Combien de petits-déjeuners différents peut-on composer ?

Comprendre	Entourer	Réfléchir	Vérifier	Ecrire	Attention à l'unité

**Résolution de problèmes****Problème n°35**

À la boulangerie, on peut choisir 3 sortes de pains et 5 sortes de confitures.  
Combien de petits-déjeuners différents peut-on composer ?

Comprendre	Entourer	Réfléchir	Vérifier	Ecrire	Attention à l'unité

**Résolution de problèmes****Problème n°35**

À la boulangerie, on peut choisir 3 sortes de pains et 5 sortes de confitures.  
Combien de petits-déjeuners différents peut-on composer ?

Comprendre	Entourer	Réfléchir	Vérifier	Ecrire	Attention à l'unité

**Résolution de problèmes****Problème n°35**

À la boulangerie, on peut choisir 3 sortes de pains et 5 sortes de confitures.  
Combien de petits-déjeuners différents peut-on composer ?

Comprendre	Entourer	Réfléchir	Vérifier	Ecrire	Attention à l'unité

**Résolution de problèmes****Problème n°35**

À la boulangerie, on peut choisir 3 sortes de pains et 5 sortes de confitures.  
Combien de petits-déjeuners différents peut-on composer ?

Comprendre	Entourer	Réfléchir	Vérifier	Ecrire	Attention à l'unité

**Résolution de problèmes****Problème n°35**

À la boulangerie, on peut choisir 3 sortes de pains et 5 sortes de confitures.  
Combien de petits-déjeuners différents peut-on composer ?

 12 6 8 15**Résolution de problèmes****Problème n°35**

À la boulangerie, on peut choisir 3 sortes de pains et 5 sortes de confitures.  
Combien de petits-déjeuners différents peut-on composer ?

 12 6 8 15**Résolution de problèmes****Problème n°35**

À la boulangerie, on peut choisir 3 sortes de pains et 5 sortes de confitures.  
Combien de petits-déjeuners différents peut-on composer ?

 12 6 8 15**Résolution de problèmes****Problème n°35**

À la boulangerie, on peut choisir 3 sortes de pains et 5 sortes de confitures.  
Combien de petits-déjeuners différents peut-on composer ?

 12 6 8 15**Résolution de problèmes****Problème n°35**

À la boulangerie, on peut choisir 3 sortes de pains et 5 sortes de confitures.  
Combien de petits-déjeuners différents peut-on composer ?

 12 6 8 15**Résolution de problèmes****Problème n°35**

À la boulangerie, on peut choisir 3 sortes de pains et 5 sortes de confitures.  
Combien de petits-déjeuners différents peut-on composer ?

 12 6 8 15**Résolution de problèmes****Problème n°35**

À la boulangerie, on peut choisir 3 sortes de pains et 5 sortes de confitures.  
Combien de petits-déjeuners différents peut-on composer ?

 12 6 8 15

**Résolution de problèmes****Problème n°36**

Au restaurant, on peut choisir 4 boissons différentes et 3 desserts différents.  
Combien de menus boisson-dessert différents peut-on composer ?

Comprendre	Entourer	Réfléchir	Vérifier	Ecrire	Attention à l'unité

**Résolution de problèmes****Problème n°36**

Au restaurant, on peut choisir 4 boissons différentes et 3 desserts différents.  
Combien de menus boisson-dessert différents peut-on composer ?

Comprendre	Entourer	Réfléchir	Vérifier	Ecrire	Attention à l'unité

**Résolution de problèmes****Problème n°36**

Au restaurant, on peut choisir 4 boissons différentes et 3 desserts différents.  
Combien de menus boisson-dessert différents peut-on composer ?

Comprendre	Entourer	Réfléchir	Vérifier	Ecrire	Attention à l'unité

**Résolution de problèmes****Problème n°36**

Au restaurant, on peut choisir 4 boissons différentes et 3 desserts différents.  
Combien de menus boisson-dessert différents peut-on composer ?

Comprendre	Entourer	Réfléchir	Vérifier	Ecrire	Attention à l'unité

**Résolution de problèmes****Problème n°36**

Au restaurant, on peut choisir 4 boissons différentes et 3 desserts différents.  
Combien de menus boisson-dessert différents peut-on composer ?

Comprendre	Entourer	Réfléchir	Vérifier	Ecrire	Attention à l'unité

**Résolution de problèmes****Problème n°36**

Au restaurant, on peut choisir 4 boissons différentes et 3 desserts différents.  
Combien de menus boisson-dessert différents peut-on composer ?

Comprendre	Entourer	Réfléchir	Vérifier	Ecrire	Attention à l'unité

**Résolution de problèmes****Problème n°36**

Au restaurant, on peut choisir 4 boissons différentes et 3 desserts différents.  
Combien de menus boisson-dessert différents peut-on composer ?

 12 7 10 11**Résolution de problèmes****Problème n°36**

Au restaurant, on peut choisir 4 boissons différentes et 3 desserts différents.  
Combien de menus boisson-dessert différents peut-on composer ?

 12 7 10 11**Résolution de problèmes****Problème n°36**

Au restaurant, on peut choisir 4 boissons différentes et 3 desserts différents.  
Combien de menus boisson-dessert différents peut-on composer ?

 12 7 10 11**Résolution de problèmes****Problème n°36**

Au restaurant, on peut choisir 4 boissons différentes et 3 desserts différents.  
Combien de menus boisson-dessert différents peut-on composer ?

 12 7 10 11**Résolution de problèmes****Problème n°36**

Au restaurant, on peut choisir 4 boissons différentes et 3 desserts différents.  
Combien de menus boisson-dessert différents peut-on composer ?

 12 7 10 11**Résolution de problèmes****Problème n°36**

Au restaurant, on peut choisir 4 boissons différentes et 3 desserts différents.  
Combien de menus boisson-dessert différents peut-on composer ?

 12 7 10 11

**Résolution de problèmes****Problème n°37**

Dans une boutique, il y a 4 couleurs de sacs et 6 modèles de porte-clés.  
Combien d'assortiments différents peut-on acheter ?

Comprendre	Entourer	Réfléchir	Vérifier	Ecrire	Attention à l'unité

**Résolution de problèmes****Problème n°37**

Dans une boutique, il y a 4 couleurs de sacs et 6 modèles de porte-clés.  
Combien d'assortiments différents peut-on acheter ?

Comprendre	Entourer	Réfléchir	Vérifier	Ecrire	Attention à l'unité

**Résolution de problèmes****Problème n°37**

Dans une boutique, il y a 4 couleurs de sacs et 6 modèles de porte-clés.  
Combien d'assortiments différents peut-on acheter ?

Comprendre	Entourer	Réfléchir	Vérifier	Ecrire	Attention à l'unité

**Résolution de problèmes****Problème n°37**

Dans une boutique, il y a 4 couleurs de sacs et 6 modèles de porte-clés.  
Combien d'assortiments différents peut-on acheter ?

Comprendre	Entourer	Réfléchir	Vérifier	Ecrire	Attention à l'unité

**Résolution de problèmes****Problème n°37**

Dans une boutique, il y a 4 couleurs de sacs et 6 modèles de porte-clés.  
Combien d'assortiments différents peut-on acheter ?

Comprendre	Entourer	Réfléchir	Vérifier	Ecrire	Attention à l'unité

**Résolution de problèmes****Problème n°37**

Dans une boutique, il y a 4 couleurs de sacs et 6 modèles de porte-clés.  
Combien d'assortiments différents peut-on acheter ?

Comprendre	Entourer	Réfléchir	Vérifier	Ecrire	Attention à l'unité

**Résolution de problèmes****Problème n°37**

Dans une boutique, il y a 4 couleurs de sacs et 6 modèles de porte-clés.  
Combien d'assortiments différents peut-on acheter ?

 18 10 24 30**Résolution de problèmes****Problème n°37**

Dans une boutique, il y a 4 couleurs de sacs et 6 modèles de porte-clés.  
Combien d'assortiments différents peut-on acheter ?

 18 10 24 30**Résolution de problèmes****Problème n°37**

Dans une boutique, il y a 4 couleurs de sacs et 6 modèles de porte-clés.  
Combien d'assortiments différents peut-on acheter ?

 18 10 24 30**Résolution de problèmes****Problème n°37**

Dans une boutique, il y a 4 couleurs de sacs et 6 modèles de porte-clés.  
Combien d'assortiments différents peut-on acheter ?

 18 10 24 30**Résolution de problèmes****Problème n°37**

Dans une boutique, il y a 4 couleurs de sacs et 6 modèles de porte-clés.  
Combien d'assortiments différents peut-on acheter ?

 18 10 24 30**Résolution de problèmes****Problème n°37**

Dans une boutique, il y a 4 couleurs de sacs et 6 modèles de porte-clés.  
Combien d'assortiments différents peut-on acheter ?

 18 10 24 30**Résolution de problèmes****Problème n°37**

Dans une boutique, il y a 4 couleurs de sacs et 6 modèles de porte-clés.  
Combien d'assortiments différents peut-on acheter ?

 18 10 24 30

**Résolution de problèmes****Problème n°38**

Hugo possède 8 casquettes différentes et 5 vestes différentes.  
Combien de styles différents peut-il créer ?

Comprendre	Entourer	Réfléchir	Vérifier	Ecrire	Attention à l'unité

**Résolution de problèmes****Problème n°38**

Hugo possède 8 casquettes différentes et 5 vestes différentes.  
Combien de styles différents peut-il créer ?

Comprendre	Entourer	Réfléchir	Vérifier	Ecrire	Attention à l'unité

**Résolution de problèmes****Problème n°38**

Hugo possède 8 casquettes différentes et 5 vestes différentes.  
Combien de styles différents peut-il créer ?

Comprendre	Entourer	Réfléchir	Vérifier	Ecrire	Attention à l'unité

**Résolution de problèmes****Problème n°38**

Hugo possède 8 casquettes différentes et 5 vestes différentes.  
Combien de styles différents peut-il créer ?

Comprendre	Entourer	Réfléchir	Vérifier	Ecrire	Attention à l'unité

**Résolution de problèmes****Problème n°38**

Hugo possède 8 casquettes différentes et 5 vestes différentes.  
Combien de styles différents peut-il créer ?

Comprendre	Entourer	Réfléchir	Vérifier	Ecrire	Attention à l'unité

**Résolution de problèmes****Problème n°38**

Hugo possède 8 casquettes différentes et 5 vestes différentes.  
Combien de styles différents peut-il créer ?

Comprendre	Entourer	Réfléchir	Vérifier	Ecrire	Attention à l'unité

**Résolution de problèmes****Problème n°38**

Hugo possède 8 casquettes différentes et 5 vestes différentes.  
Combien de styles différents peut-il créer ?

 40 13 35 37**Résolution de problèmes****Problème n°38**

Hugo possède 8 casquettes différentes et 5 vestes différentes.  
Combien de styles différents peut-il créer ?

 40 13 35 37**Résolution de problèmes****Problème n°38**

Hugo possède 8 casquettes différentes et 5 vestes différentes.  
Combien de styles différents peut-il créer ?

 40 13 35 37**Résolution de problèmes****Problème n°38**

Hugo possède 8 casquettes différentes et 5 vestes différentes.  
Combien de styles différents peut-il créer ?

 40 13 35 37**Résolution de problèmes****Problème n°38**

Hugo possède 8 casquettes différentes et 5 vestes différentes.  
Combien de styles différents peut-il créer ?

 40 13 35 37**Résolution de problèmes****Problème n°38**

Hugo possède 8 casquettes différentes et 5 vestes différentes.  
Combien de styles différents peut-il créer ?

 40 13 35 37**Résolution de problèmes****Problème n°38**

Hugo possède 8 casquettes différentes et 5 vestes différentes.  
Combien de styles différents peut-il créer ?

 40 13 35 37

## Comparaison

### Résolution de problèmes

Problème n°39

Matthieu a trois fois moins de jeux vidéo que Julie. Matthieu a 12 jeux vidéo.  
Combien de jeux a Julie ?

Comprendre	Entourer	Réfléchir	Vérifier	Ecrire	Attention à l'unité

### Résolution de problèmes

Problème n°39

Matthieu a trois fois moins de jeux vidéo que Julie. Matthieu a 12 jeux vidéo.  
Combien de jeux a Julie ?

Comprendre	Entourer	Réfléchir	Vérifier	Ecrire	Attention à l'unité

### Résolution de problèmes

Problème n°39

Matthieu a trois fois moins de jeux vidéo que Julie. Matthieu a 12 jeux vidéo.  
Combien de jeux a Julie ?

Comprendre	Entourer	Réfléchir	Vérifier	Ecrire	Attention à l'unité

### Résolution de problèmes

Problème n°39

Matthieu a trois fois moins de jeux vidéo que Julie. Matthieu a 12 jeux vidéo.  
Combien de jeux a Julie ?

Comprendre	Entourer	Réfléchir	Vérifier	Ecrire	Attention à l'unité

### Résolution de problèmes

Problème n°39

Matthieu a trois fois moins de jeux vidéo que Julie. Matthieu a 12 jeux vidéo.  
Combien de jeux a Julie ?

Comprendre	Entourer	Réfléchir	Vérifier	Ecrire	Attention à l'unité

### Résolution de problèmes

Problème n°39

Matthieu a trois fois moins de jeux vidéo que Julie. Matthieu a 12 jeux vidéo.  
Combien de jeux a Julie ?

Comprendre	Entourer	Réfléchir	Vérifier	Ecrire	Attention à l'unité

**Résolution de problèmes****Problème n°39**

Matthieu a trois fois moins de jeux vidéo que Julie. Matthieu a 12 jeux vidéo.  
Combien de jeux a Julie ?

 15 36 4 9**Résolution de problèmes****Problème n°39**

Matthieu a trois fois moins de jeux vidéo que Julie. Matthieu a 12 jeux vidéo.  
Combien de jeux a Julie ?

 15 36 4 9**Résolution de problèmes****Problème n°39**

Matthieu a trois fois moins de jeux vidéo que Julie. Matthieu a 12 jeux vidéo.  
Combien de jeux a Julie ?

 15 36 4 9**Résolution de problèmes****Problème n°39**

Matthieu a trois fois moins de jeux vidéo que Julie. Matthieu a 12 jeux vidéo.  
Combien de jeux a Julie ?

 15 36 4 9**Résolution de problèmes****Problème n°39**

Matthieu a trois fois moins de jeux vidéo que Julie. Matthieu a 12 jeux vidéo.  
Combien de jeux a Julie ?

 15 36 4 9**Résolution de problèmes****Problème n°39**

Matthieu a trois fois moins de jeux vidéo que Julie. Matthieu a 12 jeux vidéo.  
Combien de jeux a Julie ?

 15 36 4 9**Résolution de problèmes****Problème n°39**

Matthieu a trois fois moins de jeux vidéo que Julie. Matthieu a 12 jeux vidéo.  
Combien de jeux a Julie ?

 15 36 4 9

**Résolution de problèmes****Problème n°40**

Clara a deux fois moins de billes que Hugo. Clara a 15 billes.  
Combien de billes Hugo a-t-il ?

Comprendre	Entourer	Réfléchir	Vérifier	Ecrire	Attention à l'unité

**Résolution de problèmes****Problème n°40**

Clara a deux fois moins de billes que Hugo. Clara a 15 billes.  
Combien de billes Hugo a-t-il ?

Comprendre	Entourer	Réfléchir	Vérifier	Ecrire	Attention à l'unité

**Résolution de problèmes****Problème n°40**

Clara a deux fois moins de billes que Hugo. Clara a 15 billes.  
Combien de billes Hugo a-t-il ?

Comprendre	Entourer	Réfléchir	Vérifier	Ecrire	Attention à l'unité

**Résolution de problèmes****Problème n°40**

Clara a deux fois moins de billes que Hugo. Clara a 15 billes.  
Combien de billes Hugo a-t-il ?

Comprendre	Entourer	Réfléchir	Vérifier	Ecrire	Attention à l'unité

**Résolution de problèmes****Problème n°40**

Clara a deux fois moins de billes que Hugo. Clara a 15 billes.  
Combien de billes Hugo a-t-il ?

Comprendre	Entourer	Réfléchir	Vérifier	Ecrire	Attention à l'unité

**Résolution de problèmes****Problème n°40**

Clara a deux fois moins de billes que Hugo. Clara a 15 billes.  
Combien de billes Hugo a-t-il ?

Comprendre	Entourer	Réfléchir	Vérifier	Ecrire	Attention à l'unité

**Résolution de problèmes****Problème n°40**

Clara a deux fois moins de billes que Hugo. Clara a 15 billes.  
Combien de billes Hugo a-t-il ?

 30 13 40 17**Résolution de problèmes****Problème n°40**

Clara a deux fois moins de billes que Hugo. Clara a 15 billes.  
Combien de billes Hugo a-t-il ?

 30 13 40 17**Résolution de problèmes****Problème n°40**

Clara a deux fois moins de billes que Hugo. Clara a 15 billes.  
Combien de billes Hugo a-t-il ?

 30 13 40 17**Résolution de problèmes****Problème n°40**

Clara a deux fois moins de billes que Hugo. Clara a 15 billes.  
Combien de billes Hugo a-t-il ?

 30 13 40 17**Résolution de problèmes****Problème n°40**

Clara a deux fois moins de billes que Hugo. Clara a 15 billes.  
Combien de billes Hugo a-t-il ?

 30 13 40 17**Résolution de problèmes****Problème n°40**

Clara a deux fois moins de billes que Hugo. Clara a 15 billes.  
Combien de billes Hugo a-t-il ?

 30 13 40 17**Résolution de problèmes****Problème n°40**

Clara a deux fois moins de billes que Hugo. Clara a 15 billes.  
Combien de billes Hugo a-t-il ?

 30 13 40 17

**Résolution de problèmes****Problème n°41**

Lucas a quatre fois plus de cartes que Emma. Lucas a 28 cartes.  
Combien de cartes Emma a-t-elle ?

Comprendre	Entourer	Réfléchir	Vérifier	Ecrire	Attention à l'unité

**Résolution de problèmes****Problème n°41**

Lucas a quatre fois plus de cartes que Emma. Lucas a 28 cartes.  
Combien de cartes Emma a-t-elle ?

Comprendre	Entourer	Réfléchir	Vérifier	Ecrire	Attention à l'unité

**Résolution de problèmes****Problème n°41**

Lucas a quatre fois plus de cartes que Emma. Lucas a 28 cartes.  
Combien de cartes Emma a-t-elle ?

Comprendre	Entourer	Réfléchir	Vérifier	Ecrire	Attention à l'unité

**Résolution de problèmes****Problème n°41**

Lucas a quatre fois plus de cartes que Emma. Lucas a 28 cartes.  
Combien de cartes Emma a-t-elle ?

Comprendre	Entourer	Réfléchir	Vérifier	Ecrire	Attention à l'unité

**Résolution de problèmes****Problème n°41**

Lucas a quatre fois plus de cartes que Emma. Lucas a 28 cartes.  
Combien de cartes Emma a-t-elle ?

Comprendre	Entourer	Réfléchir	Vérifier	Ecrire	Attention à l'unité

**Résolution de problèmes****Problème n°41**

Lucas a quatre fois plus de cartes que Emma. Lucas a 28 cartes.  
Combien de cartes Emma a-t-elle ?

Comprendre	Entourer	Réfléchir	Vérifier	Ecrire	Attention à l'unité

**Résolution de problèmes****Problème n°41**

Lucas a quatre fois plus de cartes que Emma. Lucas a 28 cartes.  
Combien de cartes Emma a-t-elle ?

 32 24 112 7**Résolution de problèmes****Problème n°41**

Lucas a quatre fois plus de cartes que Emma. Lucas a 28 cartes.  
Combien de cartes Emma a-t-elle ?

 32 24 112 7**Résolution de problèmes****Problème n°41**

Lucas a quatre fois plus de cartes que Emma. Lucas a 28 cartes.  
Combien de cartes Emma a-t-elle ?

 32 24 112 7**Résolution de problèmes****Problème n°41**

Lucas a quatre fois plus de cartes que Emma. Lucas a 28 cartes.  
Combien de cartes Emma a-t-elle ?

 32 24 112 7**Résolution de problèmes****Problème n°41**

Lucas a quatre fois plus de cartes que Emma. Lucas a 28 cartes.  
Combien de cartes Emma a-t-elle ?

 32 24 112 7**Résolution de problèmes****Problème n°41**

Lucas a quatre fois plus de cartes que Emma. Lucas a 28 cartes.  
Combien de cartes Emma a-t-elle ?

 32 24 112 7**Résolution de problèmes****Problème n°41**

Lucas a quatre fois plus de cartes que Emma. Lucas a 28 cartes.  
Combien de cartes Emma a-t-elle ?

 32 24 112 7

**Résolution de problèmes****Problème n°42**

Nina a trois fois moins de livres que Paul. Nina a 9 livres.  
Combien de livres Paul a-t-il ?

Comprendre	Entourer	Réfléchir	Vérifier	Ecrire	Attention à l'unité

**Résolution de problèmes****Problème n°42**

Nina a trois fois moins de livres que Paul. Nina a 9 livres.  
Combien de livres Paul a-t-il ?

Comprendre	Entourer	Réfléchir	Vérifier	Ecrire	Attention à l'unité

**Résolution de problèmes****Problème n°42**

Nina a trois fois moins de livres que Paul. Nina a 9 livres.  
Combien de livres Paul a-t-il ?

Comprendre	Entourer	Réfléchir	Vérifier	Ecrire	Attention à l'unité

**Résolution de problèmes****Problème n°42**

Nina a trois fois moins de livres que Paul. Nina a 9 livres.  
Combien de livres Paul a-t-il ?

Comprendre	Entourer	Réfléchir	Vérifier	Ecrire	Attention à l'unité

**Résolution de problèmes****Problème n°42**

Nina a trois fois moins de livres que Paul. Nina a 9 livres.  
Combien de livres Paul a-t-il ?

Comprendre	Entourer	Réfléchir	Vérifier	Ecrire	Attention à l'unité

**Résolution de problèmes****Problème n°42**

Nina a trois fois moins de livres que Paul. Nina a 9 livres.  
Combien de livres Paul a-t-il ?

Comprendre	Entourer	Réfléchir	Vérifier	Ecrire	Attention à l'unité

**Résolution de problèmes****Problème n°42**

Nina a trois fois moins de livres que Paul. Nina a 9 livres.  
Combien de livres Paul a-t-il ?

 27 3 12 6**Résolution de problèmes****Problème n°42**

Nina a trois fois moins de livres que Paul. Nina a 9 livres.  
Combien de livres Paul a-t-il ?

 27 3 12 6**Résolution de problèmes****Problème n°42**

Nina a trois fois moins de livres que Paul. Nina a 9 livres.  
Combien de livres Paul a-t-il ?

 27 3 12 6**Résolution de problèmes****Problème n°42**

Nina a trois fois moins de livres que Paul. Nina a 9 livres.  
Combien de livres Paul a-t-il ?

 27 3 12 6**Résolution de problèmes****Problème n°42**

Nina a trois fois moins de livres que Paul. Nina a 9 livres.  
Combien de livres Paul a-t-il ?

 27 3 12 6**Résolution de problèmes****Problème n°42**

Nina a trois fois moins de livres que Paul. Nina a 9 livres.  
Combien de livres Paul a-t-il ?

 27 3 12 6**Résolution de problèmes****Problème n°42**

Nina a trois fois moins de livres que Paul. Nina a 9 livres.  
Combien de livres Paul a-t-il ?

 27 3 12 6

**Résolution de problèmes****Problème n°43**

Tom a cinq fois moins de bonbons que Sarah. Tom a 45 bonbons.  
Combien de bonbons Sarah a-t-elle ?

Comprendre	Entourer	Réfléchir	Vérifier	Ecrire	Attention à l'unité

**Résolution de problèmes****Problème n°43**

Tom a cinq fois moins de bonbons que Sarah. Tom a 45 bonbons.  
Combien de bonbons Sarah a-t-elle ?

Comprendre	Entourer	Réfléchir	Vérifier	Ecrire	Attention à l'unité

**Résolution de problèmes****Problème n°43**

Tom a cinq fois moins de bonbons que Sarah. Tom a 45 bonbons.  
Combien de bonbons Sarah a-t-elle ?

Comprendre	Entourer	Réfléchir	Vérifier	Ecrire	Attention à l'unité

**Résolution de problèmes****Problème n°43**

Tom a cinq fois moins de bonbons que Sarah. Tom a 45 bonbons.  
Combien de bonbons Sarah a-t-elle ?

Comprendre	Entourer	Réfléchir	Vérifier	Ecrire	Attention à l'unité

**Résolution de problèmes****Problème n°43**

Tom a cinq fois moins de bonbons que Sarah. Tom a 45 bonbons.  
Combien de bonbons Sarah a-t-elle ?

Comprendre	Entourer	Réfléchir	Vérifier	Ecrire	Attention à l'unité

**Résolution de problèmes****Problème n°43**

Tom a cinq fois moins de bonbons que Sarah. Tom a 45 bonbons.  
Combien de bonbons Sarah a-t-elle ?

Comprendre	Entourer	Réfléchir	Vérifier	Ecrire	Attention à l'unité

**Résolution de problèmes****Problème n°43**

Tom a cinq fois moins de bonbons que Sarah. Tom a 45 bonbons.  
Combien de bonbons Sarah a-t-elle ?

 50 9 225 190**Résolution de problèmes****Problème n°43**

Tom a cinq fois moins de bonbons que Sarah. Tom a 45 bonbons.  
Combien de bonbons Sarah a-t-elle ?

 50 9 225 190**Résolution de problèmes****Problème n°43**

Tom a cinq fois moins de bonbons que Sarah. Tom a 45 bonbons.  
Combien de bonbons Sarah a-t-elle ?

 50 9 225 190**Résolution de problèmes****Problème n°43**

Tom a cinq fois moins de bonbons que Sarah. Tom a 45 bonbons.  
Combien de bonbons Sarah a-t-elle ?

 50 9 225 190**Résolution de problèmes****Problème n°43**

Tom a cinq fois moins de bonbons que Sarah. Tom a 45 bonbons.  
Combien de bonbons Sarah a-t-elle ?

 50 9 225 190**Résolution de problèmes****Problème n°43**

Tom a cinq fois moins de bonbons que Sarah. Tom a 45 bonbons.  
Combien de bonbons Sarah a-t-elle ?

 50 9 225 190**Résolution de problèmes****Problème n°43**

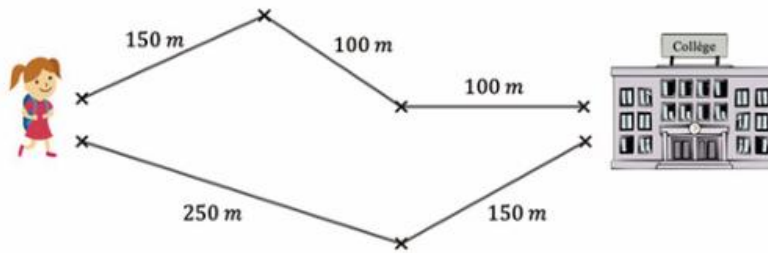
Tom a cinq fois moins de bonbons que Sarah. Tom a 45 bonbons.  
Combien de bonbons Sarah a-t-elle ?

 50 9 225 190

Résolution de problèmes

Problème n°44

Quelle est la longueur du chemin le plus court pour aller au collège ?

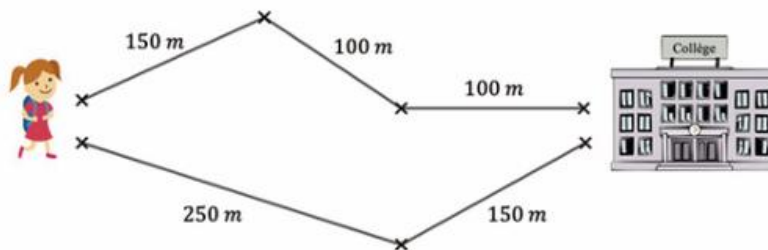


Comprendre	Entourer	Réfléchir	Vérifier	Ecrire	Attention à l'unité

Résolution de problèmes

Problème n°44

Quelle est la longueur du chemin le plus court pour aller au collège ?

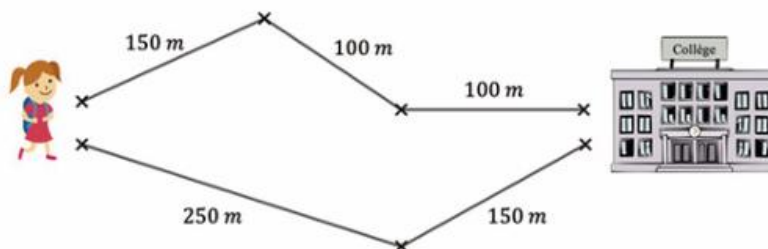


Comprendre	Entourer	Réfléchir	Vérifier	Ecrire	Attention à l'unité

Résolution de problèmes

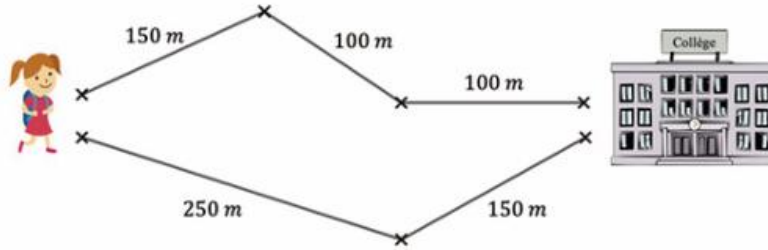
Problème n°44

Quelle est la longueur du chemin le plus court pour aller au collège ?



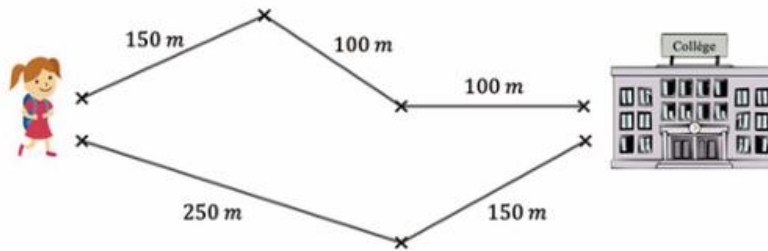
Comprendre	Entourer	Réfléchir	Vérifier	Ecrire	Attention à l'unité

Quelle est la longueur du chemin le plus court pour aller au collège ?



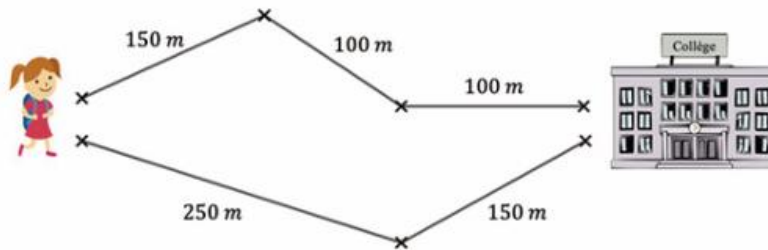
- 350 m     100 m     750 m     400 m

Quelle est la longueur du chemin le plus court pour aller au collège ?



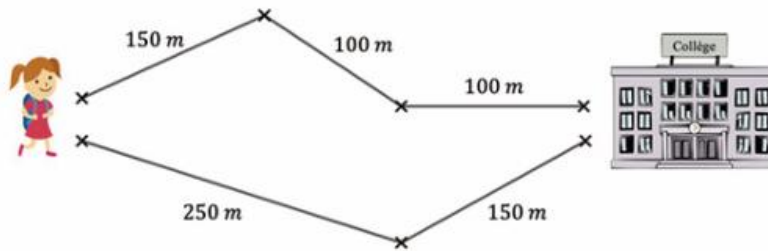
- 350 m     100 m     750 m     400 m

Quelle est la longueur du chemin le plus court pour aller au collège ?



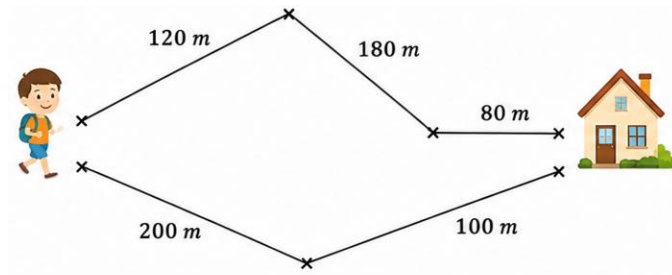
- 350 m     100 m     750 m     400 m

Quelle est la longueur du chemin le plus court pour aller au collège ?



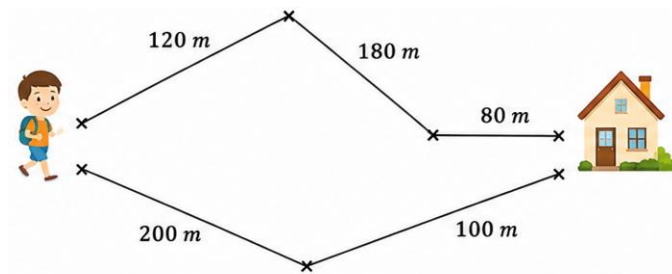
- 350 m     100 m     750 m     400 m

Quelle est la longueur du chemin le plus court pour aller au collège ?



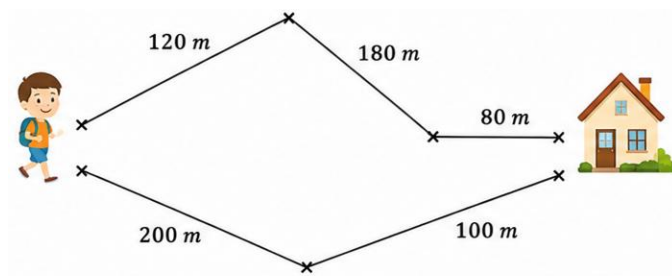
Comprendre	Entourer	Réfléchir	Vérifier	Ecrire	Attention à l'unité

Quelle est la longueur du chemin le plus court pour aller au collège ?



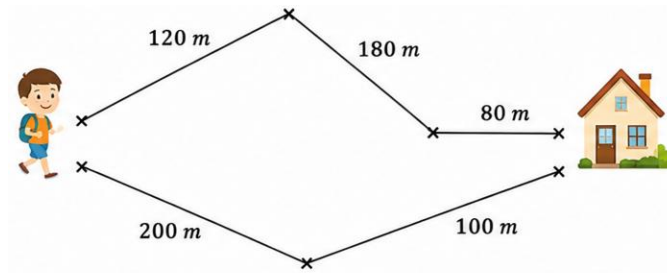
Comprendre	Entourer	Réfléchir	Vérifier	Ecrire	Attention à l'unité

Quelle est la longueur du chemin le plus court pour aller au collège ?



Comprendre	Entourer	Réfléchir	Vérifier	Ecrire	Attention à l'unité

Quelle est la longueur du chemin le plus court pour aller au collège ?



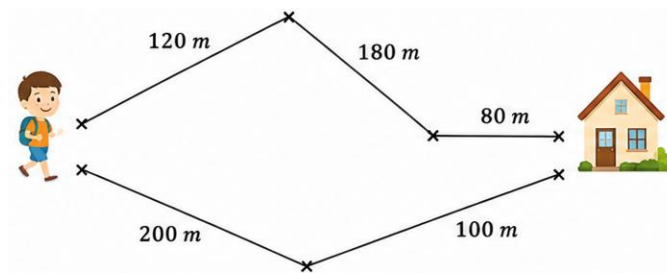
680 m

380 m

300 m

80 m

Quelle est la longueur du chemin le plus court pour aller au collège ?



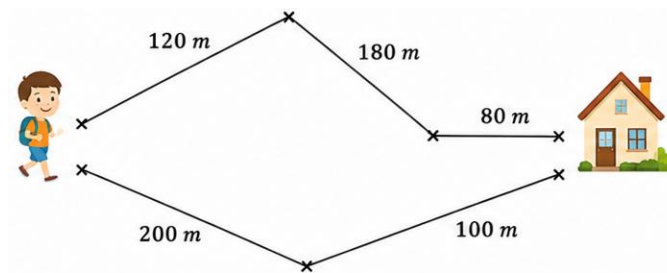
680 m

380 m

300 m

80 m

Quelle est la longueur du chemin le plus court pour aller au collège ?



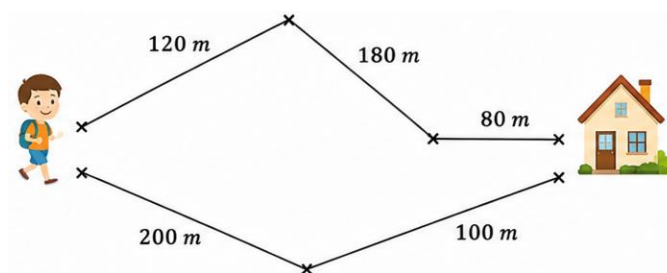
680 m

380 m

300 m

80 m

Quelle est la longueur du chemin le plus court pour aller au collège ?



680 m

380 m

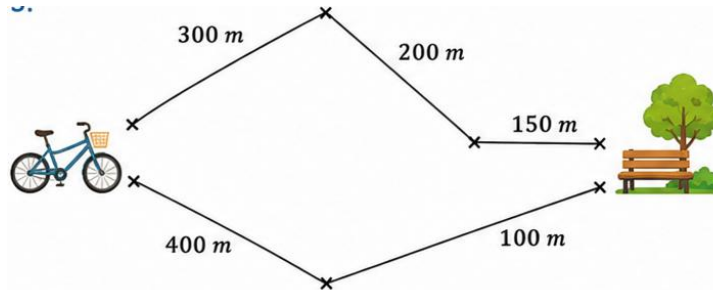
300 m

80 m

Résolution de problèmes

Problème n°46

Quelle est la longueur du chemin le plus court pour aller au collège ?

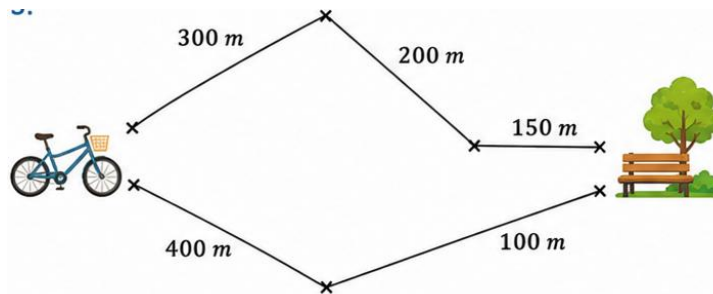


Comprendre	Entourer	Réfléchir	Vérifier	Ecrire	Attention à l'unité

Résolution de problèmes

Problème n°46

Quelle est la longueur du chemin le plus court pour aller au collège ?

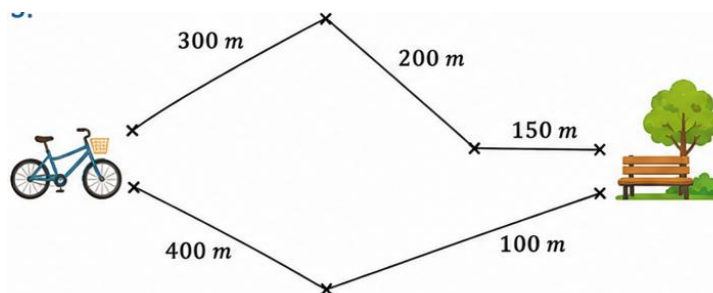


Comprendre	Entourer	Réfléchir	Vérifier	Ecrire	Attention à l'unité

Résolution de problèmes

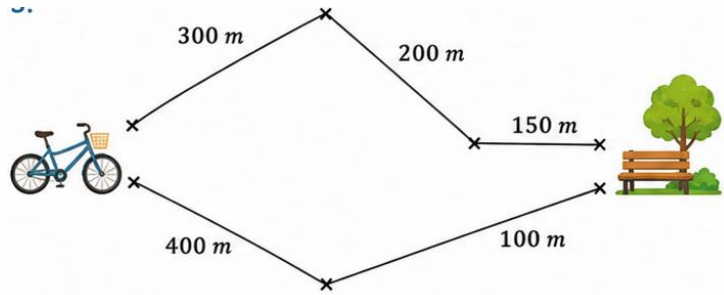
Problème n°46

Quelle est la longueur du chemin le plus court pour aller au collège ?

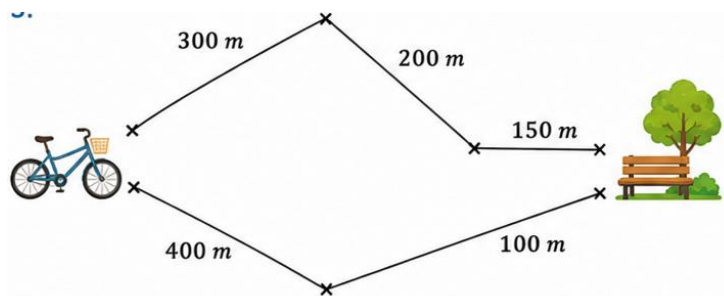


Comprendre	Entourer	Réfléchir	Vérifier	Ecrire	Attention à l'unité

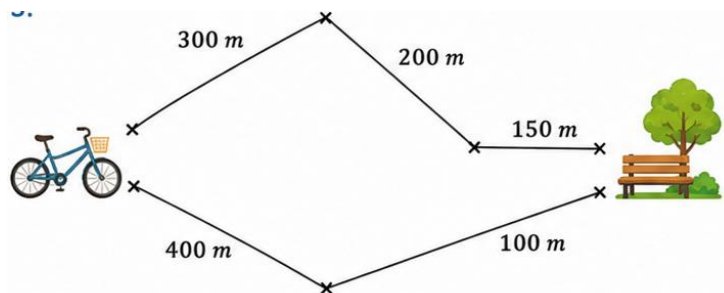
Quelle est la longueur du chemin le plus court pour aller au collège ?

 650 m 150 m 500 m 1150 m

Quelle est la longueur du chemin le plus court pour aller au collège ?

 650 m 150 m 500 m 1150 m

Quelle est la longueur du chemin le plus court pour aller au collège ?

 650 m 150 m 500 m 1150 m

**Résolution de problèmes****Problème n°47**

Une douche représente en moyenne 80 L d'eau et un bain 200 L d'eau. Si Joseph prend une douche par jour au lieu d'un bain, quelle sera l'économie d'eau réalisée à la fin d'une semaine ?

Comprendre	Entourer	Réfléchir	Vérifier	Ecrire	Attention à l'unité

**Résolution de problèmes****Problème n°47**

Une douche représente en moyenne 80 L d'eau et un bain 200 L d'eau. Si Joseph prend une douche par jour au lieu d'un bain, quelle sera l'économie d'eau réalisée à la fin d'une semaine ?

Comprendre	Entourer	Réfléchir	Vérifier	Ecrire	Attention à l'unité

**Résolution de problèmes****Problème n°47**

Une douche représente en moyenne 80 L d'eau et un bain 200 L d'eau. Si Joseph prend une douche par jour au lieu d'un bain, quelle sera l'économie d'eau réalisée à la fin d'une semaine ?

Comprendre	Entourer	Réfléchir	Vérifier	Ecrire	Attention à l'unité

**Résolution de problèmes****Problème n°47**

Une douche représente en moyenne 80 L d'eau et un bain 200 L d'eau. Si Joseph prend une douche par jour au lieu d'un bain, quelle sera l'économie d'eau réalisée à la fin d'une semaine ?

Comprendre	Entourer	Réfléchir	Vérifier	Ecrire	Attention à l'unité

**Résolution de problèmes****Problème n°47**

Une douche représente en moyenne 80 L d'eau et un bain 200 L d'eau. Si Joseph prend une douche par jour au lieu d'un bain, quelle sera l'économie d'eau réalisée à la fin d'une semaine ?

Comprendre	Entourer	Réfléchir	Vérifier	Ecrire	Attention à l'unité

**Résolution de problèmes****Problème n°47**

Une douche représente en moyenne 80 L d'eau et un bain 200 L d'eau. Si Joseph prend une douche par jour au lieu d'un bain, quelle sera l'économie d'eau réalisée à la fin d'une semaine ?

- 280 L     840 L     1 400 L     1 960 L

**Résolution de problèmes****Problème n°47**

Une douche représente en moyenne 80 L d'eau et un bain 200 L d'eau. Si Joseph prend une douche par jour au lieu d'un bain, quelle sera l'économie d'eau réalisée à la fin d'une semaine ?

- 280 L     840 L     1 400 L     1 960 L

**Résolution de problèmes****Problème n°47**

Une douche représente en moyenne 80 L d'eau et un bain 200 L d'eau. Si Joseph prend une douche par jour au lieu d'un bain, quelle sera l'économie d'eau réalisée à la fin d'une semaine ?

- 280 L     840 L     1 400 L     1 960 L

**Résolution de problèmes****Problème n°47**

Une douche représente en moyenne 80 L d'eau et un bain 200 L d'eau. Si Joseph prend une douche par jour au lieu d'un bain, quelle sera l'économie d'eau réalisée à la fin d'une semaine ?

- 280 L     840 L     1 400 L     1 960 L

**Résolution de problèmes****Problème n°47**

Une douche représente en moyenne 80 L d'eau et un bain 200 L d'eau. Si Joseph prend une douche par jour au lieu d'un bain, quelle sera l'économie d'eau réalisée à la fin d'une semaine ?

- 280 L     840 L     1 400 L     1 960 L

**Résolution de problèmes****Problème n°47**

Une douche représente en moyenne 80 L d'eau et un bain 200 L d'eau. Si Joseph prend une douche par jour au lieu d'un bain, quelle sera l'économie d'eau réalisée à la fin d'une semaine ?

- 280 L     840 L     1 400 L     1 960 L

**Résolution de problèmes****Problème n°48**

Une ampoule classique consomme 100 W et une ampoule LED consomme 20 W.  
Si Emma utilise une ampoule LED à la place d'une ampoule classique pendant 5 jours,  
quelle économie d'électricité réalise-t-elle ?

Comprendre	Entourer	Réfléchir	Vérifier	Ecrire	Attention à l'unité

**Résolution de problèmes****Problème n°48**

Une ampoule classique consomme 100 W et une ampoule LED consomme 20 W.  
Si Emma utilise une ampoule LED à la place d'une ampoule classique pendant 5 jours,  
quelle économie d'électricité réalise-t-elle ?

Comprendre	Entourer	Réfléchir	Vérifier	Ecrire	Attention à l'unité

**Résolution de problèmes****Problème n°48**

Une ampoule classique consomme 100 W et une ampoule LED consomme 20 W.  
Si Emma utilise une ampoule LED à la place d'une ampoule classique pendant 5 jours,  
quelle économie d'électricité réalise-t-elle ?

Comprendre	Entourer	Réfléchir	Vérifier	Ecrire	Attention à l'unité

**Résolution de problèmes****Problème n°48**

Une ampoule classique consomme 100 W et une ampoule LED consomme 20 W.  
Si Emma utilise une ampoule LED à la place d'une ampoule classique pendant 5 jours,  
quelle économie d'électricité réalise-t-elle ?

Comprendre	Entourer	Réfléchir	Vérifier	Ecrire	Attention à l'unité

**Résolution de problèmes****Problème n°48**

Une ampoule classique consomme 100 W et une ampoule LED consomme 20 W.  
Si Emma utilise une ampoule LED à la place d'une ampoule classique pendant 5 jours,  
quelle économie d'électricité réalise-t-elle ?

Comprendre	Entourer	Réfléchir	Vérifier	Ecrire	Attention à l'unité

**Résolution de problèmes****Problème n°48**

Une ampoule classique consomme 100 W et une ampoule LED consomme 20 W.  
Si Emma utilise une ampoule LED à la place d'une ampoule classique pendant 5 jours,  
quelle économie d'électricité réalise-t-elle ?

 120 W 500 W 100 W 400 W**Résolution de problèmes****Problème n°48**

Une ampoule classique consomme 100 W et une ampoule LED consomme 20 W.  
Si Emma utilise une ampoule LED à la place d'une ampoule classique pendant 5 jours,  
quelle économie d'électricité réalise-t-elle ?

 120 W 500 W 100 W 400 W**Résolution de problèmes****Problème n°48**

Une ampoule classique consomme 100 W et une ampoule LED consomme 20 W.  
Si Emma utilise une ampoule LED à la place d'une ampoule classique pendant 5 jours,  
quelle économie d'électricité réalise-t-elle ?

 120 W 500 W 100 W 400 W**Résolution de problèmes****Problème n°48**

Une ampoule classique consomme 100 W et une ampoule LED consomme 20 W.  
Si Emma utilise une ampoule LED à la place d'une ampoule classique pendant 5 jours,  
quelle économie d'électricité réalise-t-elle ?

 120 W 500 W 100 W 400 W**Résolution de problèmes****Problème n°48**

Une ampoule classique consomme 100 W et une ampoule LED consomme 20 W.  
Si Emma utilise une ampoule LED à la place d'une ampoule classique pendant 5 jours,  
quelle économie d'électricité réalise-t-elle ?

 120 W 500 W 100 W 400 W**Résolution de problèmes****Problème n°48**

Une ampoule classique consomme 100 W et une ampoule LED consomme 20 W.  
Si Emma utilise une ampoule LED à la place d'une ampoule classique pendant 5 jours,  
quelle économie d'électricité réalise-t-elle ?

 120 W 500 W 100 W 400 W

**Résolution de problèmes****Problème n°49**

Un bus consomme 30 L d'essence pour 100 km et une voiture 10 L pour 100 km.  
Si Lucas fait 200 km en voiture au lieu de prendre le bus, quelle différence de consommation y aura-t-il ?

Comprendre	Entourer	Réfléchir	Vérifier	Ecrire	Attention à l'unité

**Résolution de problèmes****Problème n°49**

Un bus consomme 30 L d'essence pour 100 km et une voiture 10 L pour 100 km.  
Si Lucas fait 200 km en voiture au lieu de prendre le bus, quelle différence de consommation y aura-t-il ?

Comprendre	Entourer	Réfléchir	Vérifier	Ecrire	Attention à l'unité

**Résolution de problèmes****Problème n°49**

Un bus consomme 30 L d'essence pour 100 km et une voiture 10 L pour 100 km.  
Si Lucas fait 200 km en voiture au lieu de prendre le bus, quelle différence de consommation y aura-t-il ?

Comprendre	Entourer	Réfléchir	Vérifier	Ecrire	Attention à l'unité

**Résolution de problèmes****Problème n°49**

Un bus consomme 30 L d'essence pour 100 km et une voiture 10 L pour 100 km.  
Si Lucas fait 200 km en voiture au lieu de prendre le bus, quelle différence de consommation y aura-t-il ?

Comprendre	Entourer	Réfléchir	Vérifier	Ecrire	Attention à l'unité

**Résolution de problèmes****Problème n°49**

Un bus consomme 30 L d'essence pour 100 km et une voiture 10 L pour 100 km.  
Si Lucas fait 200 km en voiture au lieu de prendre le bus, quelle différence de consommation y aura-t-il ?

Comprendre	Entourer	Réfléchir	Vérifier	Ecrire	Attention à l'unité

**Résolution de problèmes****Problème n°49**

Un bus consomme 30 L d'essence pour 100 km et une voiture 10 L pour 100 km.  
Si Lucas fait 200 km en voiture au lieu de prendre le bus, quelle différence de consommation y aura-t-il ?

 60 L 20 L 40 L 50 L**Résolution de problèmes****Problème n°49**

Un bus consomme 30 L d'essence pour 100 km et une voiture 10 L pour 100 km.  
Si Lucas fait 200 km en voiture au lieu de prendre le bus, quelle différence de consommation y aura-t-il ?

 60 L 20 L 40 L 50 L**Résolution de problèmes****Problème n°49**

Un bus consomme 30 L d'essence pour 100 km et une voiture 10 L pour 100 km.  
Si Lucas fait 200 km en voiture au lieu de prendre le bus, quelle différence de consommation y aura-t-il ?

 60 L 20 L 40 L 50 L**Résolution de problèmes****Problème n°49**

Un bus consomme 30 L d'essence pour 100 km et une voiture 10 L pour 100 km.  
Si Lucas fait 200 km en voiture au lieu de prendre le bus, quelle différence de consommation y aura-t-il ?

 60 L 20 L 40 L 50 L**Résolution de problèmes****Problème n°49**

Un bus consomme 30 L d'essence pour 100 km et une voiture 10 L pour 100 km.  
Si Lucas fait 200 km en voiture au lieu de prendre le bus, quelle différence de consommation y aura-t-il ?

 60 L 20 L 40 L 50 L**Résolution de problèmes****Problème n°49**

Un bus consomme 30 L d'essence pour 100 km et une voiture 10 L pour 100 km.  
Si Lucas fait 200 km en voiture au lieu de prendre le bus, quelle différence de consommation y aura-t-il ?

 60 L 20 L 40 L 50 L

**Résolution de problèmes****Problème n°50**

Un trajet en voiture émet 12 kg de CO<sub>2</sub> et le même trajet en train émet 3 kg de CO<sub>2</sub>.  
Si Karim fait ce trajet 4 fois en train au lieu d'utiliser la voiture, quelle différence de CO<sub>2</sub>  
cale fait-il ?

Comprendre	Entourer	Réfléchir	Vérifier	Ecrire	Attention à l'unité

**Résolution de problèmes****Problème n°50**

Un trajet en voiture émet 12 kg de CO<sub>2</sub> et le même trajet en train émet 3 kg de CO<sub>2</sub>.  
Si Karim fait ce trajet 4 fois en train au lieu d'utiliser la voiture, quelle différence de CO<sub>2</sub>  
cale fait-il ?

Comprendre	Entourer	Réfléchir	Vérifier	Ecrire	Attention à l'unité

**Résolution de problèmes****Problème n°50**

Un trajet en voiture émet 12 kg de CO<sub>2</sub> et le même trajet en train émet 3 kg de CO<sub>2</sub>.  
Si Karim fait ce trajet 4 fois en train au lieu d'utiliser la voiture, quelle différence de CO<sub>2</sub>  
cale fait-il ?

Comprendre	Entourer	Réfléchir	Vérifier	Ecrire	Attention à l'unité

**Résolution de problèmes****Problème n°50**

Un trajet en voiture émet 12 kg de CO<sub>2</sub> et le même trajet en train émet 3 kg de CO<sub>2</sub>.  
Si Karim fait ce trajet 4 fois en train au lieu d'utiliser la voiture, quelle différence de CO<sub>2</sub>  
cale fait-il ?

Comprendre	Entourer	Réfléchir	Vérifier	Ecrire	Attention à l'unité

**Résolution de problèmes****Problème n°50**

Un trajet en voiture émet 12 kg de CO<sub>2</sub> et le même trajet en train émet 3 kg de CO<sub>2</sub>.  
Si Karim fait ce trajet 4 fois en train au lieu d'utiliser la voiture, quelle différence de CO<sub>2</sub>  
cale fait-il ?

Comprendre	Entourer	Réfléchir	Vérifier	Ecrire	Attention à l'unité

**Résolution de problèmes****Problème n°50**

Un trajet en voiture émet 12 kg de CO<sub>2</sub> et le même trajet en train émet 3 kg de CO<sub>2</sub>.  
Si Karim fait ce trajet 4 fois en train au lieu d'utiliser la voiture, quelle différence de CO<sub>2</sub> cale fait-il ?

 20 36 12 48**Résolution de problèmes****Problème n°50**

Un trajet en voiture émet 12 kg de CO<sub>2</sub> et le même trajet en train émet 3 kg de CO<sub>2</sub>.  
Si Karim fait ce trajet 4 fois en train au lieu d'utiliser la voiture, quelle différence de CO<sub>2</sub> cale fait-il ?

 20 36 12 48**Résolution de problèmes****Problème n°50**

Un trajet en voiture émet 12 kg de CO<sub>2</sub> et le même trajet en train émet 3 kg de CO<sub>2</sub>.  
Si Karim fait ce trajet 4 fois en train au lieu d'utiliser la voiture, quelle différence de CO<sub>2</sub> cale fait-il ?

 20 36 12 48**Résolution de problèmes****Problème n°50**

Un trajet en voiture émet 12 kg de CO<sub>2</sub> et le même trajet en train émet 3 kg de CO<sub>2</sub>.  
Si Karim fait ce trajet 4 fois en train au lieu d'utiliser la voiture, quelle différence de CO<sub>2</sub> cale fait-il ?

 20 36 12 48**Résolution de problèmes****Problème n°50**

Un trajet en voiture émet 12 kg de CO<sub>2</sub> et le même trajet en train émet 3 kg de CO<sub>2</sub>.  
Si Karim fait ce trajet 4 fois en train au lieu d'utiliser la voiture, quelle différence de CO<sub>2</sub> cale fait-il ?

 20 36 12 48**Résolution de problèmes****Problème n°50**

Un trajet en voiture émet 12 kg de CO<sub>2</sub> et le même trajet en train émet 3 kg de CO<sub>2</sub>.  
Si Karim fait ce trajet 4 fois en train au lieu d'utiliser la voiture, quelle différence de CO<sub>2</sub> cale fait-il ?

 20 36 12 48

**Résolution de problèmes****Problème n°51**

Une chasse d'eau ancienne utilise 12 L d'eau et une chasse d'eau économique utilise 4 L. Si Hugo tire la chasse 5 fois par jour avec le modèle économique, combien de litres d'eau économise-t-il ?

Comprendre	Entourer	Réfléchir	Vérifier	Ecrire	Attention à l'unité

**Résolution de problèmes****Problème n°51**

Une chasse d'eau ancienne utilise 12 L d'eau et une chasse d'eau économique utilise 4 L. Si Hugo tire la chasse 5 fois par jour avec le modèle économique, combien de litres d'eau économise-t-il ?

Comprendre	Entourer	Réfléchir	Vérifier	Ecrire	Attention à l'unité

**Résolution de problèmes****Problème n°51**

Une chasse d'eau ancienne utilise 12 L d'eau et une chasse d'eau économique utilise 4 L. Si Hugo tire la chasse 5 fois par jour avec le modèle économique, combien de litres d'eau économise-t-il ?

Comprendre	Entourer	Réfléchir	Vérifier	Ecrire	Attention à l'unité

**Résolution de problèmes****Problème n°51**

Une chasse d'eau ancienne utilise 12 L d'eau et une chasse d'eau économique utilise 4 L. Si Hugo tire la chasse 5 fois par jour avec le modèle économique, combien de litres d'eau économise-t-il ?

Comprendre	Entourer	Réfléchir	Vérifier	Ecrire	Attention à l'unité

**Résolution de problèmes****Problème n°51**

Une chasse d'eau ancienne utilise 12 L d'eau et une chasse d'eau économique utilise 4 L. Si Hugo tire la chasse 5 fois par jour avec le modèle économique, combien de litres d'eau économise-t-il ?

Comprendre	Entourer	Réfléchir	Vérifier	Ecrire	Attention à l'unité

**Résolution de problèmes****Problème n°51**

Une chasse d'eau ancienne utilise 12 L d'eau et une chasse d'eau économique utilise 4 L. Si Hugo tire la chasse 5 fois par jour avec le modèle économique, combien de litres d'eau économise-t-il ?

 40 L 60 L 50 L 20 L**Résolution de problèmes****Problème n°51**

Une chasse d'eau ancienne utilise 12 L d'eau et une chasse d'eau économique utilise 4 L. Si Hugo tire la chasse 5 fois par jour avec le modèle économique, combien de litres d'eau économise-t-il ?

 40 L 60 L 50 L 20 L**Résolution de problèmes****Problème n°51**

Une chasse d'eau ancienne utilise 12 L d'eau et une chasse d'eau économique utilise 4 L. Si Hugo tire la chasse 5 fois par jour avec le modèle économique, combien de litres d'eau économise-t-il ?

 40 L 60 L 50 L 20 L**Résolution de problèmes****Problème n°51**

Une chasse d'eau ancienne utilise 12 L d'eau et une chasse d'eau économique utilise 4 L. Si Hugo tire la chasse 5 fois par jour avec le modèle économique, combien de litres d'eau économise-t-il ?

 40 L 60 L 50 L 20 L**Résolution de problèmes****Problème n°51**

Une chasse d'eau ancienne utilise 12 L d'eau et une chasse d'eau économique utilise 4 L. Si Hugo tire la chasse 5 fois par jour avec le modèle économique, combien de litres d'eau économise-t-il ?

 40 L 60 L 50 L 20 L**Résolution de problèmes****Problème n°51**

Une chasse d'eau ancienne utilise 12 L d'eau et une chasse d'eau économique utilise 4 L. Si Hugo tire la chasse 5 fois par jour avec le modèle économique, combien de litres d'eau économise-t-il ?

 40 L 60 L 50 L 20 L

**Résolution de problèmes**

**Problème n°52**

« Sam le pirate » veut partager les 50 pièces d'or de son trésor. Il donne 7 pièces à chacun de ses compagnons. Il garde les 8 dernières pièces pour lui.  
Combien a-t-il de compagnons ?

Comprendre	Entourer	Réfléchir	Vérifier	Ecrire	Attention à l'unité

**Résolution de problèmes**

**Problème n°52**

« Sam le pirate » veut partager les 50 pièces d'or de son trésor. Il donne 7 pièces à chacun de ses compagnons. Il garde les 8 dernières pièces pour lui.  
Combien a-t-il de compagnons ?

Comprendre	Entourer	Réfléchir	Vérifier	Ecrire	Attention à l'unité

**Résolution de problèmes**

**Problème n°52**

« Sam le pirate » veut partager les 50 pièces d'or de son trésor. Il donne 7 pièces à chacun de ses compagnons. Il garde les 8 dernières pièces pour lui.  
Combien a-t-il de compagnons ?

Comprendre	Entourer	Réfléchir	Vérifier	Ecrire	Attention à l'unité

**Résolution de problèmes**

**Problème n°52**

« Sam le pirate » veut partager les 50 pièces d'or de son trésor. Il donne 7 pièces à chacun de ses compagnons. Il garde les 8 dernières pièces pour lui.  
Combien a-t-il de compagnons ?

Comprendre	Entourer	Réfléchir	Vérifier	Ecrire	Attention à l'unité

**Résolution de problèmes**

**Problème n°52**

« Sam le pirate » veut partager les 50 pièces d'or de son trésor. Il donne 7 pièces à chacun de ses compagnons. Il garde les 8 dernières pièces pour lui.  
Combien a-t-il de compagnons ?

Comprendre	Entourer	Réfléchir	Vérifier	Ecrire	Attention à l'unité

**Résolution de problèmes****Problème n°52**

« Sam le pirate » veut partager les 50 pièces d'or de son trésor. Il donne 7 pièces à chacun de ses compagnons. Il garde les 8 dernières pièces pour lui.  
Combien a-t-il de compagnons ?

 5 8 7 6**Résolution de problèmes****Problème n°52**

« Sam le pirate » veut partager les 50 pièces d'or de son trésor. Il donne 7 pièces à chacun de ses compagnons. Il garde les 8 dernières pièces pour lui.  
Combien a-t-il de compagnons ?

 5 8 7 6**Résolution de problèmes****Problème n°52**

« Sam le pirate » veut partager les 50 pièces d'or de son trésor. Il donne 7 pièces à chacun de ses compagnons. Il garde les 8 dernières pièces pour lui.  
Combien a-t-il de compagnons ?

 5 8 7 6**Résolution de problèmes****Problème n°52**

« Sam le pirate » veut partager les 50 pièces d'or de son trésor. Il donne 7 pièces à chacun de ses compagnons. Il garde les 8 dernières pièces pour lui.  
Combien a-t-il de compagnons ?

 5 8 7 6**Résolution de problèmes****Problème n°52**

« Sam le pirate » veut partager les 50 pièces d'or de son trésor. Il donne 7 pièces à chacun de ses compagnons. Il garde les 8 dernières pièces pour lui.  
Combien a-t-il de compagnons ?

 5 8 7 6**Résolution de problèmes****Problème n°52**

« Sam le pirate » veut partager les 50 pièces d'or de son trésor. Il donne 7 pièces à chacun de ses compagnons. Il garde les 8 dernières pièces pour lui.  
Combien a-t-il de compagnons ?

 5 8 7 6**Résolution de problèmes****Problème n°52**

« Sam le pirate » veut partager les 50 pièces d'or de son trésor. Il donne 7 pièces à chacun de ses compagnons. Il garde les 8 dernières pièces pour lui.  
Combien a-t-il de compagnons ?

 5 8 7 6

**Résolution de problèmes****Problème n°53**

Une maîtresse distribue 36 bonbons à ses élèves. Elle donne 4 bonbons à chaque élève et garde les 8 derniers pour la fête de l'école.  
Combien y a-t-il d'élèves ?

Comprendre	Entourer	Réfléchir	Vérifier	Ecrire	Attention à l'unité

**Résolution de problèmes****Problème n°53**

Une maîtresse distribue 36 bonbons à ses élèves. Elle donne 4 bonbons à chaque élève et garde les 8 derniers pour la fête de l'école.  
Combien y a-t-il d'élèves ?

Comprendre	Entourer	Réfléchir	Vérifier	Ecrire	Attention à l'unité

**Résolution de problèmes****Problème n°53**

Une maîtresse distribue 36 bonbons à ses élèves. Elle donne 4 bonbons à chaque élève et garde les 8 derniers pour la fête de l'école.  
Combien y a-t-il d'élèves ?

Comprendre	Entourer	Réfléchir	Vérifier	Ecrire	Attention à l'unité

**Résolution de problèmes****Problème n°53**

Une maîtresse distribue 36 bonbons à ses élèves. Elle donne 4 bonbons à chaque élève et garde les 8 derniers pour la fête de l'école.  
Combien y a-t-il d'élèves ?

Comprendre	Entourer	Réfléchir	Vérifier	Ecrire	Attention à l'unité

**Résolution de problèmes****Problème n°53**

Une maîtresse distribue 36 bonbons à ses élèves. Elle donne 4 bonbons à chaque élève et garde les 8 derniers pour la fête de l'école.  
Combien y a-t-il d'élèves ?

Comprendre	Entourer	Réfléchir	Vérifier	Ecrire	Attention à l'unité

**Résolution de problèmes****Problème n°53**

Une maîtresse distribue 36 bonbons à ses élèves. Elle donne 4 bonbons à chaque élève et garde les 8 derniers pour la fête de l'école.

Combien y a-t-il d'élèves ?

10 élèves    7 élèves    9 élèves    24 élèves

**Résolution de problèmes****Problème n°53**

Une maîtresse distribue 36 bonbons à ses élèves. Elle donne 4 bonbons à chaque élève et garde les 8 derniers pour la fête de l'école.

Combien y a-t-il d'élèves ?

10 élèves    7 élèves    9 élèves    24 élèves

**Résolution de problèmes****Problème n°53**

Une maîtresse distribue 36 bonbons à ses élèves. Elle donne 4 bonbons à chaque élève et garde les 8 derniers pour la fête de l'école.

Combien y a-t-il d'élèves ?

10 élèves    7 élèves    9 élèves    24 élèves

**Résolution de problèmes****Problème n°53**

Une maîtresse distribue 36 bonbons à ses élèves. Elle donne 4 bonbons à chaque élève et garde les 8 derniers pour la fête de l'école.

Combien y a-t-il d'élèves ?

10 élèves    7 élèves    9 élèves    24 élèves

**Résolution de problèmes****Problème n°53**

Une maîtresse distribue 36 bonbons à ses élèves. Elle donne 4 bonbons à chaque élève et garde les 8 derniers pour la fête de l'école.

Combien y a-t-il d'élèves ?

10 élèves    7 élèves    9 élèves    24 élèves

**Résolution de problèmes****Problème n°53**

Une maîtresse distribue 36 bonbons à ses élèves. Elle donne 4 bonbons à chaque élève et garde les 8 derniers pour la fête de l'école.

Combien y a-t-il d'élèves ?

10 élèves    7 élèves    9 élèves    24 élèves

**Résolution de problèmes****Problème n°54**

Un jardinier plante 55 fleurs dans des pots. Il met 5 fleurs dans chaque pot et garde les 10 dernières fleurs pour son jardin. Combien de pots a-t-il remplis ?

Comprendre	Entourer	Réfléchir	Vérifier	Ecrire	Attention à l'unité

**Résolution de problèmes****Problème n°54**

Un jardinier plante 55 fleurs dans des pots. Il met 5 fleurs dans chaque pot et garde les 10 dernières fleurs pour son jardin. Combien de pots a-t-il remplis ?

Comprendre	Entourer	Réfléchir	Vérifier	Ecrire	Attention à l'unité

**Résolution de problèmes****Problème n°54**

Un jardinier plante 55 fleurs dans des pots. Il met 5 fleurs dans chaque pot et garde les 10 dernières fleurs pour son jardin. Combien de pots a-t-il remplis ?

Comprendre	Entourer	Réfléchir	Vérifier	Ecrire	Attention à l'unité

**Résolution de problèmes****Problème n°54**

Un jardinier plante 55 fleurs dans des pots. Il met 5 fleurs dans chaque pot et garde les 10 dernières fleurs pour son jardin. Combien de pots a-t-il remplis ?

Comprendre	Entourer	Réfléchir	Vérifier	Ecrire	Attention à l'unité

**Résolution de problèmes****Problème n°54**

Un jardinier plante 55 fleurs dans des pots. Il met 5 fleurs dans chaque pot et garde les 10 dernières fleurs pour son jardin. Combien de pots a-t-il remplis ?

Comprendre	Entourer	Réfléchir	Vérifier	Ecrire	Attention à l'unité

**Résolution de problèmes****Problème n°54**

Un jardinier plante 55 fleurs dans des pots. Il met 5 fleurs dans chaque pot et garde les 10 dernières fleurs pour son jardin. Combien de pots a-t-il remplis ?

Comprendre	Entourer	Réfléchir	Vérifier	Ecrire	Attention à l'unité

**Résolution de problèmes****Problème n°54**

Un jardinier plante 55 fleurs dans des pots. Il met 5 fleurs dans chaque pot et garde les 10 dernières fleurs pour son jardin. Combien de pots a-t-il remplis ?

- 12 pots    9 pots    11 pots    10 pots

**Résolution de problèmes****Problème n°54**

Un jardinier plante 55 fleurs dans des pots. Il met 5 fleurs dans chaque pot et garde les 10 dernières fleurs pour son jardin. Combien de pots a-t-il remplis ?

- 12 pots    9 pots    11 pots    10 pots

**Résolution de problèmes****Problème n°54**

Un jardinier plante 55 fleurs dans des pots. Il met 5 fleurs dans chaque pot et garde les 10 dernières fleurs pour son jardin. Combien de pots a-t-il remplis ?

- 12 pots    9 pots    11 pots    10 pots

**Résolution de problèmes****Problème n°54**

Un jardinier plante 55 fleurs dans des pots. Il met 5 fleurs dans chaque pot et garde les 10 dernières fleurs pour son jardin. Combien de pots a-t-il remplis ?

- 12 pots    9 pots    11 pots    10 pots

**Résolution de problèmes****Problème n°54**

Un jardinier plante 55 fleurs dans des pots. Il met 5 fleurs dans chaque pot et garde les 10 dernières fleurs pour son jardin. Combien de pots a-t-il remplis ?

- 12 pots    9 pots    11 pots    10 pots

**Résolution de problèmes****Problème n°54**

Un jardinier plante 55 fleurs dans des pots. Il met 5 fleurs dans chaque pot et garde les 10 dernières fleurs pour son jardin. Combien de pots a-t-il remplis ?

- 12 pots    9 pots    11 pots    10 pots

**Résolution de problèmes****Problème n°54**

Un jardinier plante 55 fleurs dans des pots. Il met 5 fleurs dans chaque pot et garde les 10 dernières fleurs pour son jardin. Combien de pots a-t-il remplis ?

- 12 pots    9 pots    11 pots    10 pots

**Résolution de problèmes****Problème n°55**

Une bibliothécaire range 72 livres sur des étagères. Elle place 8 livres par étagère et garde les 16 derniers pour une exposition. Combien d'étagères a-t-elle remplies ?

Comprendre	Entourer	Réfléchir	Vérifier	Ecrire	Attention à l'unité

**Résolution de problèmes****Problème n°55**

Une bibliothécaire range 72 livres sur des étagères. Elle place 8 livres par étagère et garde les 16 derniers pour une exposition. Combien d'étagères a-t-elle remplies ?

Comprendre	Entourer	Réfléchir	Vérifier	Ecrire	Attention à l'unité

**Résolution de problèmes****Problème n°55**

Une bibliothécaire range 72 livres sur des étagères. Elle place 8 livres par étagère et garde les 16 derniers pour une exposition. Combien d'étagères a-t-elle remplies ?

Comprendre	Entourer	Réfléchir	Vérifier	Ecrire	Attention à l'unité

**Résolution de problèmes****Problème n°55**

Une bibliothécaire range 72 livres sur des étagères. Elle place 8 livres par étagère et garde les 16 derniers pour une exposition. Combien d'étagères a-t-elle remplies ?

Comprendre	Entourer	Réfléchir	Vérifier	Ecrire	Attention à l'unité

**Résolution de problèmes****Problème n°55**

Une bibliothécaire range 72 livres sur des étagères. Elle place 8 livres par étagère et garde les 16 derniers pour une exposition. Combien d'étagères a-t-elle remplies ?

Comprendre	Entourer	Réfléchir	Vérifier	Ecrire	Attention à l'unité

**Résolution de problèmes****Problème n°55**

Une bibliothécaire range 72 livres sur des étagères. Elle place 8 livres par étagère et garde les 16 derniers pour une exposition. Combien d'étagères a-t-elle remplies ?

Comprendre	Entourer	Réfléchir	Vérifier	Ecrire	Attention à l'unité

**Résolution de problèmes****Problème n°55**

Une bibliothécaire range 72 livres sur des étagères. Elle place 8 livres par étagère et garde les 16 derniers pour une exposition. Combien d'étagères a-t-elle remplies ?

7 étagères  9 étagères  8 étagères  6 étagères

**Résolution de problèmes****Problème n°55**

Une bibliothécaire range 72 livres sur des étagères. Elle place 8 livres par étagère et garde les 16 derniers pour une exposition. Combien d'étagères a-t-elle remplies ?

7 étagères  9 étagères  8 étagères  6 étagères

**Résolution de problèmes****Problème n°55**

Une bibliothécaire range 72 livres sur des étagères. Elle place 8 livres par étagère et garde les 16 derniers pour une exposition. Combien d'étagères a-t-elle remplies ?

7 étagères  9 étagères  8 étagères  6 étagères

**Résolution de problèmes****Problème n°55**

Une bibliothécaire range 72 livres sur des étagères. Elle place 8 livres par étagère et garde les 16 derniers pour une exposition. Combien d'étagères a-t-elle remplies ?

7 étagères  9 étagères  8 étagères  6 étagères

**Résolution de problèmes****Problème n°55**

Une bibliothécaire range 72 livres sur des étagères. Elle place 8 livres par étagère et garde les 16 derniers pour une exposition. Combien d'étagères a-t-elle remplies ?

7 étagères  9 étagères  8 étagères  6 étagères

**Résolution de problèmes****Problème n°55**

Une bibliothécaire range 72 livres sur des étagères. Elle place 8 livres par étagère et garde les 16 derniers pour une exposition. Combien d'étagères a-t-elle remplies ?

7 étagères  9 étagères  8 étagères  6 étagères

**Résolution de problèmes****Problème n°55**

Une bibliothécaire range 72 livres sur des étagères. Elle place 8 livres par étagère et garde les 16 derniers pour une exposition. Combien d'étagères a-t-elle remplies ?

7 étagères  9 étagères  8 étagères  6 étagères

**Résolution de problèmes****Problème n°56**

Un entraîneur possède 68 ballons. Il donne 5 ballons à chaque équipe et garde les 3 derniers pour les remplaçants. Combien d'équipes y a-t-il ?

Comprendre	Entourer	Réfléchir	Vérifier	Ecrire	Attention à l'unité

**Résolution de problèmes****Problème n°56**

Un entraîneur possède 68 ballons. Il donne 5 ballons à chaque équipe et garde les 3 derniers pour les remplaçants. Combien d'équipes y a-t-il ?

Comprendre	Entourer	Réfléchir	Vérifier	Ecrire	Attention à l'unité

**Résolution de problèmes****Problème n°56**

Un entraîneur possède 68 ballons. Il donne 5 ballons à chaque équipe et garde les 3 derniers pour les remplaçants. Combien d'équipes y a-t-il ?

Comprendre	Entourer	Réfléchir	Vérifier	Ecrire	Attention à l'unité

**Résolution de problèmes****Problème n°56**

Un entraîneur possède 68 ballons. Il donne 5 ballons à chaque équipe et garde les 3 derniers pour les remplaçants. Combien d'équipes y a-t-il ?

Comprendre	Entourer	Réfléchir	Vérifier	Ecrire	Attention à l'unité

**Résolution de problèmes****Problème n°56**

Un entraîneur possède 68 ballons. Il donne 5 ballons à chaque équipe et garde les 3 derniers pour les remplaçants. Combien d'équipes y a-t-il ?

Comprendre	Entourer	Réfléchir	Vérifier	Ecrire	Attention à l'unité

**Résolution de problèmes****Problème n°56**

Un entraîneur possède 68 ballons. Il donne 5 ballons à chaque équipe et garde les 3 derniers pour les remplaçants. Combien d'équipes y a-t-il ?

Comprendre	Entourer	Réfléchir	Vérifier	Ecrire	Attention à l'unité

**Résolution de problèmes****Problème n°56**

Un entraîneur possède 68 ballons. Il donne 5 ballons à chaque équipe et garde les 3 derniers pour les remplaçants. Combien d'équipes y a-t-il ?

14 équipes  12 équipes  15 équipes  13 équipes

**Résolution de problèmes****Problème n°56**

Un entraîneur possède 68 ballons. Il donne 5 ballons à chaque équipe et garde les 3 derniers pour les remplaçants. Combien d'équipes y a-t-il ?

14 équipes  12 équipes  15 équipes  13 équipes

**Résolution de problèmes****Problème n°56**

Un entraîneur possède 68 ballons. Il donne 5 ballons à chaque équipe et garde les 3 derniers pour les remplaçants. Combien d'équipes y a-t-il ?

14 équipes  12 équipes  15 équipes  13 équipes

**Résolution de problèmes****Problème n°56**

Un entraîneur possède 68 ballons. Il donne 5 ballons à chaque équipe et garde les 3 derniers pour les remplaçants. Combien d'équipes y a-t-il ?

14 équipes  12 équipes  15 équipes  13 équipes

**Résolution de problèmes****Problème n°56**

Un entraîneur possède 68 ballons. Il donne 5 ballons à chaque équipe et garde les 3 derniers pour les remplaçants. Combien d'équipes y a-t-il ?

14 équipes  12 équipes  15 équipes  13 équipes

**Résolution de problèmes****Problème n°56**

Un entraîneur possède 68 ballons. Il donne 5 ballons à chaque équipe et garde les 3 derniers pour les remplaçants. Combien d'équipes y a-t-il ?

14 équipes  12 équipes  15 équipes  13 équipes

**Résolution de problèmes****Problème n°56**

Un entraîneur possède 68 ballons. Il donne 5 ballons à chaque équipe et garde les 3 derniers pour les remplaçants. Combien d'équipes y a-t-il ?

14 équipes  12 équipes  15 équipes  13 équipes

## Périmètre

**Résolution de problèmes****Problème n°57**

Un rectangle a un périmètre de 500 m. Sa longueur mesure 150 m.  
Combien mesure sa largeur ?

Comprendre	Entourer	Réfléchir	Vérifier	Ecrire	Attention à l'unité

**Résolution de problèmes****Problème n°57**

Un rectangle a un périmètre de 500 m. Sa longueur mesure 150 m.  
Combien mesure sa largeur ?

Comprendre	Entourer	Réfléchir	Vérifier	Ecrire	Attention à l'unité

**Résolution de problèmes****Problème n°57**

Un rectangle a un périmètre de 500 m. Sa longueur mesure 150 m.  
Combien mesure sa largeur ?

Comprendre	Entourer	Réfléchir	Vérifier	Ecrire	Attention à l'unité

**Résolution de problèmes****Problème n°57**

Un rectangle a un périmètre de 500 m. Sa longueur mesure 150 m.  
Combien mesure sa largeur ?

Comprendre	Entourer	Réfléchir	Vérifier	Ecrire	Attention à l'unité

**Résolution de problèmes****Problème n°57**

Un rectangle a un périmètre de 500 m. Sa longueur mesure 150 m.  
Combien mesure sa largeur ?

Comprendre	Entourer	Réfléchir	Vérifier	Ecrire	Attention à l'unité

**Résolution de problèmes****Problème n°57**

Un rectangle a un périmètre de 500 m. Sa longueur mesure 150 m.  
Combien mesure sa largeur ?

Comprendre	Entourer	Réfléchir	Vérifier	Ecrire	Attention à l'unité

**Résolution de problèmes****Problème n°57**

Un rectangle a un périmètre de 500 m. Sa longueur mesure 150 m.  
Combien mesure sa largeur ?

100 m     350 m     200 m     125 m

**Résolution de problèmes****Problème n°57**

Un rectangle a un périmètre de 500 m. Sa longueur mesure 150 m.  
Combien mesure sa largeur ?

100 m     350 m     200 m     125 m

**Résolution de problèmes****Problème n°57**

Un rectangle a un périmètre de 500 m. Sa longueur mesure 150 m.  
Combien mesure sa largeur ?

100 m     350 m     200 m     125 m

**Résolution de problèmes****Problème n°57**

Un rectangle a un périmètre de 500 m. Sa longueur mesure 150 m.  
Combien mesure sa largeur ?

100 m     350 m     200 m     125 m

**Résolution de problèmes****Problème n°57**

Un rectangle a un périmètre de 500 m. Sa longueur mesure 150 m.  
Combien mesure sa largeur ?

100 m     350 m     200 m     125 m

**Résolution de problèmes****Problème n°57**

Un rectangle a un périmètre de 500 m. Sa longueur mesure 150 m.  
Combien mesure sa largeur ?

100 m     350 m     200 m     125 m

**Résolution de problèmes****Problème n°57**

Un rectangle a un périmètre de 500 m. Sa longueur mesure 150 m.  
Combien mesure sa largeur ?

100 m     350 m     200 m     125 m

**Résolution de problèmes****Problème n°57**

Un rectangle a un périmètre de 500 m. Sa longueur mesure 150 m.  
Combien mesure sa largeur ?

100 m     350 m     200 m     125 m

**Résolution de problèmes****Problème n°58**

Un terrain de football rectangulaire a un périmètre de 300 m. Sa longueur mesure 90 m.  
Combien mesure sa largeur ?

Comprendre	Entourer	Réfléchir	Vérifier	Ecrire	Attention à l'unité

**Résolution de problèmes****Problème n°58**

Un terrain de football rectangulaire a un périmètre de 300 m. Sa longueur mesure 90 m.  
Combien mesure sa largeur ?

Comprendre	Entourer	Réfléchir	Vérifier	Ecrire	Attention à l'unité

**Résolution de problèmes****Problème n°58**

Un terrain de football rectangulaire a un périmètre de 300 m. Sa longueur mesure 90 m.  
Combien mesure sa largeur ?

Comprendre	Entourer	Réfléchir	Vérifier	Ecrire	Attention à l'unité

**Résolution de problèmes****Problème n°58**

Un terrain de football rectangulaire a un périmètre de 300 m. Sa longueur mesure 90 m.  
Combien mesure sa largeur ?

Comprendre	Entourer	Réfléchir	Vérifier	Ecrire	Attention à l'unité

**Résolution de problèmes****Problème n°58**

Un terrain de football rectangulaire a un périmètre de 300 m. Sa longueur mesure 90 m.  
Combien mesure sa largeur ?

Comprendre	Entourer	Réfléchir	Vérifier	Ecrire	Attention à l'unité

**Résolution de problèmes****Problème n°58**

Un terrain de football rectangulaire a un périmètre de 300 m. Sa longueur mesure 90 m.  
Combien mesure sa largeur ?

Comprendre	Entourer	Réfléchir	Vérifier	Ecrire	Attention à l'unité

**Résolution de problèmes****Problème n°58**

Un terrain de football rectangulaire a un périmètre de 300 m. Sa longueur mesure 90 m.  
Combien mesure sa largeur ?

 105 m 60 m 120 m 210 m**Résolution de problèmes****Problème n°58**

Un terrain de football rectangulaire a un périmètre de 300 m. Sa longueur mesure 90 m.  
Combien mesure sa largeur ?

 105 m 60 m 120 m 210 m**Résolution de problèmes****Problème n°58**

Un terrain de football rectangulaire a un périmètre de 300 m. Sa longueur mesure 90 m.  
Combien mesure sa largeur ?

 105 m 60 m 120 m 210 m**Résolution de problèmes****Problème n°58**

Un terrain de football rectangulaire a un périmètre de 300 m. Sa longueur mesure 90 m.  
Combien mesure sa largeur ?

 105 m 60 m 120 m 210 m**Résolution de problèmes****Problème n°58**

Un terrain de football rectangulaire a un périmètre de 300 m. Sa longueur mesure 90 m.  
Combien mesure sa largeur ?

 105 m 60 m 120 m 210 m**Résolution de problèmes****Problème n°58**

Un terrain de football rectangulaire a un périmètre de 300 m. Sa longueur mesure 90 m.  
Combien mesure sa largeur ?

 105 m 60 m 120 m 210 m

**Résolution de problèmes****Problème n°59**

Un jardin rectangulaire a un périmètre de 180 m. Sa longueur mesure 50 m.  
Combien mesure sa largeur ?

Comprendre	Entourer	Réfléchir	Vérifier	Ecrire	Attention à l'unité

**Résolution de problèmes****Problème n°59**

Un jardin rectangulaire a un périmètre de 180 m. Sa longueur mesure 50 m.  
Combien mesure sa largeur ?

Comprendre	Entourer	Réfléchir	Vérifier	Ecrire	Attention à l'unité

**Résolution de problèmes****Problème n°59**

Un jardin rectangulaire a un périmètre de 180 m. Sa longueur mesure 50 m.  
Combien mesure sa largeur ?

Comprendre	Entourer	Réfléchir	Vérifier	Ecrire	Attention à l'unité

**Résolution de problèmes****Problème n°59**

Un jardin rectangulaire a un périmètre de 180 m. Sa longueur mesure 50 m.  
Combien mesure sa largeur ?

Comprendre	Entourer	Réfléchir	Vérifier	Ecrire	Attention à l'unité

**Résolution de problèmes****Problème n°59**

Un jardin rectangulaire a un périmètre de 180 m. Sa longueur mesure 50 m.  
Combien mesure sa largeur ?

Comprendre	Entourer	Réfléchir	Vérifier	Ecrire	Attention à l'unité

**Résolution de problèmes****Problème n°59**

Un jardin rectangulaire a un périmètre de 180 m. Sa longueur mesure 50 m.  
Combien mesure sa largeur ?

Comprendre	Entourer	Réfléchir	Vérifier	Ecrire	Attention à l'unité

**Résolution de problèmes****Problème n°59**

Un jardin rectangulaire a un périmètre de 180 m. Sa longueur mesure 50 m.  
Combien mesure sa largeur ?

 40 m 80 m 30 m 130 m**Résolution de problèmes****Problème n°59**

Un jardin rectangulaire a un périmètre de 180 m. Sa longueur mesure 50 m.  
Combien mesure sa largeur ?

 40 m 80 m 30 m 130 m**Résolution de problèmes****Problème n°59**

Un jardin rectangulaire a un périmètre de 180 m. Sa longueur mesure 50 m.  
Combien mesure sa largeur ?

 40 m 80 m 30 m 130 m**Résolution de problèmes****Problème n°59**

Un jardin rectangulaire a un périmètre de 180 m. Sa longueur mesure 50 m.  
Combien mesure sa largeur ?

 40 m 80 m 30 m 130 m**Résolution de problèmes****Problème n°59**

Un jardin rectangulaire a un périmètre de 180 m. Sa longueur mesure 50 m.  
Combien mesure sa largeur ?

 40 m 80 m 30 m 130 m**Résolution de problèmes****Problème n°59**

Un jardin rectangulaire a un périmètre de 180 m. Sa longueur mesure 50 m.  
Combien mesure sa largeur ?

 40 m 80 m 30 m 130 m**Résolution de problèmes****Problème n°59**

Un jardin rectangulaire a un périmètre de 180 m. Sa longueur mesure 50 m.  
Combien mesure sa largeur ?

 40 m 80 m 30 m 130 m

**Résolution de problèmes****Problème n°60**

Un champ rectangulaire a un périmètre de 1 000 m. Sa longueur mesure 320 m.  
Combien mesure sa largeur ?

Comprendre	Entourer	Réfléchir	Vérifier	Ecrire	Attention à l'unité

**Résolution de problèmes****Problème n°60**

Un champ rectangulaire a un périmètre de 1 000 m. Sa longueur mesure 320 m.  
Combien mesure sa largeur ?

Comprendre	Entourer	Réfléchir	Vérifier	Ecrire	Attention à l'unité

**Résolution de problèmes****Problème n°60**

Un champ rectangulaire a un périmètre de 1 000 m. Sa longueur mesure 320 m.  
Combien mesure sa largeur ?

Comprendre	Entourer	Réfléchir	Vérifier	Ecrire	Attention à l'unité

**Résolution de problèmes****Problème n°60**

Un champ rectangulaire a un périmètre de 1 000 m. Sa longueur mesure 320 m.  
Combien mesure sa largeur ?

Comprendre	Entourer	Réfléchir	Vérifier	Ecrire	Attention à l'unité

**Résolution de problèmes****Problème n°60**

Un champ rectangulaire a un périmètre de 1 000 m. Sa longueur mesure 320 m.  
Combien mesure sa largeur ?

Comprendre	Entourer	Réfléchir	Vérifier	Ecrire	Attention à l'unité

**Résolution de problèmes****Problème n°60**

Un champ rectangulaire a un périmètre de 1 000 m. Sa longueur mesure 320 m.  
Combien mesure sa largeur ?

Comprendre	Entourer	Réfléchir	Vérifier	Ecrire	Attention à l'unité

**Résolution de problèmes****Problème n°60**

Un champ rectangulaire a un périmètre de 1 000 m. Sa longueur mesure 320 m.  
Combien mesure sa largeur ?

 340 m 180 m 680 m 160 m**Résolution de problèmes****Problème n°60**

Un champ rectangulaire a un périmètre de 1 000 m. Sa longueur mesure 320 m.  
Combien mesure sa largeur ?

 340 m 180 m 680 m 160 m**Résolution de problèmes****Problème n°60**

Un champ rectangulaire a un périmètre de 1 000 m. Sa longueur mesure 320 m.  
Combien mesure sa largeur ?

 340 m 180 m 680 m 160 m**Résolution de problèmes****Problème n°60**

Un champ rectangulaire a un périmètre de 1 000 m. Sa longueur mesure 320 m.  
Combien mesure sa largeur ?

 340 m 180 m 680 m 160 m**Résolution de problèmes****Problème n°60**

Un champ rectangulaire a un périmètre de 1 000 m. Sa longueur mesure 320 m.  
Combien mesure sa largeur ?

 340 m 180 m 680 m 160 m**Résolution de problèmes****Problème n°60**

Un champ rectangulaire a un périmètre de 1 000 m. Sa longueur mesure 320 m.  
Combien mesure sa largeur ?

 340 m 180 m 680 m 160 m**Résolution de problèmes****Problème n°60**

Un champ rectangulaire a un périmètre de 1 000 m. Sa longueur mesure 320 m.  
Combien mesure sa largeur ?

 340 m 180 m 680 m 160 m

**Résolution de problèmes****Problème n°61**

Un cadre photo rectangulaire a un périmètre de 90 cm. Sa longueur mesure 30 cm.  
Combien mesure sa largeur ?

Comprendre	Entourer	Réfléchir	Vérifier	Ecrire	Attention à l'unité

**Résolution de problèmes****Problème n°61**

Un cadre photo rectangulaire a un périmètre de 90 cm. Sa longueur mesure 30 cm.  
Combien mesure sa largeur ?

Comprendre	Entourer	Réfléchir	Vérifier	Ecrire	Attention à l'unité

**Résolution de problèmes****Problème n°61**

Un cadre photo rectangulaire a un périmètre de 90 cm. Sa longueur mesure 30 cm.  
Combien mesure sa largeur ?

Comprendre	Entourer	Réfléchir	Vérifier	Ecrire	Attention à l'unité

**Résolution de problèmes****Problème n°61**

Un cadre photo rectangulaire a un périmètre de 90 cm. Sa longueur mesure 30 cm.  
Combien mesure sa largeur ?

Comprendre	Entourer	Réfléchir	Vérifier	Ecrire	Attention à l'unité

**Résolution de problèmes****Problème n°61**

Un cadre photo rectangulaire a un périmètre de 90 cm. Sa longueur mesure 30 cm.  
Combien mesure sa largeur ?

Comprendre	Entourer	Réfléchir	Vérifier	Ecrire	Attention à l'unité

**Résolution de problèmes****Problème n°61**

Un cadre photo rectangulaire a un périmètre de 90 cm. Sa longueur mesure 30 cm.  
Combien mesure sa largeur ?

Comprendre	Entourer	Réfléchir	Vérifier	Ecrire	Attention à l'unité

**Résolution de problèmes****Problème n°61**

Un cadre photo rectangulaire a un périmètre de 90 cm. Sa longueur mesure 30 cm.  
Combien mesure sa largeur ?

 10 m 60 m 30 m 15 m**Résolution de problèmes****Problème n°61**

Un cadre photo rectangulaire a un périmètre de 90 cm. Sa longueur mesure 30 cm.  
Combien mesure sa largeur ?

 10 m 60 m 30 m 15 m**Résolution de problèmes****Problème n°61**

Un cadre photo rectangulaire a un périmètre de 90 cm. Sa longueur mesure 30 cm.  
Combien mesure sa largeur ?

 10 m 60 m 30 m 15 m**Résolution de problèmes****Problème n°61**

Un cadre photo rectangulaire a un périmètre de 90 cm. Sa longueur mesure 30 cm.  
Combien mesure sa largeur ?

 10 m 60 m 30 m 15 m**Résolution de problèmes****Problème n°61**

Un cadre photo rectangulaire a un périmètre de 90 cm. Sa longueur mesure 30 cm.  
Combien mesure sa largeur ?

 10 m 60 m 30 m 15 m**Résolution de problèmes****Problème n°61**

Un cadre photo rectangulaire a un périmètre de 90 cm. Sa longueur mesure 30 cm.  
Combien mesure sa largeur ?

 10 m 60 m 30 m 15 m

## Valeur d'une part

### Résolution de problèmes

**Problème n°62**

Un paquet de 30 objets identiques pèse 12 kg. Combien pèse un objet ?

Comprendre	Entourer	Réfléchir	Vérifier	Ecrire	Attention à l'unité

### Résolution de problèmes

**Problème n°62**

Un paquet de 30 objets identiques pèse 12 kg. Combien pèse un objet ?

Comprendre	Entourer	Réfléchir	Vérifier	Ecrire	Attention à l'unité

### Résolution de problèmes

**Problème n°62**

Un paquet de 30 objets identiques pèse 12 kg. Combien pèse un objet ?

Comprendre	Entourer	Réfléchir	Vérifier	Ecrire	Attention à l'unité

### Résolution de problèmes

**Problème n°62**

Un paquet de 30 objets identiques pèse 12 kg. Combien pèse un objet ?

Comprendre	Entourer	Réfléchir	Vérifier	Ecrire	Attention à l'unité

### Résolution de problèmes

**Problème n°62**

Un paquet de 30 objets identiques pèse 12 kg. Combien pèse un objet ?

Comprendre	Entourer	Réfléchir	Vérifier	Ecrire	Attention à l'unité

### Résolution de problèmes

**Problème n°62**

Un paquet de 30 objets identiques pèse 12 kg. Combien pèse un objet ?

Comprendre	Entourer	Réfléchir	Vérifier	Ecrire	Attention à l'unité

### Résolution de problèmes

**Problème n°62**

Un paquet de 30 objets identiques pèse 12 kg. Combien pèse un objet ?

Comprendre	Entourer	Réfléchir	Vérifier	Ecrire	Attention à l'unité

**Résolution de problèmes****Problème n°62**

Un paquet de 30 objets identiques pèse 12 kg. Combien pèse un objet ?

 2,5 g 0,4 kg 2,5 kg 0,4 g**Résolution de problèmes****Problème n°62**

Un paquet de 30 objets identiques pèse 12 kg. Combien pèse un objet ?

 2,5 g 0,4 kg 2,5 kg 0,4 g**Résolution de problèmes****Problème n°62**

Un paquet de 30 objets identiques pèse 12 kg. Combien pèse un objet ?

 2,5 g 0,4 kg 2,5 kg 0,4 g**Résolution de problèmes****Problème n°62**

Un paquet de 30 objets identiques pèse 12 kg. Combien pèse un objet ?

 2,5 g 0,4 kg 2,5 kg 0,4 g**Résolution de problèmes****Problème n°62**

Un paquet de 30 objets identiques pèse 12 kg. Combien pèse un objet ?

 2,5 g 0,4 kg 2,5 kg 0,4 g**Résolution de problèmes****Problème n°62**

Un paquet de 30 objets identiques pèse 12 kg. Combien pèse un objet ?

 2,5 g 0,4 kg 2,5 kg 0,4 g**Résolution de problèmes****Problème n°62**

Un paquet de 30 objets identiques pèse 12 kg. Combien pèse un objet ?

 2,5 g 0,4 kg 2,5 kg 0,4 g

**Résolution de problèmes****Problème n°63**

Une caisse de 24 bouteilles identiques pèse 18 kg. Combien pèse une bouteille ?

Comprendre	Entourer	Réfléchir	Vérifier	Ecrire	Attention à l'unité

**Résolution de problèmes****Problème n°63**

Une caisse de 24 bouteilles identiques pèse 18 kg. Combien pèse une bouteille ?

Comprendre	Entourer	Réfléchir	Vérifier	Ecrire	Attention à l'unité

**Résolution de problèmes****Problème n°63**

Une caisse de 24 bouteilles identiques pèse 18 kg. Combien pèse une bouteille ?

Comprendre	Entourer	Réfléchir	Vérifier	Ecrire	Attention à l'unité

**Résolution de problèmes****Problème n°63**

Une caisse de 24 bouteilles identiques pèse 18 kg. Combien pèse une bouteille ?

Comprendre	Entourer	Réfléchir	Vérifier	Ecrire	Attention à l'unité

**Résolution de problèmes****Problème n°63**

Une caisse de 24 bouteilles identiques pèse 18 kg. Combien pèse une bouteille ?

Comprendre	Entourer	Réfléchir	Vérifier	Ecrire	Attention à l'unité

**Résolution de problèmes****Problème n°63**

Une caisse de 24 bouteilles identiques pèse 18 kg. Combien pèse une bouteille ?

Comprendre	Entourer	Réfléchir	Vérifier	Ecrire	Attention à l'unité

**Résolution de problèmes****Problème n°63**

Une caisse de 24 bouteilles identiques pèse 18 kg. Combien pèse une bouteille ?

Comprendre	Entourer	Réfléchir	Vérifier	Ecrire	Attention à l'unité

**Résolution de problèmes****Problème n°63**

Une caisse de 24 bouteilles identiques pèse 18 kg. Combien pèse une bouteille ?

 0,75 kg 1,33 kg 7,5 kg 0,57 kg**Résolution de problèmes****Problème n°63**

Une caisse de 24 bouteilles identiques pèse 18 kg. Combien pèse une bouteille ?

 0,75 kg 1,33 kg 7,5 kg 0,57 kg**Résolution de problèmes****Problème n°63**

Une caisse de 24 bouteilles identiques pèse 18 kg. Combien pèse une bouteille ?

 0,75 kg 1,33 kg 7,5 kg 0,57 kg**Résolution de problèmes****Problème n°63**

Une caisse de 24 bouteilles identiques pèse 18 kg. Combien pèse une bouteille ?

 0,75 kg 1,33 kg 7,5 kg 0,57 kg**Résolution de problèmes****Problème n°63**

Une caisse de 24 bouteilles identiques pèse 18 kg. Combien pèse une bouteille ?

 0,75 kg 1,33 kg 7,5 kg 0,57 kg**Résolution de problèmes****Problème n°63**

Une caisse de 24 bouteilles identiques pèse 18 kg. Combien pèse une bouteille ?

 0,75 kg 1,33 kg 7,5 kg 0,57 kg**Résolution de problèmes****Problème n°63**

Une caisse de 24 bouteilles identiques pèse 18 kg. Combien pèse une bouteille ?

 0,75 kg 1,33 kg 7,5 kg 0,57 kg**Résolution de problèmes****Problème n°63**

Une caisse de 24 bouteilles identiques pèse 18 kg. Combien pèse une bouteille ?

 0,75 kg 1,33 kg 7,5 kg 0,57 kg

**Résolution de problèmes****Problème n°64**

Un carton de 50 livres identiques pèse 25 kg. Combien pèse un livre ?

Comprendre	Entourer	Réfléchir	Vérifier	Ecrire	Attention à l'unité

**Résolution de problèmes****Problème n°64**

Un carton de 50 livres identiques pèse 25 kg. Combien pèse un livre ?

Comprendre	Entourer	Réfléchir	Vérifier	Ecrire	Attention à l'unité

**Résolution de problèmes****Problème n°64**

Un carton de 50 livres identiques pèse 25 kg. Combien pèse un livre ?

Comprendre	Entourer	Réfléchir	Vérifier	Ecrire	Attention à l'unité

**Résolution de problèmes****Problème n°64**

Un carton de 50 livres identiques pèse 25 kg. Combien pèse un livre ?

Comprendre	Entourer	Réfléchir	Vérifier	Ecrire	Attention à l'unité

**Résolution de problèmes****Problème n°64**

Un carton de 50 livres identiques pèse 25 kg. Combien pèse un livre ?

Comprendre	Entourer	Réfléchir	Vérifier	Ecrire	Attention à l'unité

**Résolution de problèmes****Problème n°64**

Un carton de 50 livres identiques pèse 25 kg. Combien pèse un livre ?

Comprendre	Entourer	Réfléchir	Vérifier	Ecrire	Attention à l'unité

**Résolution de problèmes****Problème n°64**

Un carton de 50 livres identiques pèse 25 kg. Combien pèse un livre ?

Comprendre	Entourer	Réfléchir	Vérifier	Ecrire	Attention à l'unité

**Résolution de problèmes****Problème n°64**

Un carton de 50 livres identiques pèse 25 kg. Combien pèse un livre ?

 2,5 kg 2 kg 0,5 kg 0,2 kg**Résolution de problèmes****Problème n°64**

Un carton de 50 livres identiques pèse 25 kg. Combien pèse un livre ?

 2,5 kg 2 kg 0,5 kg 0,2 kg**Résolution de problèmes****Problème n°64**

Un carton de 50 livres identiques pèse 25 kg. Combien pèse un livre ?

 2,5 kg 2 kg 0,5 kg 0,2 kg**Résolution de problèmes****Problème n°64**

Un carton de 50 livres identiques pèse 25 kg. Combien pèse un livre ?

 2,5 kg 2 kg 0,5 kg 0,2 kg**Résolution de problèmes****Problème n°64**

Un carton de 50 livres identiques pèse 25 kg. Combien pèse un livre ?

 2,5 kg 2 kg 0,5 kg 0,2 kg**Résolution de problèmes****Problème n°64**

Un carton de 50 livres identiques pèse 25 kg. Combien pèse un livre ?

 2,5 kg 2 kg 0,5 kg 0,2 kg**Résolution de problèmes****Problème n°64**

Un carton de 50 livres identiques pèse 25 kg. Combien pèse un livre ?

 2,5 kg 2 kg 0,5 kg 0,2 kg**Résolution de problèmes****Problème n°64**

Un carton de 50 livres identiques pèse 25 kg. Combien pèse un livre ?

 2,5 kg 2 kg 0,5 kg 0,2 kg

**Résolution de problèmes****Problème n°65**

Un sachet de 36 billes identiques pèse 720 g. Combien pèse une bille ?

Comprendre	Entourer	Réfléchir	Vérifier	Ecrire	Attention à l'unité

**Résolution de problèmes****Problème n°65**

Un sachet de 36 billes identiques pèse 720 g. Combien pèse une bille ?

Comprendre	Entourer	Réfléchir	Vérifier	Ecrire	Attention à l'unité

**Résolution de problèmes****Problème n°65**

Un sachet de 36 billes identiques pèse 720 g. Combien pèse une bille ?

Comprendre	Entourer	Réfléchir	Vérifier	Ecrire	Attention à l'unité

**Résolution de problèmes****Problème n°65**

Un sachet de 36 billes identiques pèse 720 g. Combien pèse une bille ?

Comprendre	Entourer	Réfléchir	Vérifier	Ecrire	Attention à l'unité

**Résolution de problèmes****Problème n°65**

Un sachet de 36 billes identiques pèse 720 g. Combien pèse une bille ?

Comprendre	Entourer	Réfléchir	Vérifier	Ecrire	Attention à l'unité

**Résolution de problèmes****Problème n°65**

Un sachet de 36 billes identiques pèse 720 g. Combien pèse une bille ?

Comprendre	Entourer	Réfléchir	Vérifier	Ecrire	Attention à l'unité

**Résolution de problèmes****Problème n°65**

Un sachet de 36 billes identiques pèse 720 g. Combien pèse une bille ?

Comprendre	Entourer	Réfléchir	Vérifier	Ecrire	Attention à l'unité

**Résolution de problèmes****Problème n°65**

Un sachet de 36 billes identiques pèse 720 g. Combien pèse une bille ?

 5 g 20 g 0,05 g 2 g**Résolution de problèmes****Problème n°65**

Un sachet de 36 billes identiques pèse 720 g. Combien pèse une bille ?

 5 g 20 g 0,05 g 2 g**Résolution de problèmes****Problème n°65**

Un sachet de 36 billes identiques pèse 720 g. Combien pèse une bille ?

 5 g 20 g 0,05 g 2 g**Résolution de problèmes****Problème n°65**

Un sachet de 36 billes identiques pèse 720 g. Combien pèse une bille ?

 5 g 20 g 0,05 g 2 g**Résolution de problèmes****Problème n°65**

Un sachet de 36 billes identiques pèse 720 g. Combien pèse une bille ?

 5 g 20 g 0,05 g 2 g**Résolution de problèmes****Problème n°65**

Un sachet de 36 billes identiques pèse 720 g. Combien pèse une bille ?

 5 g 20 g 0,05 g 2 g**Résolution de problèmes****Problème n°65**

Un sachet de 36 billes identiques pèse 720 g. Combien pèse une bille ?

 5 g 20 g 0,05 g 2 g**Résolution de problèmes****Problème n°65**

Un sachet de 36 billes identiques pèse 720 g. Combien pèse une bille ?

 5 g 20 g 0,05 g 2 g

**Résolution de problèmes****Problème n°66**

Marie a constaté qu'il faut un litre de lait pour remplir complètement quatre verres identiques. Quelle est la contenance d'un verre ?

Comprendre	Entourer	Réfléchir	Vérifier	Ecrire	Attention à l'unité

**Résolution de problèmes****Problème n°66**

Marie a constaté qu'il faut un litre de lait pour remplir complètement quatre verres identiques. Quelle est la contenance d'un verre ?

Comprendre	Entourer	Réfléchir	Vérifier	Ecrire	Attention à l'unité

**Résolution de problèmes****Problème n°66**

Marie a constaté qu'il faut un litre de lait pour remplir complètement quatre verres identiques. Quelle est la contenance d'un verre ?

Comprendre	Entourer	Réfléchir	Vérifier	Ecrire	Attention à l'unité

**Résolution de problèmes****Problème n°66**

Marie a constaté qu'il faut un litre de lait pour remplir complètement quatre verres identiques. Quelle est la contenance d'un verre ?

Comprendre	Entourer	Réfléchir	Vérifier	Ecrire	Attention à l'unité

**Résolution de problèmes****Problème n°66**

Marie a constaté qu'il faut un litre de lait pour remplir complètement quatre verres identiques. Quelle est la contenance d'un verre ?

Comprendre	Entourer	Réfléchir	Vérifier	Ecrire	Attention à l'unité

**Résolution de problèmes****Problème n°66**

Marie a constaté qu'il faut un litre de lait pour remplir complètement quatre verres identiques. Quelle est la contenance d'un verre ?

Comprendre	Entourer	Réfléchir	Vérifier	Ecrire	Attention à l'unité

**Résolution de problèmes****Problème n°66**

Marie a constaté qu'il faut un litre de lait pour remplir complètement quatre verres identiques. Quelle est la contenance d'un verre ?

- 0,25 cL     25 cL     4 cL     0,04 L

**Résolution de problèmes****Problème n°66**

Marie a constaté qu'il faut un litre de lait pour remplir complètement quatre verres identiques. Quelle est la contenance d'un verre ?

- 0,25 cL     25 cL     4 cL     0,04 L

**Résolution de problèmes****Problème n°66**

Marie a constaté qu'il faut un litre de lait pour remplir complètement quatre verres identiques. Quelle est la contenance d'un verre ?

- 0,25 cL     25 cL     4 cL     0,04 L

**Résolution de problèmes****Problème n°66**

Marie a constaté qu'il faut un litre de lait pour remplir complètement quatre verres identiques. Quelle est la contenance d'un verre ?

- 0,25 cL     25 cL     4 cL     0,04 L

**Résolution de problèmes****Problème n°66**

Marie a constaté qu'il faut un litre de lait pour remplir complètement quatre verres identiques. Quelle est la contenance d'un verre ?

- 0,25 cL     25 cL     4 cL     0,04 L

**Résolution de problèmes****Problème n°66**

Marie a constaté qu'il faut un litre de lait pour remplir complètement quatre verres identiques. Quelle est la contenance d'un verre ?

- 0,25 cL     25 cL     4 cL     0,04 L

**Résolution de problèmes****Problème n°66**

Marie a constaté qu'il faut un litre de lait pour remplir complètement quatre verres identiques. Quelle est la contenance d'un verre ?

- 0,25 cL     25 cL     4 cL     0,04 L

**Résolution de problèmes****Problème n°66**

Marie a constaté qu'il faut un litre de lait pour remplir complètement quatre verres identiques. Quelle est la contenance d'un verre ?

- 0,25 cL     25 cL     4 cL     0,04 L

**Résolution de problèmes****Problème n°67**

Une bouteille de 150 cl permet de remplir exactement 6 gourdes identiques.  
Quelle est la contenance d'une gourde ?

Comprendre	Entourer	Réfléchir	Vérifier	Ecrire	Attention à l'unité

**Résolution de problèmes****Problème n°67**

Une bouteille de 150 cl permet de remplir exactement 6 gourdes identiques.  
Quelle est la contenance d'une gourde ?

Comprendre	Entourer	Réfléchir	Vérifier	Ecrire	Attention à l'unité

**Résolution de problèmes****Problème n°67**

Une bouteille de 150 cl permet de remplir exactement 6 gourdes identiques.  
Quelle est la contenance d'une gourde ?

Comprendre	Entourer	Réfléchir	Vérifier	Ecrire	Attention à l'unité

**Résolution de problèmes****Problème n°67**

Une bouteille de 150 cl permet de remplir exactement 6 gourdes identiques.  
Quelle est la contenance d'une gourde ?

Comprendre	Entourer	Réfléchir	Vérifier	Ecrire	Attention à l'unité

**Résolution de problèmes****Problème n°67**

Une bouteille de 150 cl permet de remplir exactement 6 gourdes identiques.  
Quelle est la contenance d'une gourde ?

Comprendre	Entourer	Réfléchir	Vérifier	Ecrire	Attention à l'unité

**Résolution de problèmes****Problème n°67**

Une bouteille de 150 cl permet de remplir exactement 6 gourdes identiques.  
Quelle est la contenance d'une gourde ?

Comprendre	Entourer	Réfléchir	Vérifier	Ecrire	Attention à l'unité

**Résolution de problèmes****Problème n°67**

Une bouteille de 150 cl permet de remplir exactement 6 gourdes identiques.  
Quelle est la contenance d'une gourde ?

 9,5 cl 25 cl 2,5 cl 90 cl**Résolution de problèmes****Problème n°67**

Une bouteille de 150 cl permet de remplir exactement 6 gourdes identiques.  
Quelle est la contenance d'une gourde ?

 9,5 cl 25 cl 2,5 cl 90 cl**Résolution de problèmes****Problème n°67**

Une bouteille de 150 cl permet de remplir exactement 6 gourdes identiques.  
Quelle est la contenance d'une gourde ?

 9,5 cl 25 cl 2,5 cl 90 cl**Résolution de problèmes****Problème n°67**

Une bouteille de 150 cl permet de remplir exactement 6 gourdes identiques.  
Quelle est la contenance d'une gourde ?

 9,5 cl 25 cl 2,5 cl 90 cl**Résolution de problèmes****Problème n°67**

Une bouteille de 150 cl permet de remplir exactement 6 gourdes identiques.  
Quelle est la contenance d'une gourde ?

 9,5 cl 25 cl 2,5 cl 90 cl**Résolution de problèmes****Problème n°67**

Une bouteille de 150 cl permet de remplir exactement 6 gourdes identiques.  
Quelle est la contenance d'une gourde ?

 9,5 cl 25 cl 2,5 cl 90 cl**Résolution de problèmes****Problème n°67**

Une bouteille de 150 cl permet de remplir exactement 6 gourdes identiques.  
Quelle est la contenance d'une gourde ?

 9,5 cl 25 cl 2,5 cl 90 cl

**Résolution de problèmes****Problème n°68**

Un boulanger utilise 1 kg de farine pour remplir 8 sacs identiques.  
Quelle quantité de farine contient un sac ?

Comprendre	Entourer	Réfléchir	Vérifier	Ecrire	Attention à l'unité

**Résolution de problèmes****Problème n°68**

Un boulanger utilise 1 kg de farine pour remplir 8 sacs identiques.  
Quelle quantité de farine contient un sac ?

Comprendre	Entourer	Réfléchir	Vérifier	Ecrire	Attention à l'unité

**Résolution de problèmes****Problème n°68**

Un boulanger utilise 1 kg de farine pour remplir 8 sacs identiques.  
Quelle quantité de farine contient un sac ?

Comprendre	Entourer	Réfléchir	Vérifier	Ecrire	Attention à l'unité

**Résolution de problèmes****Problème n°68**

Un boulanger utilise 1 kg de farine pour remplir 8 sacs identiques.  
Quelle quantité de farine contient un sac ?

Comprendre	Entourer	Réfléchir	Vérifier	Ecrire	Attention à l'unité

**Résolution de problèmes****Problème n°68**

Un boulanger utilise 1 kg de farine pour remplir 8 sacs identiques.  
Quelle quantité de farine contient un sac ?

Comprendre	Entourer	Réfléchir	Vérifier	Ecrire	Attention à l'unité

**Résolution de problèmes****Problème n°68**

Un boulanger utilise 1 kg de farine pour remplir 8 sacs identiques.  
Quelle quantité de farine contient un sac ?

Comprendre	Entourer	Réfléchir	Vérifier	Ecrire	Attention à l'unité

**Résolution de problèmes****Problème n°68**

Un boulanger utilise 1 kg de farine pour remplir 8 sacs identiques.  
Quelle quantité de farine contient un sac ?

 125 g 1,25 g 12,5 g 0,125 g**Résolution de problèmes****Problème n°68**

Un boulanger utilise 1 kg de farine pour remplir 8 sacs identiques.  
Quelle quantité de farine contient un sac ?

 125 g 1,25 g 12,5 g 0,125 g**Résolution de problèmes****Problème n°68**

Un boulanger utilise 1 kg de farine pour remplir 8 sacs identiques.  
Quelle quantité de farine contient un sac ?

 125 g 1,25 g 12,5 g 0,125 g**Résolution de problèmes****Problème n°68**

Un boulanger utilise 1 kg de farine pour remplir 8 sacs identiques.  
Quelle quantité de farine contient un sac ?

 125 g 1,25 g 12,5 g 0,125 g**Résolution de problèmes****Problème n°68**

Un boulanger utilise 1 kg de farine pour remplir 8 sacs identiques.  
Quelle quantité de farine contient un sac ?

 125 g 1,25 g 12,5 g 0,125 g**Résolution de problèmes****Problème n°68**

Un boulanger utilise 1 kg de farine pour remplir 8 sacs identiques.  
Quelle quantité de farine contient un sac ?

 125 g 1,25 g 12,5 g 0,125 g

**Résolution de problèmes****Problème n°69**

Une gourde d'un litre permet de remplir complètement 5 verres identiques.  
Quelle est la contenance d'un verre ?

Comprendre	Entourer	Réfléchir	Vérifier	Ecrire	Attention à l'unité

**Résolution de problèmes****Problème n°69**

Une gourde d'un litre permet de remplir complètement 5 verres identiques.  
Quelle est la contenance d'un verre ?

Comprendre	Entourer	Réfléchir	Vérifier	Ecrire	Attention à l'unité

**Résolution de problèmes****Problème n°69**

Une gourde d'un litre permet de remplir complètement 5 verres identiques.  
Quelle est la contenance d'un verre ?

Comprendre	Entourer	Réfléchir	Vérifier	Ecrire	Attention à l'unité

**Résolution de problèmes****Problème n°69**

Une gourde d'un litre permet de remplir complètement 5 verres identiques.  
Quelle est la contenance d'un verre ?

Comprendre	Entourer	Réfléchir	Vérifier	Ecrire	Attention à l'unité

**Résolution de problèmes****Problème n°69**

Une gourde d'un litre permet de remplir complètement 5 verres identiques.  
Quelle est la contenance d'un verre ?

Comprendre	Entourer	Réfléchir	Vérifier	Ecrire	Attention à l'unité

**Résolution de problèmes****Problème n°69**

Une gourde d'un litre permet de remplir complètement 5 verres identiques.  
Quelle est la contenance d'un verre ?

Comprendre	Entourer	Réfléchir	Vérifier	Ecrire	Attention à l'unité

**Résolution de problèmes****Problème n°69**

Une gourde d'un litre permet de remplir complètement 5 verres identiques.  
Quelle est la contenance d'un verre ?

 2 cl 200 cl 0,2 cl 20 cl**Résolution de problèmes****Problème n°69**

Une gourde d'un litre permet de remplir complètement 5 verres identiques.  
Quelle est la contenance d'un verre ?

 2 cl 200 cl 0,2 cl 20 cl**Résolution de problèmes****Problème n°69**

Une gourde d'un litre permet de remplir complètement 5 verres identiques.  
Quelle est la contenance d'un verre ?

 2 cl 200 cl 0,2 cl 20 cl**Résolution de problèmes****Problème n°69**

Une gourde d'un litre permet de remplir complètement 5 verres identiques.  
Quelle est la contenance d'un verre ?

 2 cl 200 cl 0,2 cl 20 cl**Résolution de problèmes****Problème n°69**

Une gourde d'un litre permet de remplir complètement 5 verres identiques.  
Quelle est la contenance d'un verre ?

 2 cl 200 cl 0,2 cl 20 cl**Résolution de problèmes****Problème n°69**

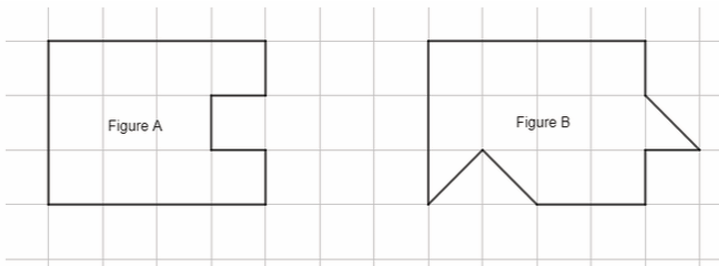
Une gourde d'un litre permet de remplir complètement 5 verres identiques.  
Quelle est la contenance d'un verre ?

 2 cl 200 cl 0,2 cl 20 cl

## Résolution de problèmes

## Problème n°70

Observer les figures ci-dessous.



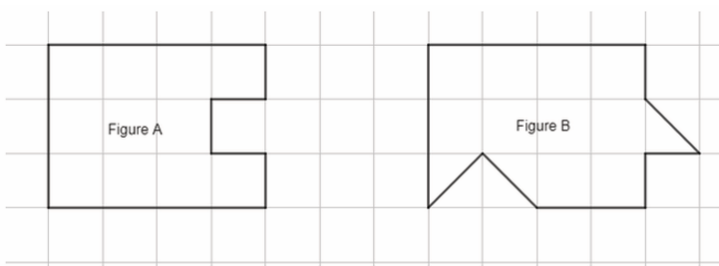
Laquelle de ces quatre affirmations est vraie ?

- L'aire de la figure A est plus grande que celle de la figure B.
- L'aire de la figure A est plus petite que celle de la figure B.
- L'aire de la figure A est la même que celle de la figure B.
- On ne peut pas savoir quelle est la plus grande aire car les deux figures ne sont pas superposables.

## Résolution de problèmes

## Problème n°70

Observer les figures ci-dessous.



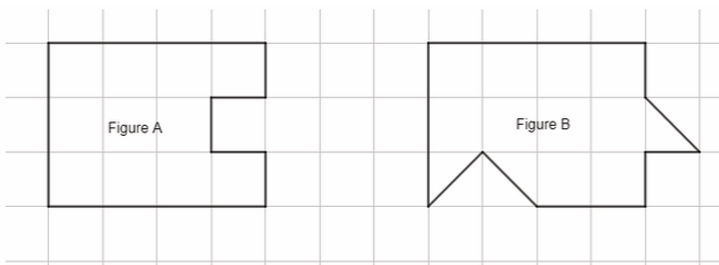
Laquelle de ces quatre affirmations est vraie ?

- L'aire de la figure A est plus grande que celle de la figure B.
- L'aire de la figure A est plus petite que celle de la figure B.
- L'aire de la figure A est la même que celle de la figure B.
- On ne peut pas savoir quelle est la plus grande aire car les deux figures ne sont pas superposables.

## Résolution de problèmes

## Problème n°70

Observer les figures ci-dessous.



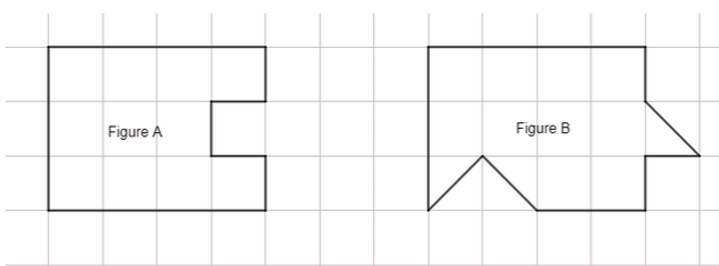
Laquelle de ces quatre affirmations est vraie ?

- L'aire de la figure A est plus grande que celle de la figure B.
- L'aire de la figure A est plus petite que celle de la figure B.
- L'aire de la figure A est la même que celle de la figure B.
- On ne peut pas savoir quelle est la plus grande aire car les deux figures ne sont pas superposables.

## Résolution de problèmes

## Problème n°70

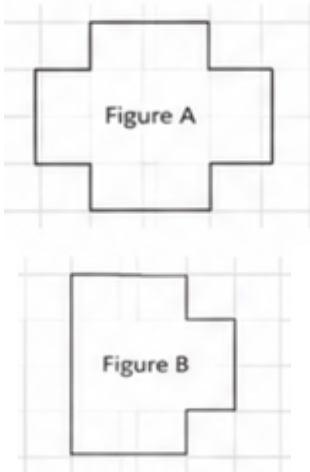
Observer les figures ci-dessous.



Laquelle de ces quatre affirmations est vraie ?

- L'aire de la figure A est plus grande que celle de la figure B.
- L'aire de la figure A est plus petite que celle de la figure B.
- L'aire de la figure A est la même que celle de la figure B.
- On ne peut pas savoir quelle est la plus grande aire car les deux figures ne sont pas superposables.

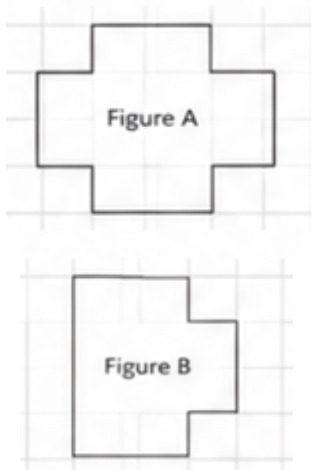
Observer les figures ci-dessous.



**Laquelle de ces quatre affirmations est vraie ?**

- L'aire de la figure A est plus grande que celle de la figure B.
- L'aire de la figure A est plus petite que celle de la figure B.
- L'aire de la figure A est la même que celle de la figure B.
- On ne peut pas savoir quelle est la plus grande aire car les deux figures ne sont pas superposables.

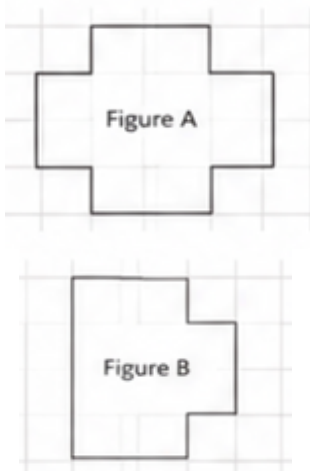
Observer les figures ci-dessous.



**Laquelle de ces quatre affirmations est vraie ?**

- L'aire de la figure A est plus grande que celle de la figure B.
- L'aire de la figure A est plus petite que celle de la figure B.
- L'aire de la figure A est la même que celle de la figure B.
- On ne peut pas savoir quelle est la plus grande aire car les deux figures ne sont pas superposables.

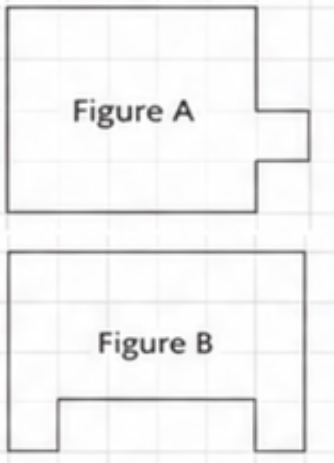
Observer les figures ci-dessous.



**Laquelle de ces quatre affirmations est vraie ?**

- L'aire de la figure A est plus grande que celle de la figure B.
- L'aire de la figure A est plus petite que celle de la figure B.
- L'aire de la figure A est la même que celle de la figure B.
- On ne peut pas savoir quelle est la plus grande aire car les deux figures ne sont pas superposables.

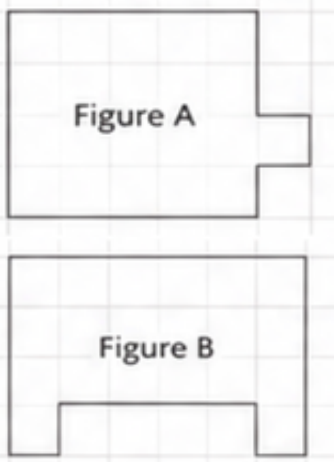
Observer les figures ci-dessous.



**Laquelle de ces quatre affirmations est vraie ?**

- L'aire de la figure A est plus grande que celle de la figure B.
- L'aire de la figure A est plus petite que celle de la figure B.
- L'aire de la figure A est la même que celle de la figure B.
- On ne peut pas savoir quelle est la plus grande aire car les deux figures ne sont pas superposables.

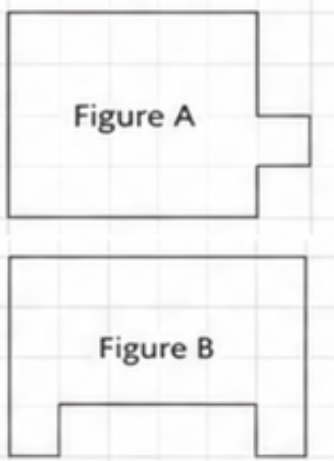
Observer les figures ci-dessous.



**Laquelle de ces quatre affirmations est vraie ?**

- L'aire de la figure A est plus grande que celle de la figure B.
- L'aire de la figure A est plus petite que celle de la figure B.
- L'aire de la figure A est la même que celle de la figure B.
- On ne peut pas savoir quelle est la plus grande aire car les deux figures ne sont pas superposables.

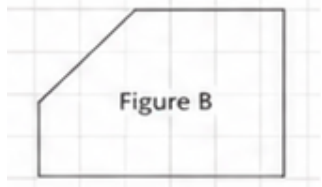
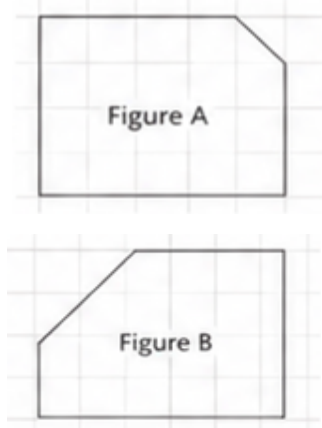
Observer les figures ci-dessous.



**Laquelle de ces quatre affirmations est vraie ?**

- L'aire de la figure A est plus grande que celle de la figure B.
- L'aire de la figure A est plus petite que celle de la figure B.
- L'aire de la figure A est la même que celle de la figure B.
- On ne peut pas savoir quelle est la plus grande aire car les deux figures ne sont pas superposables.

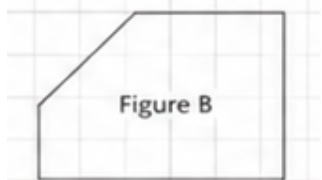
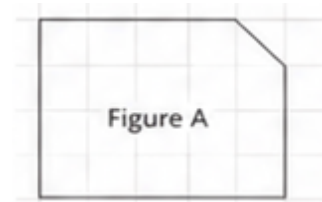
Observer les figures ci-dessous.



**Laquelle de ces quatre affirmations est vraie ?**

- L'aire de la figure A est plus grande que celle de la figure B.
- L'aire de la figure A est plus petite que celle de la figure B.
- L'aire de la figure A est la même que celle de la figure B.
- On ne peut pas savoir quelle est la plus grande aire car les deux figures ne sont pas superposables.

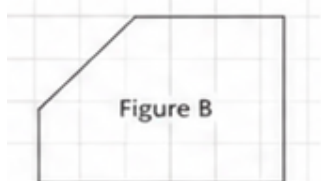
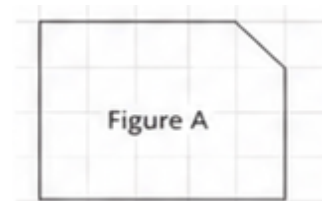
Observer les figures ci-dessous.



**Laquelle de ces quatre affirmations est vraie ?**

- L'aire de la figure A est plus grande que celle de la figure B.
- L'aire de la figure A est plus petite que celle de la figure B.
- L'aire de la figure A est la même que celle de la figure B.
- On ne peut pas savoir quelle est la plus grande aire car les deux figures ne sont pas superposables.

Observer les figures ci-dessous.



**Laquelle de ces quatre affirmations est vraie ?**

- L'aire de la figure A est plus grande que celle de la figure B.
- L'aire de la figure A est plus petite que celle de la figure B.
- L'aire de la figure A est la même que celle de la figure B.
- On ne peut pas savoir quelle est la plus grande aire car les deux figures ne sont pas superposables.

**Résolution de problèmes**

**Problème n°74**

Le cours de mathématiques dure 55 minutes. Aujourd'hui, le professeur a débuté par des activités mentales qui ont duré un quart d'heure. Le reste du temps, à partir de 10 h 10, a été consacré à résoudre des problèmes.

À quelle heure le cours s'est-il terminé ?

Comprendre	Entourer	Réfléchir	Vérifier	Ecrire	Attention à l'unité

**Résolution de problèmes**

**Problème n°74**

Le cours de mathématiques dure 55 minutes. Aujourd'hui, le professeur a débuté par des activités mentales qui ont duré un quart d'heure. Le reste du temps, à partir de 10 h 10, a été consacré à résoudre des problèmes.

À quelle heure le cours s'est-il terminé ?

Comprendre	Entourer	Réfléchir	Vérifier	Ecrire	Attention à l'unité

**Résolution de problèmes**

**Problème n°74**

Le cours de mathématiques dure 55 minutes. Aujourd'hui, le professeur a débuté par des activités mentales qui ont duré un quart d'heure. Le reste du temps, à partir de 10 h 10, a été consacré à résoudre des problèmes.

À quelle heure le cours s'est-il terminé ?

Comprendre	Entourer	Réfléchir	Vérifier	Ecrire	Attention à l'unité

**Résolution de problèmes**

**Problème n°74**

Le cours de mathématiques dure 55 minutes. Aujourd'hui, le professeur a débuté par des activités mentales qui ont duré un quart d'heure. Le reste du temps, à partir de 10 h 10, a été consacré à résoudre des problèmes.

À quelle heure le cours s'est-il terminé ?

Comprendre	Entourer	Réfléchir	Vérifier	Ecrire	Attention à l'unité

**Résolution de problèmes**

**Problème n°74**

Le cours de mathématiques dure 55 minutes. Aujourd'hui, le professeur a débuté par des activités mentales qui ont duré un quart d'heure. Le reste du temps, à partir de 10 h 10, a été consacré à résoudre des problèmes.

À quelle heure le cours s'est-il terminé ?

Comprendre	Entourer	Réfléchir	Vérifier	Ecrire	Attention à l'unité

**Résolution de problèmes****Problème n°74**

Le cours de mathématiques dure 55 minutes. Aujourd'hui, le professeur a débuté par des activités mentales qui ont duré un quart d'heure. Le reste du temps, à partir de 10 h 10, a été consacré à résoudre des problèmes.

À quelle heure le cours s'est-il terminé ?

 10 h 50 10 h 25 11 h 20 11 h 05**Résolution de problèmes****Problème n°74**

Le cours de mathématiques dure 55 minutes. Aujourd'hui, le professeur a débuté par des activités mentales qui ont duré un quart d'heure. Le reste du temps, à partir de 10 h 10, a été consacré à résoudre des problèmes.

À quelle heure le cours s'est-il terminé ?

 10 h 50 10 h 25 11 h 20 11 h 05**Résolution de problèmes****Problème n°74**

Le cours de mathématiques dure 55 minutes. Aujourd'hui, le professeur a débuté par des activités mentales qui ont duré un quart d'heure. Le reste du temps, à partir de 10 h 10, a été consacré à résoudre des problèmes.

À quelle heure le cours s'est-il terminé ?

 10 h 50 10 h 25 11 h 20 11 h 05**Résolution de problèmes****Problème n°74**

Le cours de mathématiques dure 55 minutes. Aujourd'hui, le professeur a débuté par des activités mentales qui ont duré un quart d'heure. Le reste du temps, à partir de 10 h 10, a été consacré à résoudre des problèmes.

À quelle heure le cours s'est-il terminé ?

 10 h 50 10 h 25 11 h 20 11 h 05**Résolution de problèmes****Problème n°74**

Le cours de mathématiques dure 55 minutes. Aujourd'hui, le professeur a débuté par des activités mentales qui ont duré un quart d'heure. Le reste du temps, à partir de 10 h 10, a été consacré à résoudre des problèmes.

À quelle heure le cours s'est-il terminé ?

 10 h 50 10 h 25 11 h 20 11 h 05

**Résolution de problèmes****Problème n°75**

Léa part en randonnée à 9 h 15. Elle marche pendant 2 heures et 45 minutes, avec une pause de 15 minutes incluse dans ce temps.

À quelle heure arrive-t-elle à destination ?

Comprendre	Entourer	Réfléchir	Vérifier	Ecrire	Attention à l'unité

**Résolution de problèmes****Problème n°75**

Léa part en randonnée à 9 h 15. Elle marche pendant 2 heures et 45 minutes, avec une pause de 15 minutes incluse dans ce temps.

À quelle heure arrive-t-elle à destination ?

Comprendre	Entourer	Réfléchir	Vérifier	Ecrire	Attention à l'unité

**Résolution de problèmes****Problème n°75**

Léa part en randonnée à 9 h 15. Elle marche pendant 2 heures et 45 minutes, avec une pause de 15 minutes incluse dans ce temps.

À quelle heure arrive-t-elle à destination ?

Comprendre	Entourer	Réfléchir	Vérifier	Ecrire	Attention à l'unité

**Résolution de problèmes****Problème n°75**

Léa part en randonnée à 9 h 15. Elle marche pendant 2 heures et 45 minutes, avec une pause de 15 minutes incluse dans ce temps.

À quelle heure arrive-t-elle à destination ?

Comprendre	Entourer	Réfléchir	Vérifier	Ecrire	Attention à l'unité

**Résolution de problèmes****Problème n°75**

Léa part en randonnée à 9 h 15. Elle marche pendant 2 heures et 45 minutes, avec une pause de 15 minutes incluse dans ce temps.

À quelle heure arrive-t-elle à destination ?

Comprendre	Entourer	Réfléchir	Vérifier	Ecrire	Attention à l'unité

**Résolution de problèmes****Problème n°75**

Léa part en randonnée à 9 h 15. Elle marche pendant 2 heures et 45 minutes, avec une pause de 15 minutes incluse dans ce temps.

À quelle heure arrive-t-elle à destination ?

 12h 12h15 11h45 12h30**Résolution de problèmes****Problème n°75**

Léa part en randonnée à 9 h 15. Elle marche pendant 2 heures et 45 minutes, avec une pause de 15 minutes incluse dans ce temps.

À quelle heure arrive-t-elle à destination ?

 12h 12h15 11h45 12h30**Résolution de problèmes****Problème n°75**

Léa part en randonnée à 9 h 15. Elle marche pendant 2 heures et 45 minutes, avec une pause de 15 minutes incluse dans ce temps.

À quelle heure arrive-t-elle à destination ?

 12h 12h15 11h45 12h30**Résolution de problèmes****Problème n°75**

Léa part en randonnée à 9 h 15. Elle marche pendant 2 heures et 45 minutes, avec une pause de 15 minutes incluse dans ce temps.

À quelle heure arrive-t-elle à destination ?

 12h 12h15 11h45 12h30**Résolution de problèmes****Problème n°75**

Léa part en randonnée à 9 h 15. Elle marche pendant 2 heures et 45 minutes, avec une pause de 15 minutes incluse dans ce temps.

À quelle heure arrive-t-elle à destination ?

 12h 12h15 11h45 12h30

**Résolution de problèmes****Problème n°76**

Un film dure 1 heure et 50 minutes. Il commence à 20 h 25 et il y a une publicité de 10 minutes avant le début du film. À quelle heure la séance se termine-t-elle ?

Comprendre	Entourer	Réfléchir	Vérifier	Ecrire	Attention à l'unité

**Résolution de problèmes****Problème n°76**

Un film dure 1 heure et 50 minutes. Il commence à 20 h 25 et il y a une publicité de 10 minutes avant le début du film. À quelle heure la séance se termine-t-elle ?

Comprendre	Entourer	Réfléchir	Vérifier	Ecrire	Attention à l'unité

**Résolution de problèmes****Problème n°76**

Un film dure 1 heure et 50 minutes. Il commence à 20 h 25 et il y a une publicité de 10 minutes avant le début du film. À quelle heure la séance se termine-t-elle ?

Comprendre	Entourer	Réfléchir	Vérifier	Ecrire	Attention à l'unité

**Résolution de problèmes****Problème n°76**

Un film dure 1 heure et 50 minutes. Il commence à 20 h 25 et il y a une publicité de 10 minutes avant le début du film. À quelle heure la séance se termine-t-elle ?

Comprendre	Entourer	Réfléchir	Vérifier	Ecrire	Attention à l'unité

**Résolution de problèmes****Problème n°76**

Un film dure 1 heure et 50 minutes. Il commence à 20 h 25 et il y a une publicité de 10 minutes avant le début du film. À quelle heure la séance se termine-t-elle ?

Comprendre	Entourer	Réfléchir	Vérifier	Ecrire	Attention à l'unité

**Résolution de problèmes****Problème n°76**

Un film dure 1 heure et 50 minutes. Il commence à 20 h 25 et il y a une publicité de 10 minutes avant le début du film. À quelle heure la séance se termine-t-elle ?

Comprendre	Entourer	Réfléchir	Vérifier	Ecrire	Attention à l'unité

**Résolution de problèmes****Problème n°76**

Un film dure 1 heure et 50 minutes. Il commence à 20 h 25 et il y a une publicité de 10 minutes avant le début du film. À quelle heure la séance se termine-t-elle ?

 22h25 22h15 22h 22h30**Résolution de problèmes****Problème n°76**

Un film dure 1 heure et 50 minutes. Il commence à 20 h 25 et il y a une publicité de 10 minutes avant le début du film. À quelle heure la séance se termine-t-elle ?

 22h25 22h15 22h 22h30**Résolution de problèmes****Problème n°76**

Un film dure 1 heure et 50 minutes. Il commence à 20 h 25 et il y a une publicité de 10 minutes avant le début du film. À quelle heure la séance se termine-t-elle ?

 22h25 22h15 22h 22h30**Résolution de problèmes****Problème n°76**

Un film dure 1 heure et 50 minutes. Il commence à 20 h 25 et il y a une publicité de 10 minutes avant le début du film. À quelle heure la séance se termine-t-elle ?

 22h25 22h15 22h 22h30**Résolution de problèmes****Problème n°76**

Un film dure 1 heure et 50 minutes. Il commence à 20 h 25 et il y a une publicité de 10 minutes avant le début du film. À quelle heure la séance se termine-t-elle ?

 22h25 22h15 22h 22h30**Résolution de problèmes****Problème n°76**

Un film dure 1 heure et 50 minutes. Il commence à 20 h 25 et il y a une publicité de 10 minutes avant le début du film. À quelle heure la séance se termine-t-elle ?

 22h25 22h15 22h 22h30

**Résolution de problèmes****Problème n°77**

Le trajet en train dure 3 heures et 15 minutes. Le train part à 7 h 40 et s'arrête 20 minutes en gare pendant le voyage. À quelle heure arrive-t-il ?

Comprendre	Entourer	Réfléchir	Vérifier	Ecrire	Attention à l'unité

**Résolution de problèmes****Problème n°77**

Le trajet en train dure 3 heures et 15 minutes. Le train part à 7 h 40 et s'arrête 20 minutes en gare pendant le voyage. À quelle heure arrive-t-il ?

Comprendre	Entourer	Réfléchir	Vérifier	Ecrire	Attention à l'unité

**Résolution de problèmes****Problème n°77**

Le trajet en train dure 3 heures et 15 minutes. Le train part à 7 h 40 et s'arrête 20 minutes en gare pendant le voyage. À quelle heure arrive-t-il ?

Comprendre	Entourer	Réfléchir	Vérifier	Ecrire	Attention à l'unité

**Résolution de problèmes****Problème n°77**

Le trajet en train dure 3 heures et 15 minutes. Le train part à 7 h 40 et s'arrête 20 minutes en gare pendant le voyage. À quelle heure arrive-t-il ?

Comprendre	Entourer	Réfléchir	Vérifier	Ecrire	Attention à l'unité

**Résolution de problèmes****Problème n°77**

Le trajet en train dure 3 heures et 15 minutes. Le train part à 7 h 40 et s'arrête 20 minutes en gare pendant le voyage. À quelle heure arrive-t-il ?

Comprendre	Entourer	Réfléchir	Vérifier	Ecrire	Attention à l'unité

**Résolution de problèmes****Problème n°77**

Le trajet en train dure 3 heures et 15 minutes. Le train part à 7 h 40 et s'arrête 20 minutes en gare pendant le voyage. À quelle heure arrive-t-il ?

Comprendre	Entourer	Réfléchir	Vérifier	Ecrire	Attention à l'unité

**Résolution de problèmes****Problème n°77**

Le trajet en train dure 3 heures et 15 minutes. Le train part à 7 h 40 et s'arrête 20 minutes en gare pendant le voyage. À quelle heure arrive-t-il ?

 11h 11h30 10h15 11h15**Résolution de problèmes****Problème n°77**

Le trajet en train dure 3 heures et 15 minutes. Le train part à 7 h 40 et s'arrête 20 minutes en gare pendant le voyage. À quelle heure arrive-t-il ?

 11h 11h30 10h15 11h15**Résolution de problèmes****Problème n°77**

Le trajet en train dure 3 heures et 15 minutes. Le train part à 7 h 40 et s'arrête 20 minutes en gare pendant le voyage. À quelle heure arrive-t-il ?

 11h 11h30 10h15 11h15**Résolution de problèmes****Problème n°77**

Le trajet en train dure 3 heures et 15 minutes. Le train part à 7 h 40 et s'arrête 20 minutes en gare pendant le voyage. À quelle heure arrive-t-il ?

 11h 11h30 10h15 11h15**Résolution de problèmes****Problème n°77**

Le trajet en train dure 3 heures et 15 minutes. Le train part à 7 h 40 et s'arrête 20 minutes en gare pendant le voyage. À quelle heure arrive-t-il ?

 11h 11h30 10h15 11h15**Résolution de problèmes****Problème n°77**

Le trajet en train dure 3 heures et 15 minutes. Le train part à 7 h 40 et s'arrête 20 minutes en gare pendant le voyage. À quelle heure arrive-t-il ?

 11h 11h30 10h15 11h15

**Résolution de problèmes****Problème n°78**

Une piscine ouvre à 10 h. Nina nage pendant 1 heure et 10 minutes puis se repose 20 minutes avant de nager encore 30 minutes. À quelle heure quitte-t-elle la piscine ?

Comprendre	Entourer	Réfléchir	Vérifier	Ecrire	Attention à l'unité

**Résolution de problèmes****Problème n°78**

Une piscine ouvre à 10 h. Nina nage pendant 1 heure et 10 minutes puis se repose 20 minutes avant de nager encore 30 minutes. À quelle heure quitte-t-elle la piscine ?

Comprendre	Entourer	Réfléchir	Vérifier	Ecrire	Attention à l'unité

**Résolution de problèmes****Problème n°78**

Une piscine ouvre à 10 h. Nina nage pendant 1 heure et 10 minutes puis se repose 20 minutes avant de nager encore 30 minutes. À quelle heure quitte-t-elle la piscine ?

Comprendre	Entourer	Réfléchir	Vérifier	Ecrire	Attention à l'unité

**Résolution de problèmes****Problème n°78**

Une piscine ouvre à 10 h. Nina nage pendant 1 heure et 10 minutes puis se repose 20 minutes avant de nager encore 30 minutes. À quelle heure quitte-t-elle la piscine ?

Comprendre	Entourer	Réfléchir	Vérifier	Ecrire	Attention à l'unité

**Résolution de problèmes****Problème n°78**

Une piscine ouvre à 10 h. Nina nage pendant 1 heure et 10 minutes puis se repose 20 minutes avant de nager encore 30 minutes. À quelle heure quitte-t-elle la piscine ?

Comprendre	Entourer	Réfléchir	Vérifier	Ecrire	Attention à l'unité

**Résolution de problèmes****Problème n°78**

Une piscine ouvre à 10 h. Nina nage pendant 1 heure et 10 minutes puis se repose 20 minutes avant de nager encore 30 minutes. À quelle heure quitte-t-elle la piscine ?

Comprendre	Entourer	Réfléchir	Vérifier	Ecrire	Attention à l'unité

**Résolution de problèmes****Problème n°78**

Une piscine ouvre à 10 h. Nina nage pendant 1 heure et 10 minutes puis se repose 20 minutes avant de nager encore 30 minutes. À quelle heure quitte-t-elle la piscine ?

 12h 11h10 11h30 11h40**Résolution de problèmes****Problème n°78**

Une piscine ouvre à 10 h. Nina nage pendant 1 heure et 10 minutes puis se repose 20 minutes avant de nager encore 30 minutes. À quelle heure quitte-t-elle la piscine ?

 12h 11h10 11h30 11h40**Résolution de problèmes****Problème n°78**

Une piscine ouvre à 10 h. Nina nage pendant 1 heure et 10 minutes puis se repose 20 minutes avant de nager encore 30 minutes. À quelle heure quitte-t-elle la piscine ?

 12h 11h10 11h30 11h40**Résolution de problèmes****Problème n°78**

Une piscine ouvre à 10 h. Nina nage pendant 1 heure et 10 minutes puis se repose 20 minutes avant de nager encore 30 minutes. À quelle heure quitte-t-elle la piscine ?

 12h 11h10 11h30 11h40**Résolution de problèmes****Problème n°78**

Une piscine ouvre à 10 h. Nina nage pendant 1 heure et 10 minutes puis se repose 20 minutes avant de nager encore 30 minutes. À quelle heure quitte-t-elle la piscine ?

 12h 11h10 11h30 11h40**Résolution de problèmes****Problème n°78**

Une piscine ouvre à 10 h. Nina nage pendant 1 heure et 10 minutes puis se repose 20 minutes avant de nager encore 30 minutes. À quelle heure quitte-t-elle la piscine ?

 12h 11h10 11h30 11h40